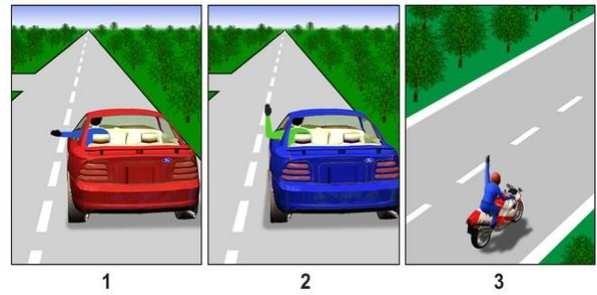


<p>رانندگان وسایل نقلیه عمومی که در مسیر قید شده حرکت می کنند، ضمن نزدیک شدن به وسیله نقلیه ای که چراغ گردان قرمز چشمک زن را روشن کرده و در حالت ایستاده است، باید:</p> <p>1. ایست کرده و تنها پس از دریافت اجازه به حرکت خود ادامه دهند.</p> <p>2. از سرعت خود بکاهند تا در صورت لزوم ایست سریع برایشان امکان پذیر باشد.</p> <p>3. به حرکت ادامه دهند چون در مسیر تعیین شده در حال حرکتند.</p> <p>پاسخ : 1</p>	<p>رانندگان وسایل نقلیه عمومی در صورت نزدیک شدن وسیله نقلیه ای که چراغ گردان آبی چشمک زن و علامت صوتی هشدار دهنده را روشن کرده، باید:</p> <p>1. به حرکت ادامه دهند چون در مسیر تعیین شده در حال حرکتند.</p> <p>2. حق تقدم را رعایت کنند تا عبور بلامانع وسیله نقلیه یاد شده تأمین شود.</p> <p>از سرعت خود بکاهند و حق تقدم را رعایت کنند تا عبور بلامانع وسیله نقلیه یاد شده را تأمین کنند.</p> <p>پاسخ : 2</p>
<p>علامت صوتی هشدار دهنده در چه حالت می توانند از سوی رانندگان وسایل نقلیه عمومی بکار روند؟</p> <p>1. بمنظور بهره مند شدن از حق تقدم نسبت به سایر ترددکنندگان.</p> <p>2. در اماکن مسکونی جهت هشدار دادن به سایر رانندگان درباره قصد سبقت گرفتن.</p> <p>3. زمانی که این کار برای پیشگیری از تصادف رانندگی الزامی است.</p> <p>4. در تمامی حالات.</p> <p>پاسخ : 3</p>	<p>بر روی اتوبوس در حال تردد در مسیر تعیین شده در بخش های بدون روشنایی در ساعات تاریک روز باید کدامیک از موارد زیر روشن باشد؟</p> <p>1. از چراغ ها فقط نور پایین .</p> <p>2. از چراغ ها فقط نور بالا.</p> <p>3. از چراغ ها نور بالا یا نور پایین.</p> <p>پاسخ : 3</p>
<p>آیا روشن کردن نور پایین چراغ ها در ساعات روشن روز برای وسایل نقلیه عمومی که در خط عبور ویژه مجزا، در مسیر مقابل جریان اصلی در حال ترددند، الزامی است؟</p> <p>1. الزامی است.</p> <p>2. الزامی نیست.</p> <p>پاسخ : 1</p>	<p>الزامی نیست؟ (اخطاری) در کدام مورد بر حسب مقررات دادن علامت هشداردهنده</p> <p>1 هنگام ایستادن در حاشیه بخش تردد.</p> <p>2 «پیچ خطرناک» قبل از قوس جاده مشمول تابلوی .</p> <p>3 قبل از تغییر خط عبور به خط عبور مجاور.</p> <p>پاسخ : 2</p>

<p>قبل از تغییر خط عبور چه موقع باید داده شود؟ (اخطاری) علامت هشداردهنده</p> <p>1) (آن حرکت) بلافاصله قبل از آغاز مانور .  2) (آن حرکت) بلافاصله پس از آغاز مانور .  3) (آن حرکت) پیشاپیش قبل از آغاز مانور .</p> <p>پاسخ : 3</p>	<p>چه موقع باید داده شود؟ (هر تغییری در حرکت) قبل از مانور (اخطاری) علامت هشداردهنده</p> <p>1) (آن حرکت) بلافاصله قبل از آغاز مانور .  2) (آن حرکت) همزمان با آغاز مانور .  3) (آن حرکت) پیشاپیش قبل از آغاز مانور .</p> <p>پاسخ : 3</p>
<p>با دست از سوی راننده چه موقع متوقف می شود؟ (اخطاری) علامت هشداردهنده</p> <p>1) (آن حرکت) بلافاصله قبل از آغاز مانور .  2) (آن حرکت) بلافاصله پس از پایان مانور .  3) (آن حرکت) هنگام انجام مانور .</p> <p>پاسخ : 1</p>	<p>را قبل از ایستادن بدهد؟ (اخطاری) در کدام حالت راننده باید علامت هشداردهنده</p> <p>1. اگر وسیله نقلیه دیگری پشت سرش در تردد است.  2. فقط در اماکن مسکونی.  3. در تمامی موارد.</p> <p>پاسخ : 3</p>
<p>در حالت ایست اجباری بر روی تقاطع هم سطح با راه آهن، راننده مجبور به دادن چه علامت است؟ (بوق) هشدار اضطرار کلی به صورت تکرار علامت صوتی</p> <p>1 سه بوق طولانی و یک بوق کوتاه.  2 یک بوق طولانی و سه بوق کوتاه.  3 یک بوق طولانی و دو بوق کوتاه.</p> <p>پاسخ : 2</p>	<p>با (اخطاری) در صورت نبود یا خرابی چراغ راهنمای وسیله نقلیه، دادن علامت هشداردهنده دست چه موقع متوقف می شود؟</p> <p>1) (آن حرکت) بلافاصله قبل از آغاز مانور .  2) (آن حرکت) بلافاصله پس از پایان مانور .  3) (آن حرکت) هنگام انجام مانور .</p> <p>پاسخ : 1</p>

در کدام تصویر راننده برای گردش به چپ علامت می دهد؟



11.  
22.  
33.

پاسخ : 1

در حکم علامت اضطرار کلی است که بر روی (بوق) ترکیب زیر از صدای علامت صوتی تقاطع هم سطح راه آهن داده می شود

- 1 دو بوق طولانی و دو بوق کوتاه.
- 2 یک بوق طولانی و سه بوق کوتاه.
- 3 سه بوق طولانی و سه بوق کوتاه.
- 4 سه بوق طولانی و یک بوق کوتاه.

پاسخ : 2

رانندگان وسایل نقلیه در حال تردد در این مسیر هنگام نزدیک شدن به وسیله نقلیه ای که چراغ بگردان چشمک زن با نور قرمز رنگ را روشن کرده و به حالت ایستاده است، باید

1. بایستند و فقط پس از کسب اجازه به حرکت خود ادامه دهند.
2. از سرعت خود بکاهند تا در صورت لزوم ایست سریع برایشان امکان پذیر باشد.

پاسخ : 1

چراغ های گردان چشمک زن به رنگ نارنجی یا زرد به چه منظور بر روی وسایل نقلیه نصب شده اند؟

- 1 برای بهره مندی از حق تقدم نسبت به سایر تردد کنندگان.
- 2 برای اخطار درباره خطر به سایر تردد کنندگان.


پاسخ : 2

بانندگان در صورت نزدیک شدن وسیله نقلیه ای با چراغ گردان چشمک زن با نور آبی رنگ و با آژیر صوتی مخصوص که در حالت روشن است، باید

1. حق تقدم را بمنظور تأمین عبور بلامانع آن وسیله نقلیه رعایت کنند.
2. از سرعت خود بکاهند و حق تقدم را بمنظور تأمین عبور بلامانع آن وسیله نقلیه رعایت کنند.

پاسخ : 1

خودرو آبی رنگ با چه ترتیبی از تقاطع عبور خواهد کرد؟



- 1 اول و همزمان با خودرو قرمز رنگ.
- 2 دوم و همزمان با خودرو قرمز رنگ.
- 3 سوم و همزمان با خودرو قرمز رنگ.

پاسخ : 3

راننده کدام وسیله نقلیه دارای حق تقدم برای عبور است؟



1 راننده خودرو جاده ای.

2 راننده خودرو سواری سبک.

پاسخ : 2

رانندگان در صورت نزدیک شدن وسیله نقلیه ای با چراغ گردان چشمک زن با نور آبی و قرمز رنگ و با آژیر صوتی مخصوص که در حالت روشن است، باید:

1. حق تقدم را بمنظور تامین عبور بلامانع آن وسیله نقلیه رعایت کنند.
2. از سرعت خود بکاهند و حق تقدم را بمنظور تامین عبور بلامانع آن وسیله نقلیه و همچنین .
2. وسایل نقلیه ای که توسط آن اسکورت می شوند، رعایت کنند

پاسخ : 2

راننده کدام وسیله نقلیه باید حق تقدم را رعایت کند؟




1 راننده آمبولانس.

2 راننده خودرو سواری سبک.

پاسخ : 2

خودروی مشکی با چه ترتیبی از تقاطع عبور خواهد کرد؟



1 اول.

2 دوم.

3 آخرین.

پاسخ : 2


واقع بر روی وسیله نقلیه که در حالت (نارنجی)آیا چراغ گردان چشمک زن به رنگ زرد روشن است اولویتی برای تردد را فراهم می سازد؟

1.بلی، فراهم می سازد.

2.خیر، فراهم نمی سازد.

پاسخ : 2

خودرو آبی رنگ با چه ترتیبی از تقاطع عبور خواهد کرد؟



1 اول.

2 دوم.

3 سوم.

4 آخرین.

پاسخ : 4

راننده وسیله نقلیه مجهز به چراغ گردان چشمک زن به رنگ آبی نسبت به سایر تردد کنندگان  
تقدم دارد اگر

1. چراغ گردان چشمک زن را روشن کرده باشد.

2. آژیر صوتی ویژه را به صدا در آورد.

3. چراغ گردان چشمک زن به رنگ آبی و آژیر صوتی ویژه را روشن کرده باشد.

پاسخ : 3

راننده وسیله نقلیه با چراغ گردان چشمک زن روشن به رنگ سفید مهتابی آژیر صوتی ویژه را  
به صدا در می آورد تا

1. نسبت به سایر تردد کنندگان از حق تقدم برای تردد برخوردار شود.

2. برای جلب توجه مأمورین پلیس و سایر افراد.

پاسخ : 2

آیا سبقت گرفتن وسایل نقلیه در تقاطع بر روی جاده ای که نسبت به جاده متقاطع جاده اصلی  
محسوب می شود جایز است؟

1. مجاز است.

2. ممنوع است.

پاسخ : 2

سبقت گرفتن در چه فاصله ای از تقاطع هم سطح راه آهن ممنوع است؟


1. متری 50 از فاصله .

2. متری 100 از فاصله .

3. متری 150 از فاصله .

پاسخ : 2

آیا در این وضعیت سبقت گرفتن برای راننده خودرو سواری سبک جایز است؟



سبقت گرفتن در چه مورد ممنوع است؟

1. در تقاطع ها.

2. متری قبل از تقاطع هم سطح راه آهن 150 در فاصله .

3. در هر دو حالت.

پاسخ : 1


1. مجاز است.

2. ساعت نباشد، جایز است/کیلومتر 30 اگر سرعت موتور سیکلت بیش از .

3. ممنوع است.

پاسخ : 3

30 آیا در این وضعیت سبقت گرفتن از خودرو طویل، در صورتی که سرعت آن بیش از ساعت نباشد، مجاز است؟/کیلومتر



1. ممنوع است.
2. مجاز است.

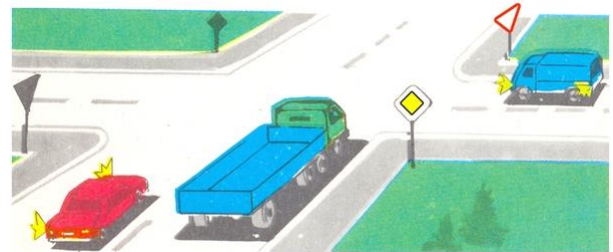
پاسخ : 1

سبقت گرفتن در چه مورد ممنوع است؟

1. در تقاطع هایی که کنترل می شوند.
2. در تقاطع هایی که کنترل نمی شوند.
3. در هر دو حالت.

پاسخ : 3

آیا در این وضعیت سبقت گرفتن برای راننده خودرو قرمز رنگ مجاز است؟



1. مجاز است.
2. ممنوع است.

3. ساعت نباشد، مجاز /کیلومتر 30 اگر سرعت خودرویی که از آن سبقت گرفته می شود بیش از . است

پاسخ : 2

آیا سبقت گرفتن برای راننده خودرو سبز رنگ مجاز است؟



1. مجاز است.
2. ممنوع است.

3. ساعت در حرکت است، مجاز است/کیلومتر 30 اگر خودرو قرمز رنگ با سرعتی کمتر از .

پاسخ : 2

آیا سبقت گرفتن از اتوبوس در نقطه مزبور مجاز است؟



1. مجاز است.
2. ممنوع است.

پاسخ : 1

سبقت گرفتن وسایل نقلیه به معنای زیر است

- پیشی گرفتن از یک یا چند وسیله نقلیه در حال حرکت، در رابطه با خروج از خط عبور فعلی .
- 1 به سمت خط عبور لاین مقابل
- پیشی گرفتن از یک یا چند وسیله نقلیه در حال حرکت، در رابطه با خروج از خط .
- 2 عبور فعلی

پاسخ : 2 \

<p>در ساعات تاریک روز و در شرایط دید کم، فارغ از روشنایی جاده، باید بر روی وسایل نقلیه موتوری در حال تردد کدام چراغ ها روشن باشند؟</p> <p>1 چراغ های نور بالا. 2 چراغ های نور پایین. 3 چراغ های نور بالا یا نور پایین.</p> <p>پاسخ : 3</p>	<p>در چه حالت در ساعات روشن روز بر روی موتور سیکلت باید چراغ های نور پایین روشن باشند؟</p> <p>1 هنگام تردد در شرایط دید کم. 2 هنگام تردد با موتور سیکلت دارای نقص و در حال حرکت به سمت توقفگاه . 3 در هر حالت در حین تردد. 4 هنگام حمل مسافر بیمار.</p> <p>پاسخ : 3</p>
<p>در صورتی که نور چراغ های وسیله نقلیه در حال تردد در لاین مقابل چشم را انبیت کند، راننده در وهله اول چکار باید بکند؟</p> <p>1. به نور پایین تغییر دهد (در صورتی که روشن باشند) چراغ های نور بالا را . 2. چراغ خطر را روشن کند. 3. یک بوق طولانی و سه بوق کوتاه :بوق بزند. 4. یک بوق کوتاه و سه بوق طولانی :بوق بزند.</p> <p>پاسخ : 2</p>	<p>بوق ها تنها در چه مورد می توانند بکار گرفته شوند؟</p> <p>1 در اماکن مسکونی بمنظور هشدار دادن به سایر رانندگان در باره قصد سبقت گرفتن. 2 زمانی که این امر برای پیشگیری از تصادف رانندگی ضرورت داشته باشد. 3 در هر دو حالت.</p> <p>پاسخ : 2</p>
<p>بر روی وسیله نقلیه موتوری در حال تردد در بخش های بدون روشنایی جاده در ساعات تاریک روز، باید چراغ های زیر روشن باشند</p> <p>1 چراغ های نور بالا یا نور پایین. 2 فقط چراغ های نور پایین. 3 فقط چراغ های نور بالا.</p> <p>پاسخ : 1</p>	<p>چراغ های مه شکن پشت چه موقع می توانند بکار روند؟</p> <p>1 در ساعات تاریک روز حین تردد در ترکیب ردیف خودروها. 2 حین تردد در تونل ها. 3 فقط در شرایط دید کم. 4 هنگام تخلیه بار از وسیله نقلیه در ساعات تاریک روز. 5 در همه موارد ذکر شده.</p> <p>پاسخ : 3</p>

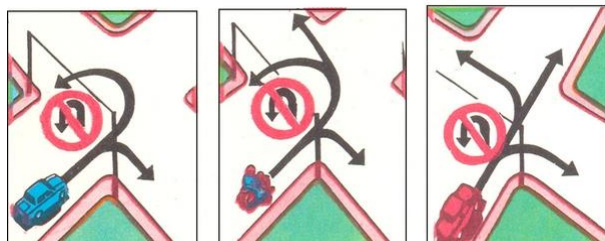
<p>در چه فاصله ای از وسیله نقلیه در حال تردد در لاین مقابل باید چراغ های نور بالا به نور پایین تغییر یابد؟</p> <p>1متری حداقل از فاصله . 2متری حداقل از فاصله . 3متری حداقل از فاصله .</p> <p>پاسخ : 2</p>	<p>استفاده از چراغ های پروژکتور در چه مورد مجاز است؟</p> <p>1 فقط در خارج از اماکن مسکون، در صورت نبود وسایل نقلیه لاین مقابل و در مسیر همسو. 2 فقط در شرایط دید کم. 3 در هر جایی، اگر ضرورت داشته باشد. 4 در ساعات تاریک روز در همه بخش های جاده ها.</p> <p>پاسخ : 1</p>
<p>در اماکن مسکونی در چه فاصله ای از ابتدای بخش (خطاری) این علامت هشدار دهنده خطرناک نصب می شود؟</p>  <p>1متری 25-50 در فاصله . 2متری 50-100 در فاصله . 3متری 100-150 در فاصله .</p> <p>پاسخ : 2</p>	<p>آیا حمل و نقل بر روی تقاطع هم سطح راه آهن با خودروها و ماشین آلات کشاورزی، جاده ای، ساختمانی و غیره مجاز است؟</p> <p>1 مجاز است اگر تقاطع هم سطح مزبور مجهز به راهبند نباشد. 2 مجاز است اگر آنها در وضعیت غیرنقلیه هستند. 3 مجاز است اگر آنها در وضعیت نقلیه هستند.</p> <p>پاسخ : 3</p>
<p>عبور از خطوط راه آهن در کجا مجاز است؟</p> <p>1 متری باشد 1000 در جایی که میزان دید از دو طرف حداقل در فاصله . 2 بنا به صلاحدید راننده در جایی مناسب تر برای این امر. 3 در جاهای پیش بینی شده بدین منظور. 4 متری ایستگاه های راه آهن 1000 در فاصله حداقل .</p> <p>پاسخ : 3</p>	<p>(به اختیار خود)، گشودن یا دور زدن خودکامه (ماموریت) آیا هنگام انجام دستور خدماتی راهبند مجاز است؟</p> <p>1 ممنوع است. 2 مجاز است. 3 مجاز است بنا به صلاحدید راننده، اگر در آن حواشی قطاری در حال نزدیک شدن نباشد. 4 مجاز است در صورت نبود مسؤول کشیک آن تقاطع هم سطح.</p> <p>پاسخ : 1</p>



<p>آیا حمل و نقل بر روی تقاطع هم سطح راه آهن با خودروها و ماشین آلات کشاورزی، جاده ای، ساختمانی و غیره مجاز است؟</p> <p>1. مجاز است. 2. مجاز است اگر آنها در وضعیت نقلیه هستند. 3. ممنوع است.</p> <p>پاسخ : 2</p>	<p>راننده هنگام نزدیک شدن به تقاطع هم سطح راه آهن بر چه اساسی باید عمل کند؟</p> <p>1 چراغ راهنمایی (خطاری) بر اساس موقعیت راهنمند و علائم هشدار دهنده . 2 بر اساس مفهوم علائم راهنمایی و رانندگی و خط کشی ها. 3 بر اساس دستورهای مسؤول کشیک تقاطع هم سطح. 4 بر اساس تمامی موارد قید شده.</p> <p>پاسخ : 4</p>
<p>هستند؟ «بزرگراه» آیا عابرین پیاده مجاز به عبور از مسیر مجهز به علامت</p> <p>1. ممنوع است. 2. مجاز است در خارج از اماکن مسکونی و در مسیر برعکس حرکت وسایل نقلیه. 3. مجاز است در خارج از اماکن مسکونی و در مسیر موافق با حرکت وسایل نقلیه.</p> <p>پاسخ : 1</p>	<p>ساعت /کیلومتر 40 برای وسایل نقلیه ای که با توجه به مشخصات فنی آنها سرعشان بیش از نیست، تردد در بزرگراه ها</p> <p>1. مجاز است فقط از خط عبور حاشیه راست. 2. ممنوع است. 3. مجاز است «محدودیت برای سرعت حداقل» در صورت نبود علامت .</p> <p>پاسخ : 2</p>
<p>علامت چراغ خطر بر روی وسیله نقلیه باید در چه مواردی روشن باشد؟</p> <p>1 در صورت تصادف رانندگی . 2 است (توقف مطلقاً ممنوع) در صورت ایست اجباری در نقاطی که ایستادن ممنوع . 3 در هر دو حالت.</p> <p>پاسخ : 3</p>	<p>علامت چراغ خطر بر روی وسیله نقلیه باید در چه مواردی روشن باشد؟</p> <p>1 در صورت تصادف رانندگی . 2 (بر روی وسیله نقلیه موتوری که پدک کشیده می شود) در حالت پدک کشی . 3 است (توقف مطلقاً ممنوع) در صورت ایست اجباری در نقاطی که ایستادن ممنوع . 4 در تمامی موارد یاد شده.</p> <p>پاسخ : 4</p>

<p>در چه فاصله ای از وسیله نقلیه قرار داده می ( «متلث خطر» ) «ایست اضطراری» علامت شود؟</p> <p>30متری، در خارج از اماکن مسکونی در فاصله 15در اماکن مسکونی در فاصله حداقل . 1متری 10در اماکن مسکونی در فاصله حداقل . 2متری 20متری، در خارج از اماکن مسکونی در فاصله 10متری، در خارج از اماکن مسکونی در فاصله 5در اماکن مسکونی در فاصله حداقل . 3متری</p> <p>پاسخ : 1</p>	<p>علامت چراغ خطر بر روی وسیله نقلیه باید در چه مواردی روشن باشد؟</p> <p>1.در حالتی که چشم راننده در اثر نور چراغ ها انبیت می شود. 2(بر روی وسیله نقلیه موتوری که پدک کشیده می شود)در حالت پدک کشی . 3در هر دو حالت.</p> <p>پاسخ : 3</p>
<p>علامت چراغ خطر بر روی وسیله نقلیه باید در چه مواردی روشن باشد؟</p> <p>1در صورت تصادف رانندگی . 2(بر روی وسیله نقلیه موتوری که پدک کشیده می شود)در حالت پدک کشی . 3در هر دو حالت.</p> <p>پاسخ : 3</p>	<p>در مناطقی که ساخت و ساز صورت گرفته و در ورودی و خروجی آن علایم راهنمایی و نصب شده، چه موردی ممنوعیت ندارد؟ «پایان منطقه مسکونی» و «منطقه مسکونی» رانندگی</p> <p>1عبور عابرین پیاده از بخش تردد جاده. 2تردد بینابینی وسایل نقلیه. 3رانندگی آموزشی.</p> <p>پاسخ : 1</p>
<p>تقاطع در صورتی کنترل شونده محسوب می شود که ترتیب تردد بر اساس کدام مورد زیر مشخص می شود؟</p> <p>1فقط با علایم چراغ راهنمایی. 2فقط با علایم کنترل کننده. 3در هر دو حالت.</p> <p>پاسخ : 3</p>	<p>بر روی جاده خاکی مغروش نشده، آیا وجود بخش مغروش شده بلافاصله قبل از تقاطع آن جاده را با جاده متقاطع هم عرض می سازد؟</p> <p>1خیر. 2بلی .</p> <p>پاسخ : 1</p>

در کدام تصویر مسیرهای مجاز برای تردد ترسیم شده اند؟



1. در تصویر سمت چپ.
2. در تصویر وسط.
3. در تصویر سمت راست.
4. در تصاویر وسط و سمت راست.

پاسخ : 3

چنانچه مفاهیم علائم چراغ راهنمایی با مفهوم علائم حق تقدم در تضاد باشند، رانندگان بر اساس کدام مورد زیر باید عمل کنند؟

1. مفاهیم علائم.
2. مفاهیم چراغ راهنمایی.

پاسخ : 2

آیا راننده مجاز به ادامه تردد در صورت روشن شدن چراغ زرد یا بالا بردن دست توسط کنترل کننده است؟

1. ممنوع است.
2. مجاز است اگر راننده امکان ایستادن بدون ترمز شدید را نداشته باشد.

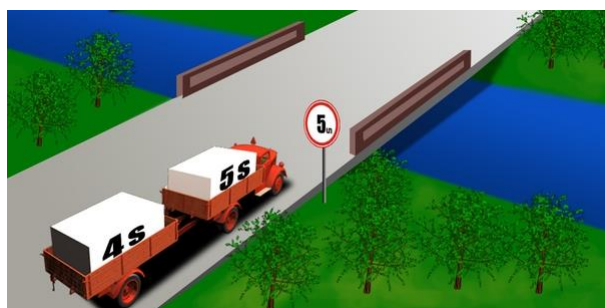
پاسخ : 2

کنترل کننده در چه مورد با سوت زدن علامت می دهد؟

1. فقط در حالتی که خواستار ایست وسیله نقلیه است.
2. بمنظور جلب توجه تردد کنندگان به سمت خود.

پاسخ : 2

آیا در این حالت خودرو طویل مجاز به عبور از روی پل است؟



1. مجاز است.
2. ممنوع است.

پاسخ : 2

نمی (اخطاری) در کدام حالت مقررات راننده اتوبوس را مجبور به دادن علامت هشدار دهنده کنند؟

1. هنگام ایستادن بر روی حاشیه بخش تردد.
2. «پیچ خطرناک» قبل از قوس جاده مشمول تابلوی .
3. قبل از تغییر خط عبور به خط عبور مجاور.
4. هنگام تردد در مسیر تعیین شده.

پاسخ : 2

در صورت ایست اجباری بر روی تقاطع هم سطح راه آهن، راننده اتوبوس مجبور به دادن چه است؟ (بوق) علامت وضعیت اضطراری با تکرار علامت صوتی

1. سه بوق طولانی و یک بوق کوتاه.
2. یک بوق طولانی و سه بوق کوتاه.
3. یک بوق طولانی و دو بوق کوتاه.
4. دو بوق طولانی و دو بوق کوتاه.

پاسخ : 2

را (اخطاری) راننده اتوبوس قبل از تغییر خط عبور در چه مورد باید علامت هشدار دهنده روشن کند؟

1. (آن حرکت) بلافاصله قبل از آغاز مانور .
2. (آن حرکت) بلافاصله بعد از آغاز مانور .
3. (آن حرکت) پیشاپیش قبل از آغاز مانور .
4. مجبور نیست اگر اتوبوس در مسیر تعیین شده تردد می کند.

پاسخ : 3


داد؟ (اخطاری) آیا می توان برای تردد در مسیر قید شده با دست علامت هشدار دهنده



1. می توان این کار را کرد اگر چراغ راهنما خراب است.
2. در صورت خرابی چراغ راهنما در ساعات روشن روز می توان این کار را کرد.
3. در تمامی حالات می توان این کار را کرد.

پاسخ : 1

ساعت در /کیلومتر 70 آیا راننده اتوبوس بین شهری حق دارد از موتور سیکلتی که با سرعت تردد است سبقت بگیرد؟



1. حق ندارد.
2. حق دارد.

پاسخ : 1

راننده خودرو خدمات گشت برای برخورداری از حق تقدم نسبت به سایر ترددکنندگان باید چکار کند؟

1. چراغ گردان چشمک زن به رنگ آبی را روشن کند.
2. چراغ های گردان چشمک زن به رنگ آبی و قرمز را روشن کند.
3. چراغ گردان چشمک زن به رنگ آبی و آژیر صوتی ویژه را روشن کند.

پاسخ : 3

آیا راننده مجبور است چراغ راهنما را قبل از آغاز تردد در منطقه مسکونی روشن کند؟

1. مجبور نیست.
2. مجبور است.
3. در صورت وجود وسیله نقلیه دیگر مجبور است.

پاسخ : 2

آیا راننده اتوبوس مجبور است حق تقدم آمبولانس را رعایت کند اگر چراغ گردان چشمک زن به رنگ آبی و آژیر صوتی ویژه روشن نباشند؟



1. مجبور است.
2. مجبور نیست.

پاسخ : 2

سبقت گرفتن در چه مورد ممنوع است؟

- 1 متری قبل از آنها 100 بر روی تقاطعات هم سطح راه آهن و تا فاصله .
- 2 متری قبل از آنها 150 بر روی تقاطعات هم سطح راه آهن و تا فاصله .
- 3 متری قبل از آنها 250 بر روی تقاطعات هم سطح راه آهن و تا فاصله .

پاسخ : 1

علامتی که راننده خودرو سواری سبک با دست نشان می دهد بیانگر چیست؟



1. در حال گردش به راست است.
2. به مسیر مستقیم تردد ادامه می دهد.
3. در حال ترمز کردن است.

پاسخ : 3

چراغ خطر چه موقع روشن می شود؟

- 1 قبل از ورود به تونل.
- 2 در صورت تصادف رانندگی.
- 3 هنگام تردد در ترکیب صف سازمان یافته خودروها.

پاسخ : 2

علامتی که راننده موتور سیکلت با دست نشان می دهد بیانگر چیست؟



- 1 به تردد در مسیر چپ یا مسیر برعکس ادامه می دهد.
- 2 به تردد در مسیر مستقیم یا راست ادامه می دهد.

پاسخ : 1

علامتی که راننده خودرو سواری سبک با دست نشان می دهد بیانگر چیست؟



1. در حال گردش به راست است.
2. به مسیر مستقیم تردد ادامه می دهد.
3. در حال ترمز کردن بمنظور رعایت حق تقدم موتور سیکلت است.

پاسخ : 1



علامتی که راننده خودرو سواری سبک با دست نشان می دهد بیانگر چیست؟



1. قصد گردش به چپ یا دور برگردان را دارد.
2. در حال ترمز کردن بمنظور رعایت حق تقدم کامیون است.

پاسخ : 1

آیا راننده مجبور است در این حالت چراغ راهنما را روشن کند؟



1. مجبور است.
2. مجبور نیست.

پاسخ : 1

هنگام حمل گروه های سازمان یافته کودکان در ساعات روشن روز کدام مورد باید روشن باشد؟

1. چراغ های نوربالا.
2. چراغ های نور پایین.
3. چراغ خطر.
4. اتاقلک(تجهیزات روشنایی داخل سالن .

پاسخ : 2


ساعت /کیلومتر 60 آیا برای راننده کامیون سبقت گرفتن از اتوبوس در حال تردد با سرعت مجاز است؟



1. ممنوع است.
2. مجاز است.

پاسخ : 2

آیا سبقت گرفتن در این حالت مجاز است؟



1. ممنوع است.
2. مجاز است.
3. ساعت در تردد باشد/کیلومتر 30 مجاز است اگر اتوبوس با سرعتی کمتر از .

پاسخ : 1

آیا در این حالت ورود به تقاطع هم سطح راه آهن مجاز است؟



1. مجاز است.
2. ممنوع است.

پاسخ : 2


در این حالت چطور باید عمل کرد؟



1. در صورت نبود قطار باید راهنند را دور زده و به تردد ادامه داد.
2. باید ایستاد و منتظر باز شدن راهنند شد.

پاسخ : 2

آیا در این حالت ورود به تقاطع هم سطح راه آهن مجاز است؟



1. اگر قطار در حال نزدیک شدن نیست مجاز است.
2. اگر راهنند باز باشد مجاز است.
3. ممنوع است.

پاسخ : 3

در این حالت آیا عبور از تقاطع هم سطح راه آهن مجاز است؟



1. ممنوع است.
2. اگر قطار در حال نزدیک شدن نیست مجاز است.
3. مجاز است زیرا مشغول کشیک تقاطع هم سطح تردد وسیله نقلیه لاین مقابل را ممنوع می نماید

پاسخ : 1

در این حالت آیا عبور از تقاطع هم سطح راه آهن مجاز است؟



1. اگر قطار در حال نزدیک شدن نیست مجاز است.
2. مجاز است.
3. ممنوع است.

پاسخ : 3

در این حالت آیا سبقت گرفتن مجاز است؟



1. مجاز است زیرا وسیله نقلیه در حال تردد در لاین مقابل وجود ندارد.
2. ممنوع است.
3. ساعت در حرکت باشد/کیلومتر 30 مجاز است اگر گاری با سرعت حداقل .

پاسخ : 2

در این حالت از کجا می توان سبقت گرفتن را آغاز کرد؟



1. در تقاطع هم سطح راه آهن.
2. پس از عبور از تقاطع هم سطح راه آهن.
3. متری پس از عبور از تقاطع هم سطح راه آهن 100 در فاصله .

پاسخ : 2



می کند؟ (حرکتی) راننده خودرو سواری سبک اقدام به چه مانوری



- 1 عبور از کنار.
  - 2 سبقت.
  - 3 دور زدن.
- پاسخ : 2

آیا موتور سیکلت مجاز به سبقت گرفتن است؟



1. مجاز است.
  2. ممنوع است.
- پاسخ : 2

در کدام حالت سبقت گرفتن ابا استفاده از خط عبور لاین مقابل در جاده های دارای یک خط عبور در هر سو مجاز است؟

1. فقط زمانی که خط عبور لاین مقابل در فاصله ای به حد کافی آزاد باشد.
  2. فقط زمانی که از ما سبقت نمی گیرند.
  3. هر دو شرط لازم است که تأمین شده باشند.
- پاسخ : 3

آیا در این حالت سبقت گرفتن مجاز است؟



1. ممنوع است.
  2. مزبور در حریم میدان دید خاتمه یابد (حرکت) مجاز است اگر مانور .
  3. مجاز است.
- پاسخ : 3

آیا کامیون مجاز به سبقت گرفتن است؟



1. بلی.
  2. بلی اگر سبقت گرفتن تا تقاطع خاتمه یابد.
  3. خیر.
- پاسخ : 2

از راننده وسیله نقلیه ای که از آن سبقت می گیرند چه انتظار می رود؟

1. او مجبور است به رعایت حق تقدم سبقت گیرنده.
  2. او به هیچ وجهی نباید با افزایش سرعت یا انجام اقدامی دیگر مانع سبقت گیرنده باشد.
- پاسخ : 2



آیا سبقت گرفتن در این حالت مجاز است؟



1. ممنوع است.
2. ساعت باشد/کیلومتر 30 مجاز است اگر سرعت کامیون کمتر از .
3. مجاز است.

پاسخ : 1

آیا راننده کامیون مجاز به سبقت گرفتن از تراکتور است اگر حداکثر وزن مجاز



1. بلی.
2. ساعت در حرکت است/کیلومتر 30 بلی اگر تراکتور با سرعت کمتر از .
3. خیر.

پاسخ : 1

اگر تردد در لاین مقابل در این حالت دشوار است، در آن صورت کدامیک باید حق تقدم را رعایت کند؟



1. راننده کامیون.
2. راننده خودرو سواری سبک.

پاسخ : 1

سبقت گرفتن بر روی گذرگاه عابر پیاده

1. فقط در صورت حضور عابر پیاده ممنوع است.
2. ممنوع است.
3. مجاز است.

پاسخ : 2

علامت جاده ای مزبور نشان می دهد که



1. متر یک درخت افتاده است 500 پس از .
2. متر استراحتگاه وجود دارد 500 پس از .
3. متری استراحتگاه وجود دارد 500 در مقطع .

پاسخ : 2

آیا در این حالت راننده مجبور به روشن کردن چراغ راهنما است؟



1. مجبور است.
2. مجبور است، اگر از پشت راننده ای در حال نزدیک شدن است.
3. مجبور نیست.

پاسخ : 3

راننده با دستی که به سمت بالا برده درباره کدام گزینه اطلاع می دهد؟



1. درباره گردش به چپ.
2. درباره تردد در مسیر مستقیم.
3. درباره کند کردن حرکت خود.

پاسخ : 3

آیا علامت دادن حق تقدمی نسبت به سایر تردد کنندگان برای ما تأمین می کند؟

1. بلی تأمین می کند.
2. خیر تأمین نمی کند.
3. فقط هنگام آغاز حرکت این امر را تأمین می کند.

پاسخ : 2

راننده موتور سیکلت درباره چه چیزی اطلاع می دهد؟



1. ادامه تردد در مسیر مستقیم.
2. درباره گردش به چپ.
3. درباره کاهش سرعت بمنظور رعایت حق تقدم خودرو سواری سبک.

پاسخ : 3

آیا هنگام گردش به چپ علامت دادن در این حالت الزامی است؟



1. الزامی است.
2. الزامی نیست.

پاسخ : 1

هنگام سبقت گرفتن چه موقع مجبور به خاموش کردن چراغ راهنمای گردش به چپ هستیم؟



1. بلافاصله پس از تغییر خط عبور به خط عبور سمت چپ.
2. فقط پس از پیشی گرفتن از وسیله نقلیه ای که مقابل ما در حرکت است.
3. بنا به صلاحدید راننده.

پاسخ : 1

هنگام دور برگردان در این تقاطع چراغ راهنمای گردش به کدام سمت را باید روشن کنیم؟



1. راست.
2. چپ.
3. هیچ یک.

پاسخ : 1

راننده موتور سیکلت درباره چه چیزی اطلاع می دهد؟



1. ادامه تردد در مسیر مستقیم.

2. درباره گردش به راست.

3. درباره گردش به چپ یا دور برگردان.

پاسخ : 3

آیا در این حالت مجبور به علامت دادن با چراغ راهنما هستیم؟



1. بلی.

2. خیر.

3. بلی اگر راننده ای در حال تردد در خط عبور سمت راست است.

پاسخ : 1

علامت دادن با چراغ راهنما در این حالت :



1. الزامی است.

2. بنا به صلاحدید راننده.

پاسخ : 1

که با چراغ راهنما داده شده، چه موقع باید خاموش شود؟ (حرکت) علامت اخطار درباره مانور

1. (حرکت) بلافاصله قبل از مانور .

2. (حرکت) بلافاصله بعد از مانور .

3. (حرکت) در حین انجام مانور .

پاسخ : 2

کدام راننده برای گردش به راست علامت می دهد؟



1. فقط راننده ای که در سمت راست واقع است.

2. هر دو راننده.

3. فقط راننده ای که در سمت چپ واقع است.

پاسخ : 2

در توقفگاه ها یا کارواش ها آیا مجبور به علامت دادن با چراغ (حرکت) هنگام مانور دادن راهنما هستید؟

1. مجبور هستید.

2. مجبور نیستید.

پاسخ : 1



هنگام انجام دور برگردان با مسیر قید شده چه علایمی باید بدهید؟



1. راست.

2. چپ.

3. نخست راست و سپس چپ.

پاسخ : 3

در این حالت دست راننده که به بیرون امتداد یافته به چه معنا می تواند باشد؟



1. اطلاع رسانی درباره آغاز تردد توسط وی.

2. علامت درخواست برای ایستادن.

3. علامت اضطراری عمومی.

پاسخ : 1

راننده خودرویی که در حال خاتمه سبقت گرفتن است، هنگام تغییر خط عبور به خط عبور همسو آیا نسبت به راننده ای که در این خط عبور در حال تردد است حق تقدم دارد؟



1. بلی.

2. خیر.

پاسخ : 1

اگر بلافاصله پس از تقاطع قصد ایستادن داشته باشید، برای اینکه موجب آشفتگی تردد کنندگان نشوید چه موقع باید چراغ راهنمای گردش به راست را روشن کنید؟



1. پیشاپیش قبل از تقاطع.

2. پس از ورود به تقاطع.

پاسخ : 2

هنگام عبور از تقاطع در مسیر مستقیم آیا مجبور به رعایت حق تقدم راننده کامیونی هستیم که چراغ های گردان چشمک زن به رنگ زرد را روشن کرده است؟



1. بلی.

2. خیر.

پاسخ : 2

آیا مجبور به رعایت حق تقدم راننده ای هستیم که از محوطه همجوار خارج شده و علائم صوتی و نوری ویژه را روشن کرده است؟



1. مجبور نیستیم.

2. مجبور هستیم.

پاسخ : 2

مجبور به رعایت حق تقدم کدامیک هستیم؟



1. دو راننده.

2. راننده کامیون با چراغ های گردان چشمک زن به رنگ زرد.

3. فقط راننده اتوبوس.

پاسخ : 3

هنگام گردش به چپ حق تقدم کدامیک را رعایت می کنیم؟



1. راننده موتور سیکلت.

2. راننده خودرویی که علائم صوتی و نوری ویژه را روشن کرده است.

3. هر دو راننده.

پاسخ : 3

مجبور به رعایت حق تقدم کدامیک هستیم؟



1. همه.

2. راننده خودرو پلیس.

3. هیچ یک.

پاسخ : 2

در این حالت:



1. اول از همه از تقاطع عبور می کنید.

2. باید حق تقدم راننده ای را که از سمت چپ نزدیک می شود رعایت کنید.

پاسخ : 2

هنگام گردش به چپ:



1. اول از همه از تقاطع عبور می کنید.

2. فقط حق تقدم راننده خودرو پلیس را رعایت می کنید.

3. حق تقدم همه رانندگان را رعایت می کنید.

پاسخ : 3