

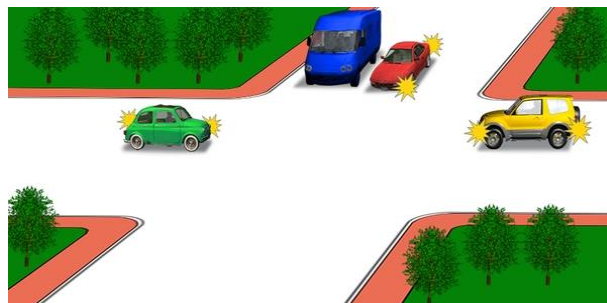
وسایل نقلیه به ترتیب زیر از تقاطع عبور می کنند



- 1 خودرو سواری سبک، اتوبوس، اتوبوس برقی.
- 2 اتوبوس برقی و اتوبوس، خودرو سواری سبک.
- 3 اتوبوس برقی، خودرو سواری سبک، اتوبوس.

پاسخ : 3


کدامیک اولین خودرویی است که از تقاطع عبور خواهد کرد؟



- 1 خودرو قرمز رنگ.
- 2 خودرو آبی رنگ.
- 3 خودرو زرد رنگ.
- 4 خودرو سبز رنگ.

پاسخ : 4

آخرین خودرویی که از تقاطع عبور خواهد کرد کدام است؟



- 1 خودرو آبی رنگ.
- 2 خودرو سبز رنگ.
- 3 خودرو قرمز رنگ.

پاسخ : 1


خودرو آبی رنگ با چه ترتیبی از تقاطع عبور خواهد کرد؟



- 1 اول.
- 2 دوم.

پاسخ : 1

در کدام گزینه ترتیب عبور از تقاطع دست قید شده است؟



- 1 اتوبوس، خودرو سواری سبک، دوچرخه.
- 2 خودرو سواری سبک، اتوبوس، دوچرخه.
- 3 دوچرخه، اتوبوس، خودرو سواری سبک.

پاسخ : 3

کدامیک دومین خودرویی است که از تقاطع عبور خواهد کرد؟



- 1 تراموا.
- 2 خودرو قرمز رنگ.
- 3 خودرو آبی رنگ.

پاسخ : 1


تردد در کدام مسیر ممنوع است؟



- 1 به سمت راست با معبر اول.
- 2 به سمت راست با معبر دوم.
- 3 به سمت راست با معابر اول و دوم.

پاسخ : 2


کدامیک دومین خودرویی است که از تقاطع عبور خواهد کرد؟



- 1 خودرو سبز رنگ.
- 2 خودرو قرمز رنگ.
- 3 خودرو آبی رنگ.

پاسخ : 2

کدامیک دومین خودرویی است که از تقاطع عبور خواهد کرد؟



- 1 خودرو آبی رنگ.
- 2 خودرو سبز رنگ.
- 3 خودرو قرمز رنگ.

پاسخ : 1

کدامیک دومین خودرویی است که از تقاطع عبور خواهد کرد؟



- 1 خودرو سفید همزمان با خودرو زرد رنگ.
- 2 خودرو قرمز رنگ.
- 3 خودرو سبز رنگ.

پاسخ : 2

آخرین خودرویی که از تقاطع عبور خواهد کرد کدام است؟



- 1 خودرو آبی رنگ.
- 2 خودرو زرد رنگ.
- 3 خودرو سبز رنگ.
- 4 خودرو قرمز رنگ.

پاسخ : 3


راننده کدام وسیله نقلیه باید حق تقدم را رعایت کند؟



- 1 دوچرخه سوار.
- 2 راننده خودرو.

پاسخ : 2

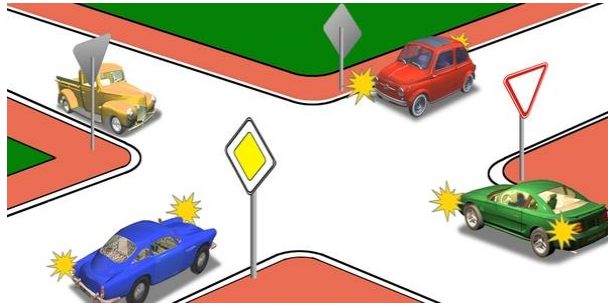
وسایل نقلیه به چه ترتیب از تقاطع عبور خواهند کرد؟



1. موتور سیکلت، خودرو، تراموا.
2. تراموا، خودرو، موتور سیکلت.
3. تراموا، موتور سیکلت، خودرو.

پاسخ : 1

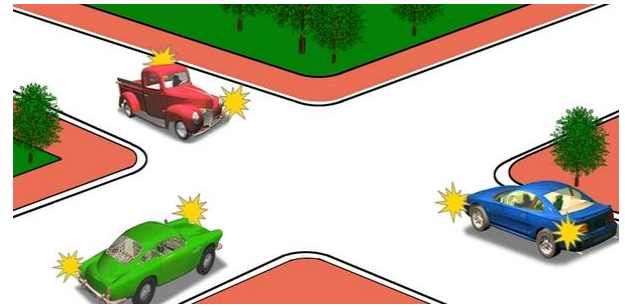
کدامیک اولین خودرویی است که از تقاطع عبور خواهد کرد؟



1. خودرو سبز رنگ.
2. خودرو آبی رنگ .
3. خودرو قرمز رنگ.
4. خودرو زرد رنگ.

پاسخ : 3


آخرین خودرویی که از تقاطع عبور خواهد کرد کدام است؟



1. خودرو سبز رنگ.
2. خودرو آبی رنگ .
3. خودرو قرمز رنگ.

پاسخ : 3

کدامیک دومین خودرویی است که از تقاطع عبور خواهد کرد؟



1. خودرو قرمز رنگ.
2. خودرو آبی رنگ .
3. خودرو سبز رنگ.

پاسخ : 2

کدامیک اولین خودرویی است که از تقاطع عبور خواهد کرد؟



1. خودرو سبز رنگ.
2. خودرو قرمز رنگ.
3. خودرو آبی رنگ .

پاسخ : 1

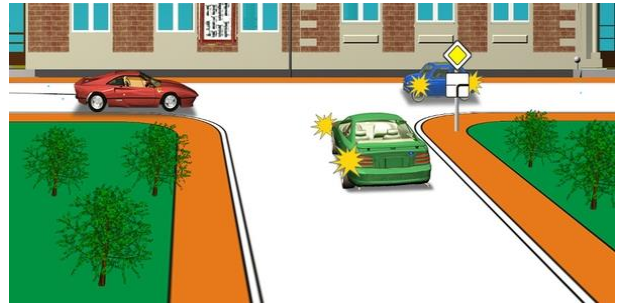
آخرین خودرویی که از تقاطع عبور خواهد کرد کدام است؟



1. آبی.
2. قرمز.
3. سبز.

پاسخ : 2

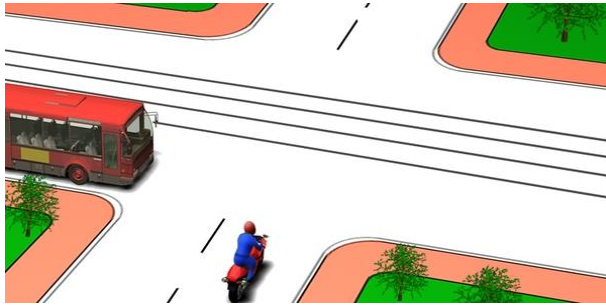
کدامیک اولین خودرویی است که از تقاطع عبور خواهد کرد؟



- 1 خودرو قرمز رنگ.
- 2 خودرو سبز رنگ.
- 3 خودرو آبی رنگ.

پاسخ : 3


راننده کدام وسیله نقلیه باید حق تقدم را رعایت کند؟



- 1 راننده اتوبوس.
- 2 راننده موتور سیکلت.

پاسخ : 1

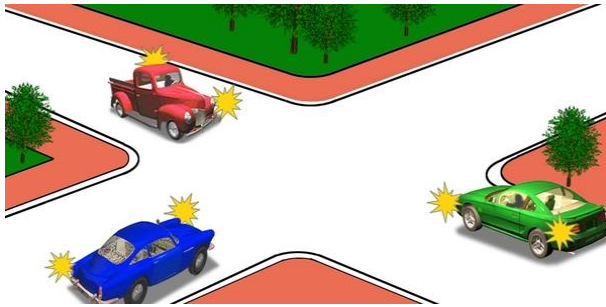
کدامیک دومین خودرویی است که از تقاطع عبور خواهد کرد؟



- 1 خودرو آبی رنگ.
- 2 خودرو زرد رنگ.
- 3 خودرو سبز رنگ.
- 4 خودرو قرمز رنگ.

پاسخ : 2

کدامیک دومین خودرویی است که از تقاطع عبور خواهد کرد؟



- 1 خودرو آبی رنگ.
- 2 خودرو سبز رنگ.
- 3 خودرو قرمز رنگ.

پاسخ : 1


خودروها با ترتیب زیر از تقاطع عبور خواهند کرد



- 1 زرد، سبز، آبی.
- 2 آبی همزمان با سبز، زرد.

پاسخ : 2


خودرو قرمز رنگ



- 1. دارای حق تقدم برای تردد است زیرا از سمت راست خودرو آبی رنگ به تقاطع با حرکت . نزدیک شده است (میدان دورانی)
- 2. باید حق تقدم خودرو آبی رنگ را که در مسیر تردد دورانی حرکت می کند، رعایت نماید.

پاسخ : 2


کدامیک اولین خودرویی است که از تقاطع عبور خواهد کرد؟



- 1 خودرو سبز رنگ.
- 2 خودرو آبی رنگ.
- 3 خودرو قرمز رنگ.

پاسخ : 3


کدامیک دومین خودرویی است که از تقاطع عبور خواهد کرد؟



- 1 خودرو زرد رنگ.
- 2 خودرو قرمز رنگ.
- 3 خودرو آبی رنگ.
- 4 خودرو سبز رنگ.

پاسخ : 3


وسایل نقلیه به چه ترتیب از تقاطع عبور خواهند کرد؟



- 1 تراموا، خودرو زرد رنگ، خودرو سبز رنگ.
- 2 تراموا و خودرو سبز رنگ، خودرو زرد رنگ.
- 3 خودرو سبز رنگ، خودرو زرد رنگ، تراموا.

پاسخ : 2

وسایل نقلیه به چه ترتیب از تقاطع عبور خواهند کرد؟



- 1 قرمز، سبز، آبی، مشکی.
- 2 سبز، قرمز، مشکی، آبی.
- 3 سبز، قرمز، آبی، مشکی.

پاسخ : 1

کدامیک دومین خودرویی است که از تقاطع عبور خواهد کرد؟



- 1 خودرو قرمز رنگ.
- 2 خودرو آبی رنگ.
- 3 خودرو سبز رنگ.

پاسخ : 3

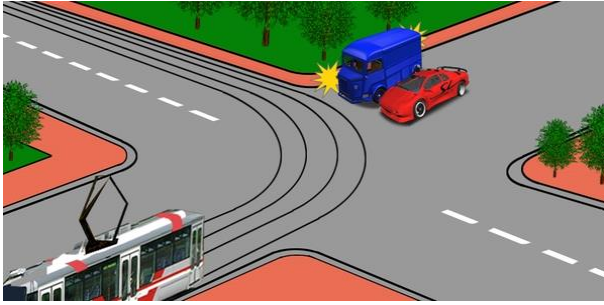
کدامیک از رانندگان دارای حق تقدم برای تردد است؟



- 1 راننده موتور سیکلت.
- 2 راننده خودرو.

پاسخ : 2


راننده کدام وسیله نقلیه باید حق تقدم را رعایت کند؟



- 1 راننده تراموا.
- 2 راننده کامیون.
- 3 رانندگان خودروها.

پاسخ : 3


خودرو قرمز رنگ با چه ترتیبی از تقاطع عبور خواهد کرد؟



- 1 اول .
- 2 دوم.

پاسخ : 1

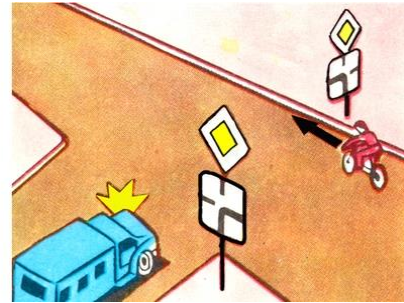
وسایل نقلیه به چه ترتیب از تقاطع عبور خواهند کرد؟



- 1 خودرو سواری سبک، اتوبوس، دوچرخه.
- 2 اتوبوس، دوچرخه، خودرو سواری سبک.
- 3 اتوبوس، خودرو سواری سبک، دوچرخه.
- 4 دوچرخه، اتوبوس، خودرو سواری سبک.

پاسخ : 4

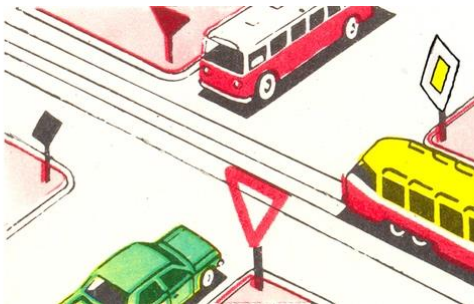
راننده کدام وسیله نقلیه دارای حق تقدم برای عبور است؟



- 1 راننده خودرو.
- 2 دوچرخه سوار.

پاسخ : 2


وسایل نقلیه به چه ترتیب از تقاطع عبور خواهند کرد؟



- 1 تراموا، خودرو و اتوبوس همزمان.
- 2 تراموا، اتوبوس، خودرو.
- 3 اتوبوس، تراموا، خودرو.

پاسخ : 1

راننده کدام وسیله نقلیه باید حق تقدم را رعایت کند؟



- 1 راننده خودرو آبی رنگ.
- 2 راننده خودرو قرمز رنگ.

پاسخ : 1


می شود؟ (میدان) راننده کدام وسیله نقلیه به صورت درست وارد تقاطع با حرکت دورانی



- 1 هر دو راننده.
- 2 فقط راننده اتوبوس.
- 3 فقط راننده خودرو سواری سبک.

پاسخ : 1


راننده کدام وسیله نقلیه باید حق تقدم را رعایت کند؟



- 1 راننده خودرو.
- 2 راننده موتور سیکلت.

پاسخ : 2

ترتیب عبور از تقاطع را نشان دهید



- 1 آبی، قرمز همزمان با سبز.
- 2 قرمز، آبی، سبز.
- 3 قرمز همزمان با سبز، آبی.

پاسخ : 3


کدام وسیله نقلیه دارای حق تقدم برای عبور است؟



- خودرو قرمز رنگ، زیرا از سمت راست خودرو آبی رنگ وارد تقاطع با حرکت دورانی .
1. می شود (میدان)
 2. می کند

پاسخ : 2

آخرین خودرویی که از تقاطع عبور خواهد کرد کدام است؟



- 1 خودرو قرمز رنگ.
- 2 خودرو آبی رنگ.
- 3 خودرو سبز رنگ.

پاسخ : 3


راننده خودرو سبز رنگ



1. دارای حق تقدم برای تردد است.
2. باید حق تقدم را رعایت کند.

پاسخ : 1


ترتیب عبور خودروها از تقاطع به این شرح است



1. آبی، سبز، قرمز.
2. قرمز، آبی، سبز.
3. سبز، قرمز، آبی.

پاسخ : 2


کدامیک دومین خودرویی است که از تقاطع عبور خواهد کرد؟



1. خودرو سبز رنگ.
2. خودرو قرمز رنگ همزمان با آبی.
3. خودرو زرد رنگ.

پاسخ : 2


خودرو قرمز رنگ با چه ترتیبی از تقاطع عبور خواهد کرد؟



1. دوم و همزمان با آبی.
2. دوم و پس از زرد.
3. سوم و پس از سبز و زرد.

پاسخ : 1

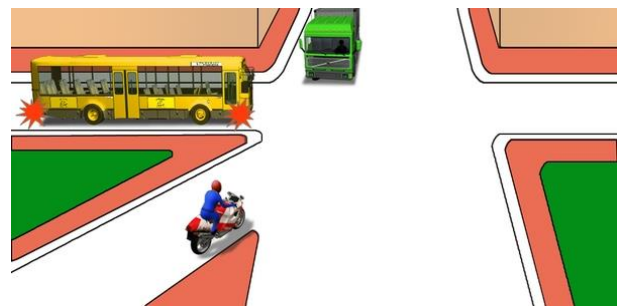
کدامیک دومین خودرویی است که از تقاطع عبور خواهد کرد؟



1. خودرو سبز رنگ.
2. خودرو آبی رنگ.
3. خودرو قرمز رنگ.

پاسخ : 1


ترتیب عبوری که درست قید شده کدام گزینه است؟



1. موتور سیکلت، اتوبوس، کامیون.
2. اتوبوس، موتور سیکلت، کامیون.
3. اتوبوس، کامیون، موتور سیکلت.

پاسخ : 1


خودرو زرد رنگ با چه ترتیبی از تقاطع عبور خواهد کرد؟



1. اول.
2. دوم.
3. سوم.
4. آخر.

پاسخ : 4

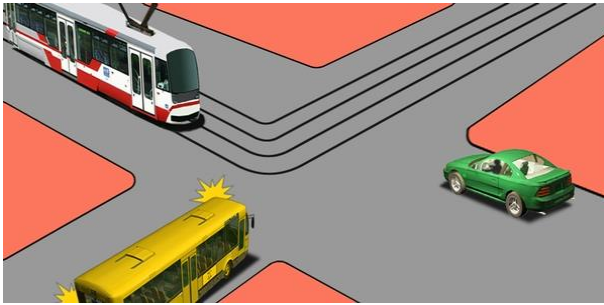
راننده کدام وسیله نقلیه باید حق تقدم را رعایت کند؟



1 راننده خودرو سواری سبک.
2 راننده اتوبوس.

پاسخ : 2

وسایل نقلیه به چه ترتیب از تقاطع عبور خواهند کرد؟



1 خودرو سواری سبک، اتوبوس، تراموا.
2 تراموا، اتوبوس، خودرو سواری سبک.
3 تراموا، خودرو سواری سبک، اتوبوس.

پاسخ : 3

وسایل نقلیه به چه ترتیب از تقاطع عبور خواهند کرد؟



1 اتوبوس زرد رنگ، کامیون، اتوبوس سبز رنگ.
2 کامیون، اتوبوس زرد رنگ، اتوبوس سبز رنگ.
3 اتوبوس زرد رنگ، اتوبوس سبز رنگ، کامیون.

پاسخ : 2

کدام وسیله نقلیه باید حق تقدم را رعایت کند؟



1 خودرو آبی رنگ.
2 خودرو قرمز رنگ.

پاسخ : 2


وسایل نقلیه به چه ترتیب از تقاطع عبور خواهند کرد، اگر چراغ های راهنمایی کار نکنند؟



1 اتوبوس برقی و موتور سیکلت، اتوبوس و خودرو سواری سبک.
2 موتور سیکلت، اتوبوس و خودرو سواری سبک، اتوبوس برقی.
3 اتوبوس و خودرو سواری سبک، اتوبوس برقی و موتور سیکلت.

پاسخ : 2


وسایل نقلیه به چه ترتیب از تقاطع عبور خواهند کرد؟



1 اتوبوس، خودرو سواری سبک همزمان با کامیون.
2 خودرو سواری سبک همزمان با کامیون، اتوبوس.

پاسخ : 1

وسایل نقلیه به چه ترتیب از تقاطع عبور خواهند کرد؟



1 آمبولانس، تراموا، موتور سیکلت، اتوبوس، خودرو سواری سبک.
2 موتور سیکلت، اتوبوس، تراموا و آمبولانس، خودرو سواری سبک.

پاسخ : 2

وسایل نقلیه به چه ترتیب از تقاطع عبور خواهند کرد؟



1 کامیون، تراموا و اتوبوس، موتور سیکلت و خودرو سواری سبک.
2 تراموا و اتوبوس، موتور سیکلت و خودرو سواری سبک، کامیون.

پاسخ : 1

وسایل نقلیه به چه ترتیب از تقاطع عبور خواهند کرد؟



1 کامیون، خودرو سواری سبک، اتوبوس، تانکر.
2 کامیون، اتوبوس، خودرو سواری سبک، تانکر.

پاسخ : 1


وسایل نقلیه به چه ترتیب از تقاطع عبور خواهند کرد؟



1 کامیون و موتور سیکلت، اتوبوس، اتوبوس برقی.
2 کامیون و اتوبوس، موتور سیکلت، اتوبوس برقی.

پاسخ : 1


وسایل نقلیه به چه ترتیب از تقاطع عبور خواهند کرد؟



1 خودرو سواری سبک، اتوبوس، کامیون.
2 اتوبوس، کامیون، خودرو سواری سبک.
3 اتوبوس، خودرو سواری سبک، کامیون.

پاسخ : 2


خودرو سواری سبک با چه ترتیبی از تقاطع عبور خواهد کرد؟



1 اول.
2 دوم و پس از اتوبوس.
3 سوم.

پاسخ : 2

وسایل نقلیه به چه ترتیب از تقاطع عبور خواهند کرد؟



- 1 کامیون، خودرو سواری سبک، اتوبوس.
- 2 اتوبوس، کامیون، خودرو سواری سبک.
- 3 اتوبوس، خودرو سواری سبک، کامیون.

پاسخ : 1

آیا در این تقاطع می توانند همزمان اقدام به گردش به چپ نمایند؟



1. بله.
2. راننده خودرو سواری سبک باید حق تقدم را رعایت کند .خیر.
3. راننده کامیون باید حق تقدم را رعایت کند .خیر.

پاسخ : 1

در این حالت مجبور به رعایت حق تقدم چه کسی هستید؟



- 1 فقط اتوبوس.
- 2 خودرو سواری سبک.
- 3 هیچ یک.

پاسخ : 3

در این حالت هنگام گردش به چپ



1. اول از همه از تقاطع عبور می کنید.
2. حق تقدم راننده کامیون را رعایت می کنید.

پاسخ : 1

در این حالت هنگام گردش به راست



1. اول از همه از تقاطع عبور می کنید.
2. حق تقدم راننده خودرو سواری سبک را رعایت می کنید.

پاسخ : 1

در صورت ادامه تردد در مسیر مستقیم



1. اول از همه از تقاطع عبور می کنید.
2. پس از عبور خودرو سواری سبک عبور می کنید.

پاسخ : 2

در این حالت هنگام دور برگردان باید حق تقدم کدامیک را رعایت کرد؟



1. خودرو سواری سبک.
2. هر دو راننده.

پاسخ : 1

در این حالت هنگام عبور از تقاطع آیا مجبور به عدم ایجاد مانعی برای عابرین پیاده هستیم؟



1. مجبوریم.
2. مجبور نیستیم.

پاسخ : 1

ورود به تقاطع در شرایط تراکم ایجاد شده بلافاصله پس از تقاطع تنها در صورتی مجاز است که:



1. به تردد در مسیر مستقیم ادامه خواهیم داد.
2. اقدام به گردش یا دور برگردان خواهیم کرد.
3. در همه موارد قید شده.

پاسخ : 2

مجبور به رعایت حق تقدم کدامیک هستیم؟



1. راننده موتور سیکلت.
2. خودرو سواری سبک.
3. هیچ یک.

پاسخ : 3

در این حالت هنگام گردش به چپ مجبور به رعایت حق تقدم کدامیک هستیم؟



1. راننده خودرو سواری سبک.
2. راننده اتوبوس.
3. هیچ یک.

پاسخ : 3

مجبور به رعایت حق تقدم کدامیک هستیم؟



1. فقط راننده تراموا.
2. راننده کامیون.
3. هر دو راننده.

پاسخ : 3

باید حق تقدم کدامیک را رعایت کرد؟



1. راننده اتوبوس.
2. هر دو راننده.
3. هیچ یک.

پاسخ : 3

در این حالت هنگام عبور از تقاطع آیا مجبور به رعایت حق تقدم هستید؟



1. مجبور هستید.
2. مجبور نیستید.

پاسخ : 2

هنگام عبور از تقاطع در این حالت:



1. ما برای عبور اول از همه دارای حق تقدم هستیم.
2. باید حق تقدم راننده تراموا را رعایت کنیم.
3. باید حق تقدم راننده کامیون را رعایت کنیم.
4. باید حق تقدم همه رانندگان را رعایت کنیم.

پاسخ : 1

تردد «راننده وسیله نقلیه ای که وارد تقاطعی می شود با تردد دورانی و مجهز به تابلوی (جهت عبور در میدان) «دورانی»:

1. مجبور به رعایت حق تقدم وسایل نقلیه ای است که در آن تقاطع در حال تردد هستند.
2. نسبت به افرادی که در آن تقاطع در حال تردد هستند دارای حق تقدم برای تردد است.

پاسخ : 1

در این حالت هنگام گردش به چپ مجبور به رعایت حق تقدم کدامیک هستیم؟



1. همه رانندگان.
2. فقط راننده خودرو سواری سبک.
3. رانندگان اتوبوس و خودرو سواری سبک.

پاسخ : 3

کدام راننده مجبور به عدم ایجاد مانع برای عابرین پیاده است؟



1. راننده خودرو سواری سبک.
2. راننده کامیون.
3. هر دو راننده.

پاسخ : 3

در این حالت آیا راننده می تواند اقدام به گردش به چپ نماید؟



1. بلی.
2. بلی اگر برای راننده کامیون مانعی ایجاد نکند.
3. خیر.

پاسخ : 2

راننده هنگام گردش به چپ در این حالت



1. باید حق تقدم را رعایت کند.
2. اول از همه از تقاطع عبور خواهد کرد.

پاسخ : 1

علامت بیانگر آن هستند که



متری ضرورت خواهد داشت حق تقدم فرد در حال تردد در مسیر متقاطع 200 در فاصله .

1. رعایت شود
2. متری باید حق تقدم همگان را 200 در مقطع .
2. رعایت کنیم

پاسخ : 1

راننده در صورت اقدام به گردش به چپ در معبر دوم



1. دارای حق تقدم است.
2. باید حق تقدم رانندگان دیگر را رعایت کند.
3. باید حق تقدم راننده اتوبوس را رعایت کند.

پاسخ : 3

راننده هنگام عبور از تقاطع در مسیر مستقیم



1. می تواند اول از همه عبور کند.
2. باید حق تقدم تراموا را رعایت کند.
3. باید حق تقدم دو راننده را رعایت کند.

پاسخ : 2

راننده هنگام گردش به چپ مجبور به رعایت حق تقدم کدامیک است؟



1. راننده اتوبوس.
2. راننده خودرو سواری سبک.
3. هیچ یک.

پاسخ : 1

راننده هنگام ورود به این تقاطع



1. دارای حق تقدم در تردد است.
2. باید حق تقدم کامیون را رعایت کند.
3. باید حق تقدم دو راننده را رعایت کند.

پاسخ : 3

راننده هنگام گردش به چپ مجبور به رعایت حق تقدم کدامیک است؟



1. دو راننده.
2. راننده خودرو سواری سبک.
3. راننده اتوبوس.

پاسخ : 1

در این حالت مجبور به رعایت حق تقدم چه کسی هستیم؟



1. دو راننده.
2. فقط کامیونی که در لاین مقابل در حال نزدیک شدن است.

پاسخ : 1

هنگام گردش به چپ



1. اول از همه از تقاطع عبور می کنید.
2. حق تقدم را رعایت خواهید کرد.

پاسخ : 1

گردش به راست را در این حالت به چه شکل انجام می دهیم؟



1. با عبور از تقاطع اول از همه.
2. حق تقدم راننده خودرو سواری سبک را رعایت می کنیم.
3. حق تقدم دو راننده را رعایت می کنیم.

پاسخ : 1

هنگام گردش به راست



1. باید حق تقدم را رعایت کنید.
2. می توانید اول از همه عبور کنید.

پاسخ : 2

هنگام گردش به چپ باید حق تقدم را برای کدامیک رعایت کنید؟



- 1 رانندگان اتوبوس و موتور سیکلت.
- 2 راننده اتوبوس.
- 3 همه.

پاسخ : 3

هنگام گردش به چپ:



1. همزمان با خودرو سواری سبک اول از همه عبور می کنید.
2. پس از موتور سیکلت عبور می کنید.

پاسخ : 2

هنگام تردد در مسیر مستقیم مجبور به رعایت حق تقدم کدامیک هستید؟



- 1 دو راننده.
- 2 فقط خودرو سواری سبک.
- 3 هیچ یک.

پاسخ : 1

آیا مجبور به رعایت حق تقدم تراموا هستیم؟



1. مجبور هستیم.
2. مجبور نیستیم.

پاسخ : 1

در این حالت چه موقع گردش به راست مجاز است؟



- 1 بلافاصله.
2. در صورت عدم ایجاد مانعی برای کامیون، همزمان با عبور آن.
- 3 پس از عبور کامیون.

پاسخ : 2

هنگام گردش به چپ مجبور به رعایت حق تقدم کدامیک هستید؟



- 1 فقط راننده اتوبوس.
- 2 هر دو راننده.
- 3 هیچ یک.

پاسخ : 1

کدامیک اول از همه از تقاطع عبور خواهد کرد؟



- 1 راننده کامیون.
- 2 راننده اتوبوس برقی.
- رانندگان با ادای احترام متقابل عبور خواهند. مقررات در این حالت موردی را تنظیم نمی کنند.
3. کرد

پاسخ : 3

در چه صورت راننده مجبور به عدم ایجاد مانع برای عابرین پیاده است؟



- 1 فقط هنگام گردش به چپ.
- 2 فقط هنگام گردش به راست.
- 3 در هر دو حالت .

پاسخ : 3

هنگام گردش به راست مجبور به رعایت حق تقدم برای کدامیک هستید؟



- 1 برای عابرین پیاده و دوچرخه سواران.
- 2 فقط برای عابرین پیاده.

پاسخ : 1

هنگام گردش به چپ مجبور به رعایت حق تقدم کدامیک هستید؟



- 1 فقط راننده خودرو سواری سبک.
- 2 راننده خودرو سواری سبک و اتوبوس.
- 3 هیچ یک.

پاسخ : 1

در این حالت مجبور به رعایت حق تقدم کدامیک هستید؟



- 1 همه رانندگان.
- 2 فقط راننده کامیون.
- 3 فقط راننده خودرو سواری سبک.


پاسخ : 1

در ساعات تاریک روز، گل و لای، زمانی که راننده قادر به تعیین وجود پوشش جاده نباشد و علائم تقدم وجود ندارند، در آن صورت (برف و غیره

1. باید چنین قلمداد کند که بر روی جاده فرعی قرار گرفته است.
2. باید بر اساس مقررات عبور از تقاطع هم عرض عمل کند.

پاسخ : 1

مجبور به رعایت حق تقدم کدامیک هستیم؟



- 1 راننده خودرو سواری سبک.
- 2 رانندگان اتوبوس و خودرو سواری سبک.
- 3 همه رانندگان.

پاسخ : 2

در این تقاطع هنگام دور برگردان



1. اول از همه اقدام به انجام مانور خواهم کرد.
2. باید حق تقدم راننده دیگر را رعایت کرد.

پاسخ : 2

در حالتی که چراغ راهنمایی زرد چشمک زن است هنگام عبور از تقاطع در مسیر مستقیم
مجبور هستیم



1. بایستیم و منتظر روشن شدن چراغ سبز به معنای اجازه عبور باشیم.
2. حق تقدم راننده خودرو سواری سبک را رعایت کنیم.
3. حق تقدم راننده تراموا را رعایت کنیم.

پاسخ : 2

در صورت تردد در مسیر مستقیم



1. می توانیم اول از همه از تقاطع عبور کنیم.
2. باید حق تقدم را رعایت کنیم.

پاسخ : 2

هنگام دور برگردان حق تقدم کدامیک را باید رعایت کنید؟



- 1 راننده کامیون.
- 2 راننده خودرو سواری سبک.
- 3 هر دو راننده.

پاسخ : 1

هنگام گردش به چپ آیا مجبور به رعایت حق تقدم تراموا هستیم؟



1. مجبور هستیم.
2. مجبور نیستیم.

پاسخ : 1

در این تقاطع آیا مجبور به رعایت حق تقدم کامیونی هستیم که از جاده بدون پوشش نزدیک می شود؟



1. مجبور هستیم زیرا از سمت راست به ما نزدیک شده است.
2. مجبور نیستیم زیرا جاده با پوشش سخت در مقایسه با جاده بدون پوشش اصلی محسوب می شود.

پاسخ : 2

در صورت مواجه شدن با چراغ راهنمایی زرد چشمک زن



1. باید منتظر روشن شدن چراغ سبز باشیم.
2. با رعایت حق تقدم راننده گاری از تقاطع عبور می کنیم.
3. همزمان با خودرو سواری سبک از تقاطع عبور می کنید.

پاسخ : 2

هنگام گردش به چپ مجبور به رعایت حق تقدم کدامیک هستیم؟



1. راننده خودرو سواری سبک.
2. راننده اتوبوس.
3. راننده موتور سیکلت.
4. هیچ یک.

پاسخ : 4

در این حالت



1. مجبور به رعایت حق تقدم راننده کامیون هستیم.
2. می توانیم همزمان با تراموا از تقاطع عبور کنیم.

پاسخ : 1

هنگام عبور از تقاطع مجبور به رعایت حق تقدم کدامیک هستیم؟



1. راننده موتور سیکلت.
2. رانندگان موتور سیکلت و اتوبوس.
3. رانندگان اتوبوس و خودرو سواری سبک.
4. همه رانندگان.

پاسخ : 4

در این حالت باید حق تقدم کدامیک را رعایت کنید؟



1. فقط راننده تراموا.
2. راننده خودرو سواری سبک.
3. رانندگان خودرو سواری سبک و تراموا.
4. همه رانندگان.

پاسخ : 3

هنگام گردش به چپ در این حالت



1. اول از همه از تقاطع عبور می کنید.
2. خود (حرکت) با ورود به تقاطع حق تقدم راننده موتور سیکلت را رعایت کرده و سپس مانور . را به پایان می رسانید

پاسخ : 2

هنگام عبور از تقاطع در مسیر مستقیم مجبور به رعایت حق تقدم کدامیک هستید؟



1. راننده کامیون.
2. راننده خودرو سواری سبک.
3. دو راننده.

پاسخ : 3

در این حالت



1. اول از همه از تقاطع عبور می کنید.
2. حق تقدم راننده خودرو سواری سبک را رعایت می کنید.
3. حق تقدم دو راننده را رعایت می کنید.

پاسخ : 2

مجبور به رعایت حق تقدم کدامیک هستید؟



1. دو راننده.
2. راننده خودرو سواری سبک.
3. راننده اتوبوس.

پاسخ : 1

در اینجا بمنظور عبور از تقاطع



1. اول از همه عبور می کنید.
2. حق تقدم کامیون را رعایت می کنید.

پاسخ : 2

آیا مجبور به رعایت حق تقدم راننده تراموا هستید؟



1. مجبور هستیم.
2. مجبور نیستیم.

پاسخ : 1

هنگام گردش به چپ باید حق تقدم را برای کدامیک رعایت کرد؟



- 1 راننده کامیون.
- 2 دو راننده.
- 3 هیچ یک.

پاسخ : 1

در این نقاط



1. حق تقدم را رعایت می کنید.
2. اول از همه عبور می کنید.

پاسخ : 2

آیا مجبور به رعایت حق تقدم تراموا هستیم؟



1. مجبور هستیم.
2. مجبور نیستیم.

پاسخ : 1

در این حالت آیا گردش به راست مجاز است؟



- 1 فقط پس از کامیون.
- 2 همزمان با کامیون اگر این اقدام مانعی برای راننده کامیون ایجاد نکند.

پاسخ : 2

هنگام تردد در مسیر مستقیم مجبور به رعایت حق تقدم کدامیک هستید؟



- 1 راننده خودرو سواری سبک.
- 2 همه.
- 3 هیچ یک.

پاسخ : 1


در این حالت رعایت حق تقدم کدامیک الزامی است؟



- 1 راننده اتوبوس.
- 2 راننده کامیون.
- 3 دو راننده.

پاسخ : 3

در کدام تصویر جاده اصلی ترسیم شده است؟



- 1 فقط راست.
- 2 راست و پایین.
- 3 همه.

پاسخ : 2

در کدام تصویر جاده اصلی ترسیم شده است؟



- 1 فقط چپ.
- 2 پایین و چپ.
- 3 همه.

پاسخ : 2

در تقاطع کدامیک جاده اصلی محسوب می شود؟

- 1 خاکی
- 2 جاده دارای سه خط عبور نسبت به جاده ای .
- 3 بتنی نسبت به جاده سنگفرش-جاده آسفالت.

پاسخ : 1

در کدام تصویر جاده اصلی ترسیم شده است؟



- 1 بالا سمت چپ.
- 2 بالا سمت راست.
- 3 در تصاویر بالا.
- 4 همه.

پاسخ : 3