

<p>При приближении к остановившемуся транспортному средству с включенным проблесковым маячком красного цвета, водители транспортных средств общего пользования, движущихся в данном направлении, должны:</p> <ol style="list-style-type: none"> <li>1. Остановиться и продолжить движение только после получения разрешения.</li> <li>2. Снизить скорость, чтобы иметь возможность немедленно остановиться в случае необходимости.</li> <li>3. Продолжить движение, так как движутся по определенному маршруту.</li> </ol> <p style="text-align: right;">отв. 1</p>	<p>При приближении транспортного средства с включенными проблесковым маячком синего цвета и специальным звуковым сигналом, водители транспортных средств общего пользования должны:</p> <ol style="list-style-type: none"> <li>1. Продолжить движение, так как движутся по определенному маршруту.</li> <li>2. Уступить дорогу для обеспечения беспрепятственного проезда указанного транспортного средства.</li> <li>3. Снизить скорость и уступить дорогу для обеспечения беспрепятственного проезда указанного транспортного средства.</li> </ol> <p style="text-align: right;">отв. 2</p>
---	---

<p>Водителями транспортных средств общего пользования звуковые сигналы могут применяться:</p> <ol style="list-style-type: none"> <li>1. Для получения преимущества по отношению к другим участникам движения.</li> <li>2. В населенных пунктах, для предупреждения других водителей о намерении произвести обгон.</li> <li>3. Когда это необходимо для предотвращения дорожно-транспортного происшествия.</li> <li>4. Во всех случаях.</li> </ol> <p style="text-align: right;">отв. 3</p>	<p>При движении по установленному маршруту в темное время суток на неосвещенных участках дорог на автобусе должен быть включен:</p> <ol style="list-style-type: none"> <li>1. Только ближний свет фар.</li> <li>2. Только дальний свет фар.</li> <li>3. Дальний или ближний свет фар.</li> </ol> <p style="text-align: right;">отв. 3</p>
--	---

<p>Должен ли быть включен ближний свет фар на транспортном средстве общего пользования при движении в светлое время суток по специально выделенной полосе против основного потока движения?</p> <ol style="list-style-type: none"> <li>1. Должен.</li> <li>2. Не должен.</li> </ol> <p style="text-align: right;">отв. 1</p>	<p>В каком случае правила не требуют подачи предупредительного сигнала?</p> <ol style="list-style-type: none"> <li>1. Перед остановкой у края проезжей части.</li> <li>2. Перед закруглением дороги, обозначенной знаком "Опасный поворот".</li> <li>3. Перед перестроением на соседнюю полосу движения.</li> </ol> <p style="text-align: right;">отв. 2</p>
--	--

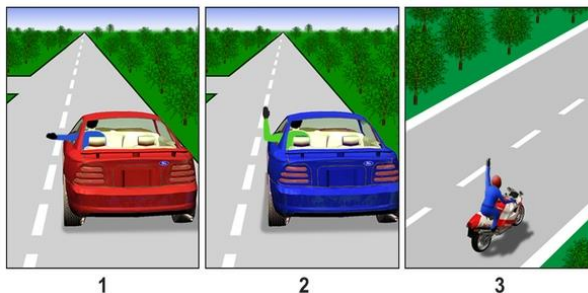
<p>Перед перестроением предупредительный сигнал должен быть подан:</p> <ol style="list-style-type: none"><li>1.Непосредственно перед выполнением маневра.</li><li>2.Сразу после выполнения маневра.</li><li>3.Заранее - до выполнения маневра.</li></ol> <p style="text-align: right;">отв. 3</p>	<p>Перед маневром предупредительный сигнал должен быть подан:</p> <ol style="list-style-type: none"><li>1.Непосредственно перед выполнением маневра.</li><li>2.Одновременно с выполнением маневра.</li><li>3.Заранее - до выполнения маневра.</li></ol> <p style="text-align: right;">отв. 3</p>
<p>Подача водителем предупредительного сигнала рукой прекращается:</p> <ol style="list-style-type: none"><li>1.Непосредственно перед выполнением маневра.</li><li>2.Непосредственно после завершения выполнения маневра.</li><li>3.Во время выполнения маневра.</li></ol> <p style="text-align: right;">отв. 1</p>	<p>В каком случае водитель должен подать предупредительный сигнал перед остановкой?</p> <ol style="list-style-type: none"><li>1.Если сзади него движется другое транспортное средство.</li><li>2.Только в населенных пунктах.</li><li>3.Во всех случаях.</li></ol> <p style="text-align: right;">отв. 3</p>
<p>Какие сигналы общей тревоги обязан подавать водитель звуковыми сигналами при вынужденной остановке транспортного средства на железнодорожном переезде?</p> <ol style="list-style-type: none"><li>1.Три длинных и один короткий.</li><li>2.Один длинный и три коротких.</li><li>3.Один длинный и два коротких.</li></ol> <p style="text-align: right;">отв. 2</p>	<p>При отсутствии или неисправности светового указателя поворота подача предупредительного сигнала рукой прекращается:</p> <ol style="list-style-type: none"><li>1.Непосредственно перед выполнением маневра.</li><li>2.Непосредственно после завершения выполнения маневра.</li><li>3.Во время выполнения маневра.</li></ol> <p style="text-align: right;">отв. 1</p>

Сигналом общей тревоги на железнодорожном переезде служат следующие комбинации звуковых сигналов:

1. Два длинных и два коротких.
2. Один длинный и три коротких.
3. Три длинных и три коротких.
4. Три длинных и один короткий.

отв. 2

На каком рисунке водитель подает сигнал о повороте налево?



- 1.1
- 2.2
- 3.3

отв. 1

Приближаясь к стоящему транспортному средству с включенным проблесковым маячком красного цвета, водители транспортных средств, движущихся в данном направлении, должны:

1. Остановиться и продолжить движение, после получения на это разрешение.
2. Снизить скорость, чтобы иметь возможность немедленно остановиться в случае необходимости.

отв. 1

С какой целью на транспортных средствах устанавливаются проблесковые маячки оранжевого или желтого цветов?

1. Для получения преимущества по отношению к другим участникам движения.
2. Для предупреждения другим участникам движения об опасности.


отв. 2

При приближении транспортного средства с включенными проблесковым маячком синего цвета и специальным звуковым сигналом, водители должны:

1. Уступить дорогу для обеспечения беспрепятственного проезда указанного транспортного средства,
2. Снизить скорость и уступить дорогу для обеспечения беспрепятственного проезда указанного транспортного средства,

отв. 1

Синий автомобиль проедет перекресток:



1. Первым одновременно с красным.
2. Вторым одновременно с красным.
3. Третьим одновременно с красным.

отв. 3

При приближении транспортного средства с включенными проблесковым маячком синего и красного цветов и специальным звуковым сигналом, водители должны

1. Уступить дорогу для обеспечения беспрепятственного проезда указанного транспортного средства,
2. Снизить скорость и уступить дорогу для обеспечения беспрепятственного проезда указанного транспортного средства, а также сопровождаемых им транспортных средств.

отв. 2


Водитель какого транспортного средства имеет право на первоочередное движение?



1. Водитель дорожной машины.
2. Водитель легкового автомобиля.

отв. 2

Черный автомобиль проедет перекресток:



1. Первым.
2. Вторым.
3. Последним.

отв. 2


Водитель какого транспортного средства должен уступить дорогу?



1. Водитель автомобиля скорой помощи.
2. Водитель легкового автомобиля.

отв. 2

Синий автомобиль проедет перекресток:



1. Первым.
2. Вторым.
3. Третьим.
4. Последним.

отв. 4

Дает ли преимущество в движении включенный на транспортном средстве проблесковый маячок желтого (оранжевого) цвета?

1. Дает.
2. Не дает.

отв. 2

Водитель транспортного средства с включенным проблесковым маячком бело-лунного цвета подает специальный звуковой сигнал, чтобы:

- 1.Получить преимущество в движении перед другими участниками движения.
- 2.Привлечь внимание служащих полиции и других лиц.

отв. 2

Водитель транспортного средства с оборудованным проблесковым маячком синего цвета имеет преимущество перед другими участниками движения, если:

- 1.Включил проблесковый маячок.
- 2.Подает специальный звуковой сигнал.
- 3.Включил проблесковый маячок и подает специальный звуковой сигнал.

отв. 3

На каком расстоянии запрещен обгон перед железнодорожным переездом?

- 1.Ближе, чем за 50 м.
- 2.Ближе, чем за 100 м.
- 3.Ближе, чем за 150 м.


отв. 2

Разрешается ли обгон транспортных средств в зоне перекрестка на дороге, являющейся главной по отношению к пересекаемой?

- 1.Разрешается.
- 2.Запрещается.

отв. 2

Разрешается ли водителю легкового автомобиля выполнить обгон в данной ситуации?



- 1.Разрешается.
- 2.Разрешается, если скорость мотоцикла не превышает 30 км/ч.
- 3.Запрещается.

отв. 3

Обгон запрещается:

- 1.На перекрестке.
- 2.Ближе, чем за 150 м до железнодорожного переезда.
- 3.В обоих случаях.


отв. 1

Обгон запрещается:

1. На регулируемых перекрестках.
2. На нерегулируемых перекрестках.
3. В обоих случаях.

отв. 3

Разрешается ли обгонять автопоезд в данной ситуации, если его скорость не превышает 30 км/ч?



1. Запрещается.
2. Разрешается.

отв. 1


Разрешается ли водителю зеленого автомобиля выполнить обгон?



1. Разрешается.
2. Запрещается.
3. Разрешается, если красный автомобиль движется со скоростью менее 30 км/ч.

отв. 2


Разрешается ли водителю красного автомобиля выполнить обгон в данной ситуации?



1. Разрешается.
2. Запрещается.
3. Разрешается, если скорость обгоняемого автомобиля не превышает 30 км/ч.

отв. 2

Разрешается ли в указанном месте обгонять автобус?



1. Разрешается.
2. Запрещается.

отв. 1

Обгоном транспортных средств считается:

1. опережение находящегося в движении одного или нескольких транспортных средств, связанное с выездом на полосу встречного движения.
2. опережение находящегося в движении одного или нескольких транспортных средств, связанное с выездом с занимаемой полосы.

отв. 2

<p>В темное время суток и в условиях недостаточной видимости, независимо от освещения дороги, на движущемся механическом транспортном средстве должны быть включены:</p> <ol style="list-style-type: none"><li>1. Дальний свет фар.</li><li>2. Ближний свет фар.</li><li>3. Дальний или ближний свет фар.</li></ol> <p style="text-align: right;">отв. 3</p>	<p>В каком случае в светлое время суток на мотоцикле должен быть включен ближний свет фар?</p> <ol style="list-style-type: none"><li>1. При движении в условиях недостаточной видимости.</li><li>2. На имеющем неисправности мотоцикле, следующем к месту стоянки.</li><li>3. В любом случае, при нахождении в движении.</li><li>4. При перевозке больного пассажира.</li></ol> <p style="text-align: right;">отв. 3</p>
<p>Что должен предпринять водитель в первую очередь при ослеплении светом фар встречного автомобиля?</p> <ol style="list-style-type: none"><li>1. Дальний свет фар (если включен) переключить на ближний.</li><li>2. Включить аварийную световую сигнализацию.</li><li>3. Подать звуковой сигнал: один длинный и три коротких.</li><li>4. Подать звуковой сигнал: один короткий и три длинных.</li></ol> <p style="text-align: right;">отв. 2</p>	<p>Звуковые сигналы могут применяться только:</p> <ol style="list-style-type: none"><li>1. В населенных пунктах, для предупреждения других водителей о намерении выполнить обгон.</li><li>2. Когда это необходимо для предотвращения дорожно-транспортного происшествия.</li><li>3. В обоих случаях.</li></ol> <p style="text-align: right;">отв. 2</p>
<p>В темное время суток на механическом транспортном средстве, движущемся на неосвещенных участках дороги, должны быть включены:</p> <ol style="list-style-type: none"><li>1. Ближний или дальний свет фар.</li><li>2. Только ближний свет фар.</li><li>3. Только дальний свет фар.</li></ol> <p style="text-align: right;">отв. 1</p>	<p>Задние противотуманные фонари могут использоваться:</p> <ol style="list-style-type: none"><li>1. При движении в колонне в темное время суток.</li><li>2. При движении в тоннелях.</li><li>3. Только в условиях недостаточной видимости.</li><li>4. В темное время суток при разгрузке транспортного средства.</li><li>5. Во всех перечисленных случаях.</li></ol> <p style="text-align: right;">отв. 3</p>

На каком расстоянии до встречного транспортного средства дальний свет фар должен быть переключен на ближний?

1. Не менее 100 м.
2. Не менее 150 м.
3. Не менее 300 м.

отв. 2

Фарой-прожектором разрешается пользоваться:

1. Только вне населенных пунктов при отсутствии встречных и попутных транспортных средств.
2. Только в условиях недостаточной видимости.
3. В любых местах, если в этом есть необходимость.
4. В темное время суток на всех участках дороги.

отв. 1

На каком расстоянии до начала опасного участка устанавливается этот предупреждающий знак в населенных пунктах?



1. 25 - 50 м.
2. 50 - 100 м.
3. 100 - 150 м.

отв. 2

Разрешается ли провозить через железнодорожный переезд сельскохозяйственные, дорожные, строительные и другие машины и механизмы?

1. Разрешается, если переезд не оборудован шлагбаумом.
2. Разрешается, если они находятся в нетранспортном положении.
3. Разрешается, если они находятся в транспортном положении.

отв. 3

Где разрешается пересекать железнодорожные линии?

1. Там, где видимость с обеих сторон составляет не менее 1000 м.
2. По усмотрению водителя в удобных для этого местах.
3. В предусмотренных для этого местах.
4. На расстоянии не менее 1000 м. От железнодорожных вокзалов.

отв. 3

Разрешается ли при выполнении служебного задания самовольно открывать шлагбаум или объезжать его?

1. Запрещается.
2. Разрешается.
3. Разрешается по усмотрению водителя, если вблизи нет приближающегося поезда.
4. Разрешается при отсутствии дежурного по переезду.

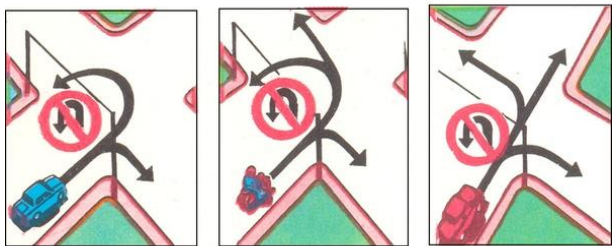
отв. 1



<p>Разрешается ли провозить через железнодорожный переезд сельскохозяйственные, дорожные, строительные и другие машины и механизмы?</p> <ol style="list-style-type: none"><li>1. Разрешается.</li><li>2. Разрешается, если они находятся в транспортном положении.</li><li>3. Запрещается.</li></ol> <p style="text-align: right;">отв. 2</p>	<p>Чем должен руководствоваться водитель при приближении к железнодорожному переезду?</p> <ol style="list-style-type: none"><li>1. Положением шлагбаума и сигналами светофора.</li><li>2. Требованиями дорожных знаков и разметок.</li><li>3. Указаниями дежурного по переезду.</li><li>4. Всеми перечисленными требованиями.</li></ol> <p style="text-align: right;">отв. 4</p>
<p>Разрешается ли пешеходам передвигаться по дороге, обозначенной знаком "Автомагистраль"?</p> <ol style="list-style-type: none"><li>1. Запрещается.</li><li>2. Разрешается, вне населенных пунктов - навстречу движения транспортных средств.</li><li>3. Разрешается, вне населенных пунктов - по ходу движения транспортных средств.</li></ol> <p style="text-align: right;">отв. 1</p>	<p>Движение транспортных средств, скорость которых по технической характеристике или состоянию не превышает 40 км/ч, на автомагистралях:</p> <ol style="list-style-type: none"><li>1. Разрешается только по крайней правой полосе.</li><li>2. Запрещается.</li><li>3. Разрешается только при отсутствии знака "Ограничение минимальной скорости".</li></ol> <p style="text-align: right;">отв. 2</p>
<p>На транспортном средстве аварийная световая сигнализация должна быть включена:</p> <ol style="list-style-type: none"><li>1. При дорожно-транспортном происшествии.</li><li>2. При вынужденной остановке в местах, где остановка запрещена.</li><li>3. В обоих случаях.</li></ol> <p style="text-align: right;">отв. 3</p>	<p>На транспортном средстве аварийная световая сигнализация должна быть включена:</p> <ol style="list-style-type: none"><li>1. При дорожно-транспортном происшествии.</li><li>2. При буксировке (на буксируемом механическом транспортном средстве).</li><li>3. При вынужденной остановке в местах, где остановка запрещена.</li><li>4. Во всех перечисленных случаях.</li></ol> <p style="text-align: right;">отв. 4</p>

<p>На каком расстоянии от транспортного средства устанавливают знак "Аварийная остановка"?</p> <p>1. В населенных пунктах - не менее чем за 15 м, вне населенных пунктов - 30 м. 2. В населенных пунктах - не менее чем за 10 м, вне населенных пунктов - 20 м. 3. В населенных пунктах - не менее чем за 5 м, вне населенных пунктов - 10 м.</p> <p>отв. 1</p>	<p>На транспортном средстве аварийная световая сигнализация должна быть включена:</p> <p>1. При ослеплении водителя светом фар. 2. При буксировке (на буксируемом механическом транспортном средстве). 3. В обоих случаях.</p> <p>отв. 3</p>
<p>На транспортном средстве аварийная световая сигнализация должна быть включена:</p> <p>1. При дорожно-транспортном происшествии. 2. При буксировке (на буксируемом механическом транспортном средстве). 3. В обоих случаях.</p> <p>отв. 3</p>	<p>На застроенных территориях, въезды на которые и выезды с которых обозначены дорожными знаками "Жилая зона" и "Конец жилой зоны", не запрещается:</p> <p>1. Перемещение пешеходов по проезжей части дороги. 2. Сквозное движение транспортных средств. 3. Учебная езда.</p> <p>отв. 1</p>
<p>Перекресток считается регулируемым, если очередность движения на нем определяется:</p> <p>1. Только сигналами светофора. 2. Только сигналами регулировщика. 3. В обоих случаях.</p> <p>отв. 3</p>	<p>Если на грунтовой дороге непосредственно перед перекрестком имеется участок с покрытием, то делает ли это ее равной по значению с пересекаемой?</p> <p>1. Нет. 2. Да.</p> <p>отв. 1</p>

На каком рисунке показаны разрешенные направления движения?



1. На левом рисунке.
2. На среднем рисунке.
3. На правом рисунке.
4. На среднем и правом рисунках.

отв. 3

Если значения сигналов светофора противоречат требованиям дорожных знаков приоритета, то водители должны руководствоваться:

1. Требованиями знаков.
2. Сигналами светофора.

отв. 2

Разрешается ли водителю продолжать движение при включении желтого сигнала светофора или поднятии регулировщиком руки вверх?

1. Запрещается.
2. Разрешается, если водитель не может остановиться, не прибегая к резкому торможению.

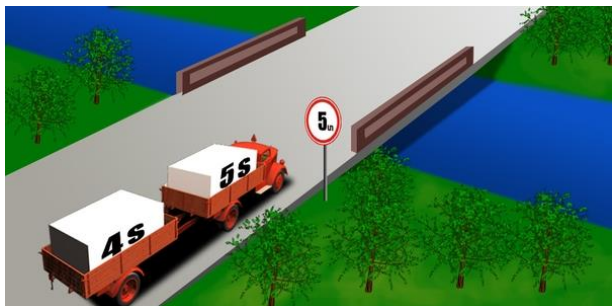
отв. 2

Регулировщик подает сигнал свистком:

1. Только в том случае, когда требует остановить транспортное средство.
2. Для привлечения к себе внимания участников движения.

отв. 2

Разрешается ли в данной ситуации автопоезду проехать по мосту?



1. Разрешается.
2. Запрещается.

отв. 2

В каком случае правила не обязывают водителя автобуса подать предупредительный знак?

1. При остановке у края проезжей части.
2. Перед закруглением участка дороги, обозначенной знаком "Опасный поворот".
3. Перед перестроением на соседнюю полосу движения.
4. При движении по установленному маршруту.

отв. 2

Перед перестроением водитель автобуса должен подать предупредительный сигнал:

1. Непосредственно перед выполнением маневра.
2. Сразу после выполнения маневра.
3. Заранее - до выполнения маневра.
4. Не обязан, если автобус движется по установленному маршруту.


отв. '3

Какие повторяющиеся звуковые сигналы общей тревоги обязан подавать водитель автобуса при вынужденной остановке на железнодорожном переезде?

1. Три длинных и один короткий.
2. Один длинный и три коротких.
3. Один длинный и два коротких.
4. Два длинных и два коротких.

отв. '2

Имеет ли водитель междугороднего автобуса право выполнять обгон мотоцикла, который движется со скоростью 70 км/ч?



1. Не имеет право.
2. Имеет право.

отв. '1

Можно ли подавать предупреждающий сигнал рукой для движения по данной траектории?



1. Можно, если неисправен указатель поворота.
2. Можно, если неисправен указатель поворота в светлое время суток.
3. Можно во всех случаях.

отв. '1

Обязан ли водитель включить указатель поворота перед началом движения в населенном пункте?

1. Не обязан.
2. Обязан.
3. Обязан при наличии других транспортных средств.

отв. '2

Водитель автомобиля патрульной службы для приобретения преимущества перед другими участниками движения должен включить:

1. Проблесковый маячок синего цвета.
2. Проблесковые маячки синего и красного цветов.
3. Проблесковый маячок синего цвета и специальный звуковой сигнал.

отв. '3

Обязан ли водитель автобуса уступить дорогу автомобилю "Скорой помощи", если на нем не включен проблесковый маячок синего цвета и специальный звуковой сигнал?



1. Обязан.
2. Не обязан.

отв. 2

Обгон запрещается:

1. На железнодорожных переездах и на расстоянии 100 м до него.
2. На железнодорожных переездах и на расстоянии 150 м до него.
3. На железнодорожных переездах и на расстоянии 250 м до него.

отв. 1

О чем информирует сигнал, поданный рукой водителя легкового автомобиля?



1. Выполняет поворот направо.
2. Продолжает движение прямо.
3. Тормозит.

отв. 3

Аварийный световой сигнал включается:

1. Перед въездом в тоннель.
2. При дорожно-транспортном происшествии.
3. При движении в составе организованной колонны.

отв. 2

О чем информирует сигнал, поданный рукой водителя мотоцикла?



1. Продолжает движение налево или в обратном направлении.
2. Продолжает движение прямо или направо.

отв. 1

О чем информирует сигнал, поданный рукой водителя легкового автомобиля?



1. Выполняет поворот направо.
2. Продолжает движение прямо.
3. Тормозит, чтобы уступить дорогу мотоциклу.

отв. 1

О чем информирует сигнал, поданный рукой водителя легкового автомобиля?



1. Намерен выполнить левый поворот или разворот.
2. Тормозит, чтобы уступить дорогу грузовому автомобилю.

отв. 1

Обязан ли водитель включить указатель поворота в данной ситуации?



1. Обязан.
2. Не обязан.

отв. 1

При организованной перевозке группы детей в светлое время суток на автобусе должны быть включены:

1. Дальний свет фар.
2. Ближний свет фар.
3. Аварийный световой сигнал.
4. Приборы внутреннего освещения салона.

отв. 2

Разрешается ли водителю грузового автомобиля обгонять автобус, который движется со скоростью 60 км/ч?



1. Запрещается.
2. Разрешается.

отв. 2

Разрешается ли выполнять обгон в данной ситуации?



1. Запрещается.
2. Разрешается.
3. Разрешается, если автобус движется со скоростью менее 30 км/ч.

отв. 1


Разрешается ли въезжать на железнодорожный переезд в данной ситуации?



1. Разрешается.
2. Запрещается.

отв. 2

Разрешается ли въезжать на железнодорожный переезд в данной ситуации?



1. Разрешается, если не приближается поезд.
2. Разрешается, если открыт шлагбаум.
3. Запрещается.

отв. '3

Как необходимо действовать в данной ситуации?



1. При отсутствии поезда объехать шлагбаум и продолжить движение.
2. Остановиться и дождаться открытия шлагбаума.

отв. '2

Разрешается ли проехать железнодорожный переезд в данной ситуации?



1. Разрешается, если не приближается поезд.
2. Разрешается.
3. Запрещается.

отв. '3

Разрешается ли проехать железнодорожный переезд в данной ситуации?



1. Запрещается.
2. Разрешается, если не приближается поезд.
3. Разрешается, поскольку дежурный переезда запрещает движение встречного транспортного средства.

отв. '1

В данной ситуации где можно начать обгон?



1. На железнодорожном переезде.
2. После железнодорожного переезда.
3. Через 100 м. после железнодорожного переезда.

отв. '2

Какой маневр выполняет водитель легкового автомобиля?



1. Обход
2. Обгон
3. Объезд

отв. '2

Разрешается ли обгонять мотоцикл?



1. Разрешается
2. Запрещается

отв. 2

В каком случае разрешается на дорогах с одной полосой в каждом направлении выполнять обгон на полосе встречного движения?

1. Только в том случае, когда полоса встречного движения свободна на достаточном расстоянии
2. Только в том случае, когда нас не обгоняют
3. Необходимо, чтобы были обеспечены оба условия

отв. 3

Разрешается ли обгон в указанной ситуации?



1. Запрещается
2. Разрешается, если маневр завершится в пределах видимости
3. Разрешается

отв. 3

Разрешается ли обгон грузового автомобиля?



1. Да
2. Да, если обгон завершится до перекрестка
3. Нет

отв. 2

Что требуется от водителя обгоняемого транспортного средства?

1. Он обязан уступить дорогу выполняющему обгон
2. Он никоим образом не должен препятствовать обгоняющему, повышая скорость или выполняя другие действия

отв. 2

Разрешается ли выполнять обгон в данной ситуации?



1. Запрещается
2. Разрешается, если скорость грузового автомобиля менее 30 км/ч
3. Разрешается

отв. 1



Разрешается ли водителю грузового автомобиля обгонять трактор, если разрешенная максимальная масса составляет 3 тонны?



1. Да
2. Да, если трактор движется со скоростью менее 30 км/ч
3. Нет

отв. 1

Если встречный разъезд затруднен в данной ситуации, то дорогу должен уступить:



1. Водитель грузового автомобиля
2. Водитель легкового автомобиля

отв. 1

Обгон на пешеходном переходе:

1. Запрещается только при наличии пешехода
2. Запрещается
3. Разрешается

отв. 2

Что показывает данный дорожный знак?



1. Через 500 метров есть упавшее дерево
2. Через 500 метров место отдыха
3. На расстоянии 500 метров место отдыха

отв. 2

Водитель в этой ситуации включить световой указатель поворота:



1. Обязан
2. Обязан, если есть приближающийся сзади водитель
3. Не обязан

отв. 3

Поднятая вверх рука водителя информирует:



1. О выполнении поворота налево
2. О прямом движении
3. О прекращении движения

отв. 3

Подача сигнала преимущество по отношению к другим участникам движения:

- 1.Предоставляет
- 2.Не предоставляет
- 3.Предоставляет, только начиная движения

отв. 2

О чем информирует водитель мотоцикла?



- 1.О продолжении движения прямо
- 2.О выполнении поворота налево
- 3.О снижении скорости, чтобы уступить дорогу легковому автомобилю

отв. 3

При выполнении поворота налево в данной ситуации подача сигнала:



- 1.Обязательна
- 2.Не обязательна

отв. 1

При выполнении обгона мы обязаны выключить световой указатель поворота:



- 1.Непосредственно после перестроения на левую полосу
- 2.Только после того, как проедем впереди идущее транспортное средство
- 3.На усмотрение водителя

отв. 1

При выполнении разворота на этом перекрестке какой указатель поворота мы должны включить?



- 1.Правый
- 2.Левый
- 3.Никакой

отв. 1

Обязаны ли Вы в указанной ситуации подать сигнал световым указателем?



- 1.Да
- 2.Нет
- 3.Да, если есть водитель,двигающийся по правой полосе

отв. 1

О чем информирует водитель мотоцикла?



1. О продолжении движения прямо
2. О выполнении поворота направо
3. О выполнении поворота налево или разворота

отв. 3

Сигнал о маневре, поданный световым указателем, должен быть прекращен:

1. Непосредственно перед маневром
2. Непосредственно после маневра
3. В течение маневра

отв. 2

Подача сигнала световым указателем в указанной ситуации:



1. Обязательна
2. По усмотрению водителя

отв. 1

Какой водитель подает сигнал о повороте направо?



1. Только находящийся справа
2. Оба водителя
3. Только находящийся слева

отв. 2

При маневрировании на стоянках или АЗС подавать сигнал световым указателем:

1. Обязаны
2. Не обязаны

отв. 1

В данной ситуации что может обозначать вытянутая наружу рука водителя?



1. Информация о начале движения с его стороны
2. Знак о просьбе остановиться
3. Сигнал общей тревоги

отв. 1

Какие сигналы Вы должны подать при выполнении разворота по указанной траектории?



1. Правый
2. Левый
3. Сначала правый, потом левый

отв. 3

Если Вы намерены остановиться непосредственно после перекрестка, когда Вы должны включить световой указатель поворота направо для того, чтобы не ввести в заблуждение участников движения?



1. Заранее, до перекрестка
2. После въезда на перекресток

отв. 2

Имеет ли преимущество водитель завершающего обгон автомобиля по отношению к водителю, движущемуся по данной полосе, при перестроении на параллельную полосу?



1. Нет
2. Да

отв. 1

Водителю, выезжающему с окрестной территории, включившему специальные звуковые и световые сигналы, уступать:



1. Не обязаны
2. Обязаны

отв. 2

При проезде перекрестка прямо обязаны ли мы уступить дорогу водителю грузового автомобиля с включенными проблесковыми маячками желтого цвета?



1. Да
2. Нет

отв. 2

При повороте налево дорогу уступим:



1. Водителю мотоцикла
2. Водителю автомобиля с включенными специальными световыми и звуковыми сигналами
3. Обоим водителям

отв. 3

Мы обязаны уступить дорогу:



1. Обоим водителям
2. Водителю грузового автомобиля с проблесковым маячком желтого цвета
3. Только водителю автобуса

отв. '3

В данной ситуации:



1. Вы проедете перекресток первыми
2. Должны уступить дорогу водителю, приближающемуся слева.

отв. '2

Мы обязаны уступить:



1. Всем
2. Водителю полицейской машины
3. Никому

отв. '2

При выполнении поворота налево:



1. Вы проедете перекресток первыми
2. Уступите только водителю полицейской машины
3. Уступите всем водителям

отв. '3