

Թույլատրվում է արդյոք մուտք գործել այս նշանով նշված գոտի աջ շրջադարձ կատարելիս:



1. Թույլատրվում է:
2. Արգելվում է:
3. Թույլատրվում է, եթե այդ գոտին մնացած երթևեկելի մասից բաժանված չէ գծանշման հոծ գծով:

Պատ.՝3

Այս ճանապարհային նշանը ցույց է տալիս՝



1. Ճանապարհի հատված, որտեղ առկա է մայր կամ հետիոտնային արահետ:
2. Ճանապարհի հատված, որտեղ առկա է հետիոտնային անցում:
3. Ճանապարհի հատված, որտեղ բացակայում է մայր կամ հետիոտնային արահետ:

Պատ.՝2

Նշաններից ո՞րն է արգելում երթևեկությունը նշանի վրա պատկերվածից ավելի փոքր միջտարածությամբ:



- 1.1
- 2.2
- 3.3
- 4.4
- 5.5

Պատ.՝3

Ճանապարհի վտանգավոր հատվածի տեղամասից ի՞նչ հեռավորության վրա են տեղադրվում այս նշանները բնակավայրերում:



1. 15 - 25 մ:
2. 25 - 50 մ:
3. 50 - 100 մ:
4. 100 - 150 մ:
5. 150 - 300 մ:

Պատ.՝3


Այս ճանապարհային նշանը՝



1. Արգելում է բոլոր մեխանիկական տրանսպորտային միջոցների երթևեկությունը՝ բացառությամբ առանց կողային կցորդի երկանիվ մոտոցիկլների:
2. Արգելվում է բոլոր տրանսպորտային միջոցների երթևեկությունը՝ բացառությամբ անվավոր տրակտորների:
3. Արգելվում է տրակտորների եւ ինքնագնաց մեքենաների երթևեկությունը:

Պատ.՝3


Նշաններից ո՞րն է պարտադրում գիշել ճանապարհը հակադարձ ուղղությամբ ճանապարհի նեղ հատված մուտք գործող կամ դրան մոտեցող տրանսպորտային միջոցներին:



- 1.1
- 2.2
- 3.3
- 4.4
- 5.5

Պատ.՝3

Նշաններից ո՞րն է նախազգուշացնում հավասարազոր ճանապարհների խաչմերուկին մոտենալու մասին:



- 1.1
- 2.2
- 3.3
- 4.4
- 5.5

Պատ.՝5


Նշաններից ո՞րն է տեղադրվում երթևեկելի մասերի հատումից անմիջապես առաջ:



- 1.1
- 2.2
- 3.3
- 4.4
- 5.5

Պատ.՝2

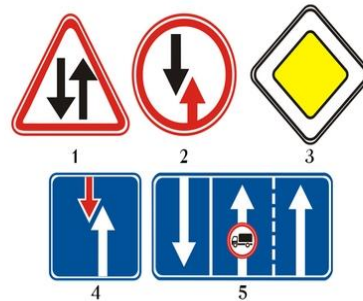
Այս նշանները թույլատրում են երթևեկությունը՝



- 1.Միայն դեպի ձախ:
- 2.Միայն ուղիղ:
- 3.Միայն դեպի աջ:
- 4.Ուղիղ, դեպի աջ եւ հակառակ ուղղությամբ:

Պատ.՝4

Նշաններից ո՞րն է վարորդին առավելություն տալիս հանդիպակաց տրանսպորտային միջոցների նկատմամբ:



- 1.1
- 2.2
- 3.3
- 4.4
- 5.5

Պատ.՝4

Ի՞նչ է նշանակում նշանի տակ տեղադրված ցուցանակը:



- 1.Նշանից մինչև առաջին շրջադարձի սկիզբը եղած հեռավորությունը:
- 2.Առաջին շրջադարձից մինչև երկրորդ շրջադարձի սկիզբը եղած հեռավորությունը:
- 3.Վտանգավոր շրջադարձերով ճանապարհի հատվածի երկարությունը:

Պատ.՝3

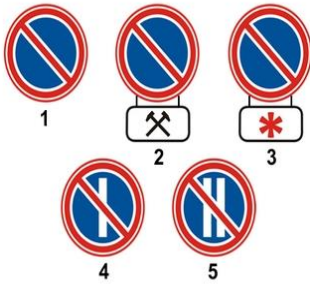
Ի՞նչ են նշանակում հետեւյալ նշանները:



- 1.Մոտոցիկլների երթևեկությունը դեպի աջ արգելվում է:
- 2.Մոտոցիկլների երթևեկությունը դեպի աջ թույլատրվում է:

Պատ.՝1

Նշաններից ո՞րն է արգելում կայանումն ամսվա զույգ օրերին:



- 1.1
- 2.2
- 3.3
- 4.4
- 5.5

Պատ.՝5

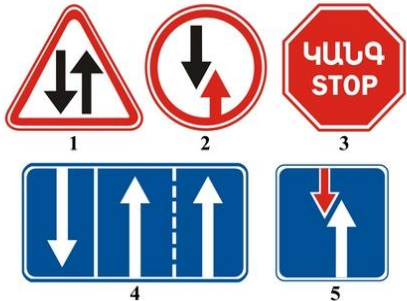
Այս ճանապարհային նշանը՝



- 1.Թույլատրում է երթևեկել միայն նշված կամ ավելի բարձր արագությամբ:
- 2.Արգելում է երթևեկել նշանի վրա նշվածից ավելի բարձր արագությամբ:
- 3.Ցույց է տալիս այն արագությունը, որով առաջարկվում է երթևեկել ճանապարհի տվյալ հատվածում:

Պատ.՝1

Հետևյալ նշաններից ո՞րն է պարտադրում զիջել ճանապարհը հանդիպակաց երթևեկող տրանսպորտային միջոցներին:



- 1.1
- 2.2
- 3.3
- 4.4
- 5.5

Պատ.՝2


Այս նշանը կոչվում է՝



- 1.Արգելքի շրջանցման նախնական ցուցիչ:
- 2.Այլ երթևեկելի մաս վերադասավորվելու նախնական ցուցիչ:
- 3.Հանդիպակաց երթևեկության գոտի դուրս գալու նախնական ցուցիչ:

Պատ.՝2

Նշաններից ո՞րն է պարտադրում զիջել ճանապարհը հատվող ճանապարհով ընթացող տրանսպորտային միջոցներին:



- 1.1
- 2.2
- 3.3
- 4.4
- 5.5

Պատ.՝3


Թույլատրվում է արդյոք ավտոբուսի վարորդին վազանց կատարել այս նշանի ազդանա գոտում:



- 1.Թույլատրվում է բոլոր դեպքերում՝ վազանցի կանոնները պահպանելով:
- 2.Չի թույլատրվում:
- 3.Թույլատրվում է, եթե վազանցվող տրանսպորտային միջոցի արագությունը չի գերազանցում 30 կմ/ժ:

Պատ.՝1

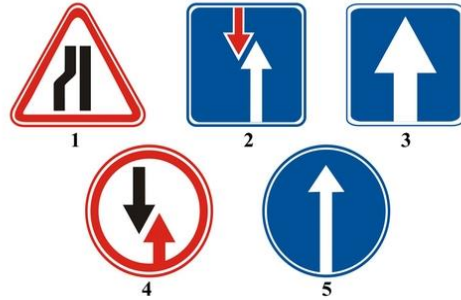
Հետևյալ նշաններից ո՞րն է թույլատրում երթևեկել միայն նշված (կմ/ժ) կամ ավելի բարձր արագությամբ:



- 1.1
- 2.2
- 3.3
- 4.4
- 5.5

Պատ.՝3

Նշաններից ո՞րն է ցույց տալիս միակողմ երթևեկության ճանապարհի հատվածը:



- 1.1
- 2.2
- 3.3
- 4.4
- 5.5

Պատ.՝3

Ի՞նչ է ցույց տալիս այս նշանի տակ տեղադրված ցուցանակը՝



- 1. Ճանապարհի նեղ հատվածի երկարությունը:
- 2. Նշանից մինչև սահմանափակման տեղն ընկած հեռավորությունը:
- 3. Մինչև ճանապարհի նեղ հատվածի շրջանցման տեղն ընկած հեռավորությունը:

Պատ.՝2

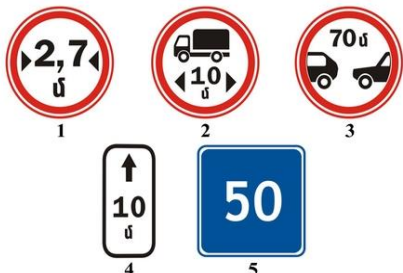
Այս ճանապարհային նշանը նախազգուշացնում է, որ առջեւում՝



- 1. Կամուրջ կամ լաստանավային անցում չունեցող ջրային արգելքով ճանապարհահատված է:
- 2. Ջրային արգելքով ճանապարհահատված է, որի վրա առկա է բացվող կամուրջ:
- 3. Տեղամաս է, որտեղ ճանապարհը դուրս է գալիս ափ կամ առափ:

Պատ.՝3

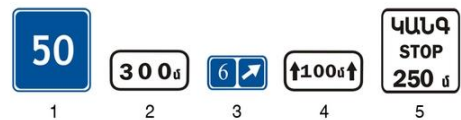
Նշաններից ո՞րն է ցույց տալիս տրանսպորտային միջոցների կանգառն ու կայանելն արգելող ճանապարհային նշանների ազդման գոտին:



- 1.1
- 2.2
- 3.3
- 4.4
- 5.5

Պատ.՝4

Հետևյալ նշաններից ո՞րն է ցույց տալիս նախազգուշացնող նշանների ազդեցության՝ ճանապարհի վտանգավոր հատվածի երկարությունը:



- 1.1
- 2.2
- 3.3
- 4.4
- 5.5

Պատ.՝4


Այս ճանապարհային նշանը ցույց է տալիս՝



1. Միակողմ երթևեկությամբ ճանապարհ, որով թույլատրվում է միայն բեռնատար ավտոմոբիլների երթևեկությունը:
2. Միայն բեռնատար ավտոմոբիլների երթևեկության համար նախատեսված գոտին:
3. Բեռնատար ավտոմոբիլների համար առաջարկվող երթևեկության ուղղությունը:

Պատ.՝3

Նշաններից ո՞րն է կոչվում «Յուրանոց» կամ «Սոթել»:



- 1.1
- 2.2
- 3.3
- 4.4
- 5.5

Պատ.՝3


Այսպիսի ճանաչման նշանով կահավորվում են այն ավտոմոբիլները, որոնք՝



1. Փոխադրում են վտանգավոր բեռներ:
2. Ղեկավարվում են հաշմանդամների կողմից:
3. Ղեկավարվում են խուլ կամ խուլ ու համր վարորդների կողմից:
4. Ղեկավարվում են մինչև 3 տարի վարորդական փորձ ունեցող վարորդների կողմից:

Պատ.՝3

Նշաններից ո՞րն է ցույց տալիս 50 կմ/ժ առավելագույն արագության սահմանափակման գոտու վերջը:



- 1.1
- 2.2
- 3.3
- 4.4
- 5.5

Պատ.՝2


Ինչի՞ մասին են զգուշացնում այս նշանը եւ ցուցանակը:



1. Նորոգման աշխատանքների կատարման պատճառով ճանապարհի կողնակին կանգառ կատարելն արգելվում է:
2. Նորոգման աշխատանքների կատարման պատճառով ճանապարհի կողնակ մուտք գործելը վտանգավոր է:
3. Նորոգման աշխատանքների կատարման պատճառով ճանապարհի կողնակին կայանելն արգելվում է:

Պատ.՝2

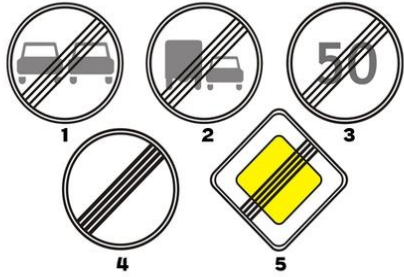
Այսպիսի ճանաչման նշանով են կահավորվում այն տրանսպորտային միջոցները, որոնք՝



1. Ղեկավարվում են հաշմանդամների կողմից:
2. Փոխադրում են ծանրաքաշ եւ մեծ եզրաչափերով բեռներ:
3. Փոխադրում են վտանգավոր բեռներ:
4. Ղեկավարվում են խուլ կամ խուլ ու համր վարորդների կողմից:

Պատ.՝3

Նշաններից ո՞րն է վերացնում նախկին բոլոր սահմանափակումները:



- 1.1
- 2.2
- 3.3
- 4.4
- 5.5

Պատ.՝4


Ո՞ր դեպքում է վարորդը ճիշտ կատարել այս նշանի պահանջները:



- 1. Չիջել է ճանապարհը հատվող ճանապարհով ընթացող մեխանիկական տրանսպորտային միջոցներին:
- 2. Չիջել է ճանապարհը հատվող ճանապարհով ընթացող տրանսպորտային միջոցներին:

Պատ.՝2


Տեղադրվածներից ո՞րն է կիրառվում որպես ավտոգնացքի ճանաչման նշան:



- 1. Ձախ նշանը:
- 2. Աջ նշանը:
- 3. Երկու նշաններն էլ:

Պատ.՝2

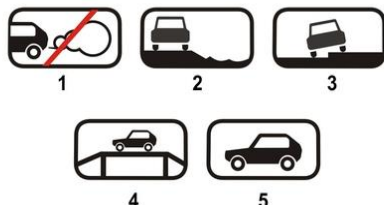
Ո՞ր նշանն է պարտադրում զիջել ճանապարհը հատվող ճանապարհով երթեւեկող տրանսպորտային միջոցներին:



- 1.1
- 2.2
- 3.3
- 4.4
- 5.5

Պատ.՝4

Հետեւյալ նշաններից (ցուցանակներից) ո՞րն է ցույց տալիս տրանսպորտային միջոցի կանգնեցման ձեւը կայանման տեղերում:



- 1.1
- 2.2
- 3.3
- 4.4
- 5.5

Պատ.՝3

Թույլատրվում է արդյոք ուղեւորներ նստեցնելու համար կանգ առնել այս նշանով նշված գոտու վրա:



- 1. Թույլատրվում է, եթե այդ գոտին գտնվում է երթեւեկելի մասի աջ եզրի մոտ եւ մնացած երթեւեկելի մասից բաժանված չէ գծանշման հոծ գծով:
- 2. Արգելվում է:
- 3. Թույլատրվում է:

Պատ.՝1

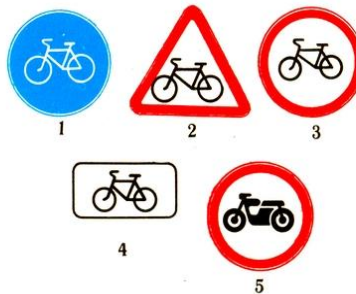
Այս ճանապարհային նշանի առկայության դեպքում՝



1. Արգելվում է բոլոր տեսակի տրանսպորտային միջոցներով վազանցի կատարումը, բացառությամբ դանդաղընթաց տրանսպորտային միջոցների, լծասայլերի, առանց կողային կցորդի երկանիվ մոտոցիկլների, մոպեդների եւ հեծանիվների:
 2. Թույլատրվում է 3.5 տ ոչ ավելի թույլատրելի առավելագույն զանգված ունեցող բեռնատար ավտոմոբիլներով վազանցի կատարումը:
 3. Թույլատրվում է վազանցի կատարումը, եթե վազանցող տրանսպորտային միջոցի արագությունը չի գերազանցում 30 կմ/ժ:

Պատ.՝1


Նշաններից ո՞րն է կոչվում «Չատում հեծանվային արահետի հետ»:



- 1.1
- 2.2
- 3.3
- 4.4
- 5.5

Պատ.՝2

Նշաններից ո՞րն է ցույց տալիս երթեւեկության ուղղությունները T-աձեւ խաչմերուկում:



- 1.1
- 2.2
- 3.3
- 4.4
- 5.5

Պատ.՝2

Այս ճանապարհային նշանը ցույց է տալիս՝



1. Միջանցիկ անցում չունեցող ճանապարհ:
 2. Երթեւեկության ուղղությունը դեպի բնակավայրում գտնվող օբյեկտ:
 3. Թափառքի գոտու կամ վերելքի վրա լրացուցիչ գոտու վերջը:

Պատ.՝1

Ո՞ր նշանի ազդեցությունը չի տարածվում ընդհանուր օգտագործման տրանսպորտային միջոցների վրա:



- 1.1
- 2.2
- 3.3
- 4.4
- 5.5

Պատ.՝4

Ո՞ր տրանսպորտային միջոցների երթեւեկությունն է թույլատրվում այս նշանի ազդեցության ճանապարհներին:



1. Մեխանիկական տրանսպորտային միջոցների:
 2. Բոլոր տրանսպորտային միջոցների:
 3. Ավտոմոբիլների եւ մոտոցիկլների:
 4. Այն տրանսպորտային միջոցների, որոնց առավելագույն արագությունը գերազանցում է 40 կմ/ժ:

Պատ.՝3

Այս ճանապարհային նշաններից ո՞րը չի համարվում արգելիչ:



- 1.1
- 2.2
- 3.3
- 4.4
- 5.5

Պատ.՝2

Ի՞նչ է նշանակում այս ճանաչման նշանը:



- 1. Առջեւում երթելու մասի անհարթություններ ունեցող ճանապարհի հատված է:
- 2. Առջեւում տվյալ ուղղությամբ երթելու համար երեք գոտի ունեցող ճանապարհի հատված է:
- 3. Մեխանիկական տրանսպորտային միջոցի վրա տեղադրված են բուլթակավոր դոդեր:

Պատ.՝3


Նշաններից ո՞րն է կոչվում «Միակողմ երթելու» ճանապարհի վերջ:



- 1.1
- 2.2
- 3.3
- 4.4
- 5.5

Պատ.՝4

Նշաններից ո՞րն է պարտադրում զիջել ճանապարհը հատվող ճանապարհով ընթացող տրանսպորտային միջոցներին:



- 1.1
- 2.2
- 3.3
- 4.4
- 5.5

Պատ.՝2

Հետեւյալ նշանները ցույց են տալիս՝



- 1. Կայանման տեղը 30 մետրից՝ «Հաշմանդամներ» ճանաչման նշանով կահավորված ավտոմոբիլների համար:
- 2. Կայանման տեղը 30 մ երկարությամբ գոտում՝ տրանսպորտային միջոցների համար՝ բացառությամբ մոտոսայլակների:
- 3. Կայանման տեղը 30 մ երկարությամբ գոտում՝ մոտոսայլակների և «Հաշմանդամ» ճանաչման նշանով կահավորված ավտոմոբիլների համար:

Պատ.՝3

Այս նշաններից ո՞րն է համարվում տրանսպորտային միջոցի ճանաչման նշան:



- 1.1
- 2.2
- 3.3

Պատ.՝3

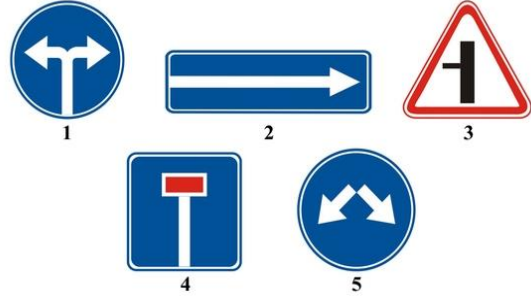
Ո՞ր տրանսպորտային միջոցի երթևեկությունն է արգելում այս ճանապարհային նշանը:



- 1.Մեխանիկական տրանսպորտային միջոցների:
- 2.Միայն ավտոմոբիլների:
- 3.Միայն թեթև մարդատար ավտոմոբիլների:

Պատ.՝1

Նշաններից ո՞րն է ցույց տալիս արգելքի շրջանցումն աջից կամ ձախից:



- 1.1
- 2.2
- 3.3
- 4.4
- 5.5

Պատ.՝5

Նշաններից ո՞րն է տեղադրվում տրանսպորտային միջոցների առջեի եւ ետեի կողմերում՝ երեխաների կազմակերպված խմբեր տեղափոխելիս:



- 1.1.
- 2.2.
- 3.3.
- 4.4.

Պատ.՝1

Ի՞նչ են ցույց տալիս նշված ճանապարհային նշանները:



- 1.Գլխավոր ճանապարհը շարունակվում է խաչմերուկից դեպի ձախ:
- 2.Գլխավոր ճանապարհը շարունակվում է խաչմերուկից ուղիղ եւ դեպի ձախ:

Պատ.՝1


Ի՞նչ են ցույց տալիս նշված ճանապարհային նշանները:



- 1.Ցուցանակի ազդեցության գոտում վարորդները պետք է երթևեկեն նշանի վրա ցույց տրվածից ավելի բարձր արագությամբ:
- 2.Ցուցանակի ազդեցության գոտում վարորդներին առաջարկվում է երթևեկել նշանի վրա ցույց տրված արագությամբ:

Պատ.՝2


Ո՞ր նշանների ազդեցությունն է գործում միայն այն ժամանակահատվածում, որի ընթացքում երթևեկելի մասի ծածկույթը խոնավ է:



- 1.Միայն A եւ C:
- 2.Միայն B:
- 3.Միայն C:
- 4.Բոլոր:

Պատ.՝3

Ինչպե՞ս պետք է վարվի վարորդը տվյալ իրադրությունում:



1. Շարունակի ընթացքն ուղիղ:
2. Վերադասավորվի ճանապարհի հանդիպակաց երթեւեկելի գոտի:

Պատ.՝2

Ի՞նչ են ցույց տալիս նշված ճանապարհային նշանները:



1. Նշանից 150-300 մետրից հետո աջ կողմից կա ճանապարհի նեղացում, որի երկարությունը 100 մ է:
2. Նշանից 100 մետրից հետո, ճանապարհի աջ կողմից կա ճանապարհի նեղացում:

Պատ.՝1

Ո՞ր ուղղությամբ է թույլատրվում վարորդին երթեւեկել:



1. Միայն աջ եւ ձախ:
2. Միայն ուղիղ:
3. Ուղիղ եւ հակառակ ուղղությամբ:

Պատ.՝3

Ի՞նչ են ցույց տալիս նշված ճանապարհային նշանները:



1. Կանգառն արգելված է շաբաթ օրերին:
2. Կանգառն արգելված է կիրակի օրերին:
3. Կանգառն արգելված է շաբաթ-կիրակի եւ տոն օրերին:
4. Կանգառն արգելված է ձյունաթափի ժամանակ:

Պատ.՝3

Ո՞ր ճանապարհային նշանն է արգելում հետադարձը:



- 1.1.
- 2.2.
- 3.3.

Պատ.՝3

Ի՞նչ են ցույց տալիս նշված ճանապարհային նշանները:



1. Նորոգման աշխատանքների պատճառով կողակ մուտք գործելը վտանգավոր է:
2. Ճանապարհին իրականացվում են վերանորոգման աշխատանքներ:

Պատ.՝1


Ի՞նչպես պիտի վարվի վարորդն այն դեպքում, երբ խաչմերուկից առաջ տեղադրված է հետեւյալ ճանապարհային նշանը:



1. Անցնել խաչմերուկը՝ անվտանգությունը պահպանելով:
2. Ճանապարհը զիջել հատվող ճանապարհով ընթացող տրանսպորտային միջոցներին:
3. Կանգնել նշանի առջև եւ ճանապարհը զիջել հատվող ճանապարհով ընթացող տրանսպորտային միջոցներին:

Պատ.՝3

Ո՞ր ճանապարհային նշանների ազդեցությունը չի տարածվում ընդհանուր օգտագործման տրանսպորտային միջոցների վրա:



1 2 3 4

1. Ոչ մեկը:
2. Միայն առաջինը:
3. Միայն չորրորդը:

Պատ.՝3

Հետեւյալ ճանապարհային նշանը ցույց է տալիս՝



1. Խաչմերուկում պետք է երթեւեկել դեպի ձախ կամ աջ:
2. Հատվող ճանապարհին կազմակերպված է դարձափոխային երթեւեկություն:
3. Հատվող ճանապարհին կազմակերպված է միակողմանի երթեւեկություն:

Պատ.՝2

Տվյալ իրադրությունում պարտավոր է վարորդը ճանապարհը զիջել բեռնատար ավտոմոբիլին:



1. Պարտավոր է:
2. Պարտավոր չէ:

Պատ.՝1

Ի՞նչ են ցույց տալիս հետեւյալ ճանապարհային նշանները:



1. Ճանապարհի սառցապատման ժամանակ պետք է երթեւեկել 40 կմ/ժ արագությամբ:
2. Թաց ճանապարհածածկույթի դեպքում պետք է երթեւեկել 40 կմ/ժ-ից ոչ ավելի արագությամբ:

Պատ.՝2

Ի՞նչ են ցույց տալիս հետեւյալ ճանապարհային նշանները:



1. Կանգառն արգելված է շաբաթ օրերին:
2. Կանգառն արգելված է կիրակի օրերին:
3. Կանգառն արգելված է աշխատանքային օրերին:

Պատ.՝3

Ի՞նչպես պետք է վարվի վարորդը, եթե խաչմերուկում մտադիր է կատարել աջ շրջադարձ:



1. Կարող է վերադասավորվել աջ երթևեկելի գոտի, դրանից հետո կատարել աջ շրջադարձ:
2. Կարող է մոտենալ խաչմերուկին, այնուհետև կատարել աջ շրջադարձ:
3. Երկու պատասխաններն էլ ճիշտ են:

Պատ.՝3

Տվյալ իրադրությունում նշանից 200 մ հեռավորության վրա վարորդն ունի՞ արդյոք հետադարձի իրավունք:



1. Իրավունք ունի:
2. Իրավունք չունի:

Պատ.՝1

Տվյալ դեպքում պարտավոր է վարորդը կանգ առնել կարգավորողի կողմից նշված տեղում:



1. Պարտավոր չէ, քանի որ նշանն արգելում է կանգառը:
2. Պարտավոր է:

Պատ.՝2

Ինչպե՞ս պետք է վարվի վարորդը տվյալ իրավիճակում:



1. Անցնի երկաթուղային գծանցն՝ ապահովելով անվտանգությունը:
2. Անցնի երկաթուղային գծանցն առանց կանգ առնելու:
3. Կանգ առնի նշանից առաջ եւ պահպանելով անվտանգությունն՝ անցնի բազմազիծ երկաթուղային գծանցը:

Պատ.՝3

Ի՞նչ է ցույց տալիս երթևեկելի մասում արված գծանշումը:



1. Համընթաց ուղղությամբ երթևեկող տրանսպորտային միջոցների համար առանձնացված գոտիների սահմանները:
2. Դարձափոխային երթևեկության գոտու սահմանները:

Պատ.՝2

Ո՞ր ուղղությամբ է թույլատրվում թեթև մարդատար ավտոմոբիլի երթևեկությունը:



1. Դեպի ձախ եւ հակառակ ուղղությամբ:
2. Ցանկացած ուղղությամբ:
3. Ուղիղ, ձախ եւ հակառակ ուղղությամբ:

Պատ.՝3

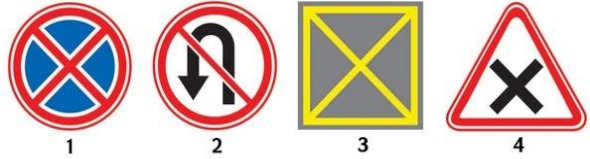
Ինչպե՞ս պետք է վարվի վարորդը տվյալ իրադրությունում:



1. Անհրաժեշտության դեպքում ճանապարհը զիջի հատվող ճանապարհով երթևեկող տրանսպորտային միջոցին:
2. Կանգ առնի եւ ճանապարհը զիջի հատվող ճանապարհով երթևեկող տրանսպորտային միջոցին:

Պատ.՝2

Ստորև ներկայացվող ճանապարհային նշաններից ո՞րն է արգելում մուտք գործել խաչմերուկի տարածք, եթե առջևում՝ երթևեկության ուղղությամբ առաջացել է խցանում, բացառությամբ աջ կամ ձախ շրջադարձ կատարելու դեպքերի



- 1.1
- 2.2
- 3.3
- 4.4

Պատ.՝3

Ի՞նչ առավելագույն հեռավորության վրա է տեղադրվում բարդ խաչմերուկներում «խաչմերուկի տարածք» ճանապարհային նշանը, եթե այն հնարավոր չէ տեղադրել խաչմերուկի սահմանին:



1. 10 մետր
2. 20 մետր
3. 30 մետր

Պատ.՝3

Ինչի՞ մասին է զգուշացնում հետևյալ ճանապարհային նշանը:



1. Կանգառն արգելվում է:
2. Արգելվում է մուտք գործել խաչմերուկի տարածք, եթե առջևում՝ երթևեկության ուղղությամբ առաջացել է խցանում, որը վարորդին կհարկադրի կանգ առնել:
3. Արգելվում է մուտք գործել խաչմերուկի տարածք, եթե առջևում՝ երթևեկության ուղղությամբ առաջացել է խցանում:

Պատ.՝2


Ի՞նչ է ցույց տակիս հետևյալ ճանապարհային զծանշումը:



1. Տրանսպորտային միջոցների կայանման վայր:
2. Հետիոտնային անցման տեղ:
3. Անվտանգության կղզակ:
4. Խաչմերուկի հատված, որտեղ արգելվում է մուտք գործել, եթե առջևում՝ երթևեկության ուղղությամբ առաջացել է խցանում, որը վարորդին կհարկադրի կանգ առնել:

Պատ.՝4

Ստորև ներկայացված ճանապարհային զծանշումներից ո՞րն է ցույց տալիս խաչմերուկի հատվածը, որտեղ արգելվում է մուտք գործել, եթե առջևում՝ երթևեկության ուղղությամբ առաջացել է խցանում, որը վարորդին կհարկադրի կանգ առնել:



- 1.1
- 2.2
- 3.3

Պատ.՝3

Հետադարձ կատարել նշված գոտուց



1. Թույլատրվում է
2. Արգելվում է

Պատ.՝2

Ո՞ր հետագծով է թույլատրվում հետադարձ կատարել



1. Միայն Ա
2. Միայն Բ
3. Արգելվում է երկու հետագծերով

Պատ.՝1

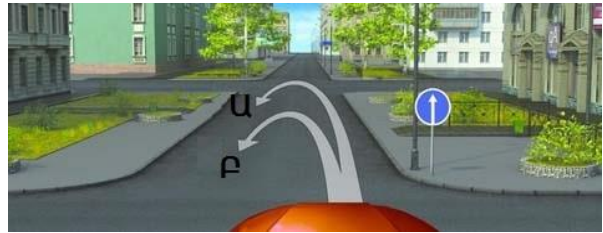
Ո՞ր հետագծով է թույլատրվում հետադարձ կատարել



1. Միայն Ա
2. Միայն Բ
3. Ոչ մի

Պատ.՝3

Ո՞ր հետագծով է թույլատրվում հետադարձ կատարելը



1. Խաչմերուկում՝ Ա
2. Մինչև խաչմերուկը՝ Բ
3. Երկու հետագծերով թույլատրված է
4. Երկու հետագծերով արգելված է

Պատ.՝1

Պարտավոր եք արդյո՞ք կանգ առնել «Կանգ-գծի» առջև



1. Այո
2. Ոչ

Պատ.՝2

Երթևեկությունը թույլատրվում է



1. Միայն Բ ուղղությամբ
2. Միայն Ա կամ Բ ուղղություններով
3. Ցանկացած ուղղությամբ

Պատ.՝2

Այս իրավիճակում



1. Պարտավոր ենք զիջել ճանապարհը բեռնատարի վարորդին
2. Կարող ենք նեղ հատվածն անցնել առաջինը

Պատ.՝2

Այս նշաններից հետո 3.5 տոննայից ոչ ավել թույլատրելի առավելագույն զանգվածով բեռնատարի վարորդին երթևեկության առավելագույն արագությունը սահմանված է



1. 60 կմ/ժ
2. 70 կմ/ժ
3. 80 կմ/ժ

Պատ.՝3


Ի՞նչն է արգելված այս ճանապարհային նշանով



1. 20 կմ/ժ-ից ավելի երթևեկությունը
2. Մեխանիկական տրանսպորտային միջոցներով երթևեկությունը
3. Բոլոր տրանսպորտային միջոցներով երթևեկությունը

Պատ.՝3

Որտե՞ղ է անհրաժեշտ կանգ առնել նշանի պահանջը կատարելիս



1. Նշանի առջև (Ա)
2. Խաչմերուկից առաջ (Բ)
3. Երթևեկելի մասերի հատումից առաջ (Գ)

Պատ.՝3

Ո՞ր նշանն է արագության սահմանափակում մտցնում:




- 1) 1 և 3 2) 1 և 4 3) միայն 2-ը 4) 2 և 3

1. 1 և 3
2. 1 և 4
3. միայն 2-ը
4. 2 և 3

Պատ.՝3

Նշաններից ո՞րի ազդեցությունն է տարածվում միայն այն գոտում, որի վրա կախված է



1. Միայն Ա
2. Միայն Բ
3. Ա և Բ

Պատ.՝1

Կայանել նշված վայրում



- 1. Թույլատրվում է
- 2. Թույլատրվում է միայն լուսավոր ժամերին
- 3. Արգելված է

Պատ.՝1

Խախտել է արդյո՞ք կայանման կանոնները բեռնատարի վարորդը



- 1. Այո
- 2. Այո, եթե թույլատրելի առավելագույն զանգվածը գերազանցում է 3,5 տոննան
- 3. Ոչ

Պատ.՝1

Ո՞ր ուղղությամբ է թույլատրված երթևեկությունը



- 1. Միայն ուղիղ
- 2. Ուղիղ և հակառակ
- 3. Բոլոր ուղղություններով

Պատ.՝2

Ի՞նչ է ցույց տալիս լրացուցիչ տեղեկատվության ցուցանակը



- 1. Նշանից մինչև խաչմերուկ եղած հեռավորությունը, երբ խաչմերուկից անմիջապես առաջ տեղադրված է «Չիջեք ճանապարհը» նշանը
- 2. Նշանից մինչև խաչմերուկ եղած հեռավորությունը, երբ խաչմերուկից անմիջապես առաջ տեղադրված է «Երթևեկությունն առանց կանգառի արգելված է» նշանը
- 3. Սահմանաչիսն անցակետի գտնվելու վայրը

Պատ.՝2

Կանգառ կատարել նշված վայրում



- 1. Թույլատրվում է
- 2. Արգելվում

Պատ.՝1

Ո՞ր նշանների ազդեցությունն է տարածվում շարժման ուղղությամբ մինչև մոտակա խաչմերուկը



- 1. Ա և Գ
- 2. Բ և Դ
- 3. Գ և Դ

Պատ.՝2

Այս նշաններով ի՞նչ արագության ռեժիմ է սահմանված ճանապարհին



1. Նվազագույն արագությունը — 50 կմ/ժ
2. Առաջարկվող արագությունը — 50 կմ/ժ
3. Համընթաց ձախ գոտով նվազագույն արագությունը — 50 կմ/ժ

Պատ.՝3

Նշաններից, որն է արգելում ձախ շրջադարձ կատարել



Ա



Բ



Գ

1. Միայն Ա
2. Միայն Ա և Բ
3. Միայն Ա և Գ
4. Բոլոր

Պատ.՝3

Թույլատրվո՞ւմ է վարորդին կատարել ձախ շրջադարձ



1. Այո
2. Ոչ

Պատ.՝1

Նշանները տեղեկացնում են այն մասին, որ



1. 150 մետր ճանապարհահատվածում առկա է հետիոտների երթևեկելի մաս հայտնվելու վտանգ
2. 150 մետրից չկարգավորվող հետիոտնային անցում է լինելու

Պատ.՝2

Ո՞ր հետագծերով է թույլատրված երթևեկությունը



1. Միայն Բ
2. Ա կամ Բ
3. Բ կամ Գ

Պատ.՝1

Նշաններից ո՞րն է արգելում երթևեկությունը 40կմ/ժ-ից պակաս արագությամբ



Ա



Բ



Գ

1. Միայն Ա
2. Միայն Գ
3. Ա և Բ

Պատ.՝3

Նշաններից ո՞րի դեպքում պետք է զիջեք ճանապարհը հանդիպակաց երթևեկողին նեղ հատվածում



Ա Բ Գ Դ

1. Միայն Գ
2. Ա և Գ
3. Բ և Գ

Պատ.՝2

Ո՞ր ուղղությամբ կարող եք շարունակել երթևեկությունն այս խաչմերուկում, եթե վարում եք 3.5 տոննա թույլատրելի առավելագույն զանգվածով բեռնատար ավտոմեքենա



1. Միայն ձախ
2. Աջ, ձախ կամ հակառակ
3. Ցանկացած

Պատ.՝3

Թո՞ւյլատրվում է աջ շրջադարձ դեպի հողային ծածկույթով ճանապարհը



1. Այո
2. Ոչ

Պատ.՝1

Թույլատրվո՞ւմ է ուղևոր նստեցնելու նպաստակով կանգառ կատարել նշված վայրում



1. Այո
2. Ոչ

Պատ.՝1

Ո՞ր նշանով է նշվում հետիոտնային արահետը



Ա Բ Գ

1. Բ
2. Բ և Գ
3. Բոլոր

Պատ.՝1

Այս ճանապարհային նշանը



1. Նախազգուշացնում է նեղ հատվածին մոտենալու մասին
2. Արգելում է անցնել կամուրջով
3. Պարտադրում է զիջել ճանապարհը հանդիպակաց երթևեկող վարորդին նեղ հատվածներում

Պատ.՝3

Ինչպե՞ս կվարվեք, եթե անհրաժեշտ է շարժման ուղղությունը փոխել հակառակի



1. Հետադարձ կկատարեք այս խաչմերուկում
2. Խաչմերուկն ուղիղ անցնելու հետո հետադարձ կկատարեք
3. Երկու տարբերակն էլ թույլատրելի են:

Պատ.՝2


Կայանումը նշված վայրում



1. Թույլատրվում է
2. Արգելվում է

Պատ.՝2

Այս ցուցանակի դեպքում իր հետ օգտագործված նշանի ազդեցությունը տարածվում է



1. Միայն թեթև մարդատարների վրա
2. Թեթև մարդատար, ինչպես նաև մինչև 3.5 տոննա թույլատրելի առավելագույն զանգված ունեցող բեռնատարների վրա
3. Թեթև մարդատարների և մոտոցիկլների վրա

Պատ.՝2

Այս ճանապարհային նշանը



1. Կանգնել կողնակին արգելում է
2. Կողնակ դուրս գալը վտանգավոր է նորոգման աշխատանքների պատճառով
3. Կանգնել թույլատրվում է միայն երթևեկելի մասում

Պատ.՝2

Նշված գոտուց ո՞ր ուղղություններով է թույլատրված երթևեկությունը



1. Միայն ձախ
2. Ուղիղ և ձախ
3. Ուղիղ, ձախ և հակառակ

Պատ.՝3

Այս խաչմերուկում նշվածներից ո՞ր ուղղություններով կարող եք շարունակել երթևեկությունը



1. Միայն Ա
2. Բ կամ Գ
3. Ա կամ Բ

Պատ.՝3

Այս ճանապարհային նշանը



1. Առաջարկում է երթևեկել 40կմ/ժ արագությամբ
2. Թույլատրում է երթևեկել միայն 40կմ/ժ կամ ավելի բարձր արագությամբ
3. Արգելում է երթևեկել 40կմ/ժ-ից բարձր արագությամբ

Պատ.՝3

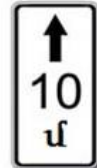
Ցուցանակներից որոնք են, իրենց հետ տեղակայված նշանի ազդման գոտին ցույց տալիս



Ա



Բ



Գ

1. Միայն Ա
2. Միայն Բ
3. Բ և Գ

Պատ.՝3

Ո՞ր բակ է թույլատրվում մուտք գործել վարորդին



1. Չախ
2. Աջ
3. Ոչ մի բակ չի կարելի մուտք գործել
4. Երկու բակերն էլ թույլատրված է

Պատ.՝2

Ո՞ր դեպքում է նշանի ազդեցությունն սկսվում անմիջապես տեղակայման վայրից



Ա



Բ



Գ

1. Միայն Ա և Բ
2. Միայն Բ
3. Բոլոր

Պատ.՝1

Ո՞ր հետագծով է թույլատրվում շարունակել երթևեկությունը



1. Միայն Ա
2. Միայն Ա կամ Գ
3. Միայն Ա կամ Դ
4. Ցանկացած, բացի Բ-ից

Պատ.՝4


Ի՞նչի մասին է նախազգուշացնում ճանապարհային նշանը



1. Սայթաջուն ճանապարհահատվածին մոտենալու
2. Թաղ և կեղտոտ ճանապարհահատվածին մոտենալու
3. Ճանապարհահատվածի, որտեղ հնարավոր է խճի արտանետում անիվներից

Պատ.՝3

Նշաններից որի՞ ազդան գտում և չեն գործում բնակավայրում երթևեկության կանոնները



1. Միայն Ա
2. Միայն Գ
3. Բ և Գ

Պատ.՝2

Թե՞թև մարդատարի վարորդին ո՞ր ուղղությամբ է թույլատրվում երթևեկել այս իրավիճակում



1. Միայն ուղիղ
2. Ուղիղ և աջ
3. Ցանկացած

Պատ.՝3

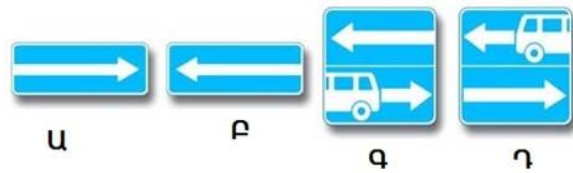
Բեռնաթափել ավտոմոբիլը այս ճանապարհային նշանի ազդան գտում



1. Թույլատրվում է, եթե այն մինչև 5 րոպե կտևի
2. Թույլատրվում է, անկախ տևողությունից
3. Արգելվում է

Պատ.՝2

Նշաններից ո՞րն է արգելում հետադարձը



1. Միայն Ա
2. Միայն Ա և Գ
3. Ոչ մեկը

Պատ.՝3

Թույլատրվո՞ւմ է նշված բակ մուտք գործել



1. Այո
2. Ոչ

Պատ.՝1

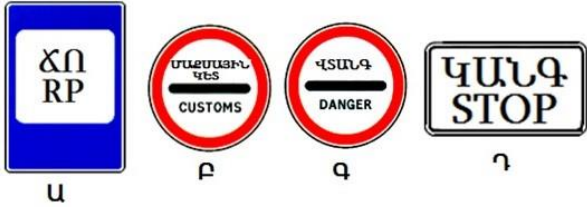
Այս իրադրությունում կանգառ կատարել ուղևոր նստեցնելու նպատակով



1. Թույլատրվում է նշանից հետո
2. Թույլատրվում է մինչև նշանը
3. Արգելվում է երկու դեպքում

Պատ.՝3

Ո՞ր նշաններից հետո է առանց թույլտվության երթևեկությունն արգելվում



1. Միայն Ա և Դ
2. Միայն Բ և Գ
3. Միայն Դ և Գ
4. Բոլոր

Պատ.՝2

Այս դեպքում նվազագույնը որքա՞ն հետո կարող է հանդիպել հավասարազոր խաչմերուկը



1. 100 մետր
2. 150 մետր
3. 350մետր

Պատ.՝3

Սլաքներով նշվածներից ո՞ր ուղղությամբ կարելի է շարունակել քարշակումը



1. Միայն Ա
2. Միայն Բ
3. Երկու ուղղություններով

Պատ.՝1

Ո՞րտեղից են սկսում գործել բնակավայրով երթևեկության կանոնները

1. Սպիտակ հիմնագույնով բնակավայրի սկիզբ նշաններից հետո միայն
2. Բնակավայրի անունը պարունակող սպիտակ կամ կապույտ հիմնագույնով նշաններից հետո միայն
3. Միայն կառուցապատ տարածքն սկսելուց հետո

Պատ.՝1

Այս ճանապարհային նշանը



1. Նախագուշացնում է տրամվայի գծերի հետ հատման մասին
2. Տրամվայների կանգառի կետին մոտենալու մասին
3. Պարտադրում է զիջել տրամվայի վարորդին

Պատ.՝1

Այս նշանները պարտադրում են պահպանել առջևից ընթացողից հեռավորությունը



1. Փոքր 70 մետրից 900 մետր հատվածում
2. Ավելի 70 մետրից 900 մետր հատվածում
3. 70մ՝ 900 մետր հետո:

Պատ.՝2

Նշված գոտուց ո՞ր ուղղությամբ կարող եք շարունակել երթևեկությունը



1. Միայն ուղիղ
2. Ձախև և ուղիղ
3. Ձախև, ուղիղ և հետադարձ

Պատ.՝2

Այս նշանները նախագրուշացնում են



1. Եռագիծ երկաթուղային գծանցին մոտենալու մասին
2. 150-300մ հեռավորությունից կլինի առանց ուղեփակոցի երկաթուղային գծանց
3. 50-100 մետր հեռու երկաթուղային գծանց է

Պատ.՝2


Թույլատրվո՞ւմ է կայանումը նշված վայրում



1. Այո
2. Թույլատրվում է միայն նշված վայրի բնակիչներին
3. Ոչ

Պատ.՝1

Նշաններից ո՞րն է 5 տոննա զանգված ունեցող բեռնատարի վարորդին պարտադրում աջ շրջադարձ կատարել խաչմերուկում



1. Միայն Ա
2. Միայն Բ
3. Ա և Բ
4. Բ և Գ

Պատ.՝2

Ի՞նչ ուղղությամբ կարող եք շարունակել երթևեկությունը նշված խաչմերուկում, եթե վարում եք 3 տոննա թույլատրելի առավելագույն զանգվածով բեռնատար



1. Միայն ուղիղ
2. Միայն ուղիղ և աջ
3. Ցանկացած

Պատ.՝3

Նշաններից որով է կահավորվում արհեստական անհարթությունը



1. Միայն Ա
2. Միայն Բ
3. Բ և Գ

Պատ.՝1

Ո՞ր հետագծով կարող եք շարունակել երթևեկությունը



- 1. Միայն Ա
- 2. Միայն Բ
- 3. Նշված երկու հետագծերով

Պատ.՝1

Չկարգավորվող խաչմերուկում ո՞ր նշաններն են առավելություն տալիս վարորդին հատվող ճանապարհով երթևեկողների նկատմամբ



Ա



Բ



Գ

- 1. Միայն Ա
- 2. Ա և Գ
- 3. Բոլոր

Պատ.՝2

Թույլատրվո՞ւմ է վազանց կատարել այս իրավիճակում



- 1. Այո
- 2. Այո, եթե մոտոցիկլի արագությունը փոքր է 30կմ/ժ-ից
- 3. Ոչ

Պատ.՝1

Խախտել է արդյո՞ք բեռնատարի վարորդը կայանման կանոնները



- 1. Ոչ
- 2. Այո, եթե թույլատրելի առավելագույն զանգվածը մեծ է 3,5 տոննայից
- 3. Այո

Պատ.՝3

Ո՞ր հետագծով է թույլատրված հետադարձ կատարելը



- 1. Միայն Ա
- 2. Միայն Բ
- 3. Ցանկացած

Պատ.՝2

Ամսվա կենտ օրերին կարելի է՞ կայանել նշված վայրում



- 1. Այո
- 2. Այո ժամը 19:00-ից հետո
- 3. Ոչ

Պատ.՝2

Ո՞ր նշաններով է նշվում այն հատվածը, որտեղ վարորդները պետք է զիջեն երթևեկելի մասը հատող հետիոտներին



Ա



Բ



Գ

1. Միայն Ա և Բ
2. Միայն Բ և Գ
3. Բոլոր

Պատ.՝2

Նշաններից ո՞րն է նախագուշացնում հանդիպակաց երթևեկությանը ճանապարհի սկզբին մոտենալու մասին



Ա



Բ



Գ

1. Միայն Ա
2. Միայն Ա և Բ
3. Բոլորը

Պատ.՝1

Թո՞ւյլատրվում է մոտենալ աշխատանքի վայրին այս նշանների ազդման գոտում



1. Թույլատրվում է միայն աշխատանքային օրերին
2. Թույլատրվում է միայն ոչ աշխատանքային օրերին
3. Թույլատրվում է բոլոր օրերին
4. Արգելվում է

Պատ.՝3

Թույլատրվում է արդյո՞ք կցորոջ քարշակող թեթև մարդատարի երթևեկությունն այս խաչմերուկում ուղիղ ուղղությամբ



1. Այո
2. Թույլատրվում է միայն այդ հատվածի բնակիչներին
3. Ոչ

Պատ.՝1

Նշվածներից ո՞ր ուղղությամբ է թույլատրված երթևեկությունը



1. Միայն Բ
2. Միայն Ա և Բ
3. Միայն Բ և Գ
4. Բոլոր

Պատ.՝4

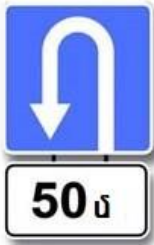
Այս նշանը



1. Ցույց է տալիս շարժման ուղղությունները խաչմերուկում
2. Արգելվում է երթևեկությունը խաչմերուկով

Պատ.՝1

Ո՞ր դեպքում է նշված հետադարձի համար գոտու երկարությունը



Ա



Բ

- 1. Ա
- 2. Միայն Բ
- 3. Ա և Բ

Պատ.՝2

Բնակավայրում ի՞նչ հեռավորությունից է սկսվելու սայթաքուն ճանապարհահատվածը



- 1. Նվազագույնը 100մետրից
- 2. Նվազագույնը 50 մետրից
- 3. Անմիջապես նշանից հետո

Պատ.՝2


Ո՞ր տրանսպորտային միջոցների վրա չի տարածվում կանգառն արգելող նշանի ազդեցությունն այս դեպքում



- 1. Թեթև մարդատար տաքսի ավտոմոբիլների
- 2. Միայն «Հաշմանդամ» ճանաչման նշանով կահավորված մոտոսայլակների և ավտոմոբիլների վրա
- 3. Բոլոր նշվածների

Պատ.՝2

Սյուս խաչմերուկում նշվածներից ո՞ր ուղղությամբ կարող եք շարունակել երթևեկությունը



- 1. Միայն Բ
- 2. Ա կամ Բ
- 3. Բոլոր

Պատ.՝3

Ո՞ր նշանի ազդման գոտում կարող եք երթևեկել 60կմ/ժ արագությամբ



Ա



Բ



Գ

- 1. Միայն Բ
- 2. Բ և Գ
- 3. Ոչ մեկի

Պատ.՝2

Ո՞ր վարորդն է խախտել կայանման կանոնները



- 1. Ոչ ոք
- 2. Բեռնատարի վարորդը
- 3. Մոտոցիկլի և թեթև մարդատարի վարորդները

Պատ.՝1

Նշվածներից ո՞ր ուղղությունն է թույլատրելի



1. Միայն Գ
2. Ա կամ Գ
3. Բոլոր, բացի Դ

Պատ.՝2

Ո՞ր ցուցանակով կիրառված նշանի ազդեցությունն է տարածվում 3,5 տոննայից թեթև թույլատրելի առավելագույն զանգվածով բեռնատարի վարորդի վրա



Ա



Բ



Գ

1. Միայն Բ
2. Միայն Գ
3. Բ և Գ
4. Բոլոր

Պատ.՝3

Ո՞ր դեպքում է տեղեկացվում երկու և ավելի ուղիներով երկաթուղային գծանցի մասին



Ա



Բ



Գ

1. Ա և Գ
2. Ա և Բ
3. Միայն Գ
4. Բ և Գ

Պատ.՝3

Ջետադարձը նշված հետագծով



1. Թույլատրվում է
2. Արգելվում է

Պատ.՝2

Կայանուճը ուղեկամուրջից հետո



1. Թույլատրված
2. Արգելվում է

Պատ.՝2

Այս ճանապարհային նշանները տեղեկացնում են



1. Երկաթուղային գծանցի շինարարության մասին
2. Ուղեփակցով երկաթուղային գծանցին մոտենալու մասին
3. Առանց ուղեփակց երկաթուղային գծանցի մասին

Պատ.՝2

Ո՞ր նշաններն են թույլատրում հետադարձը



Ա



Բ



Գ

1. Բոլորը, բացի Գ
2. Բոլորը
3. Միայն Ա

Պատ.՝2

Նշված գոտով երթևեկելիս թույլատրվում է երթևեկությունը



1. Միայն ձախ
2. Միայն ուղիղ
3. Ձախ և հետադարձ

Պատ.՝3

Այս նշանը տեղեկացնում է այնպիսի թունելի մոտենալու մասին



1. Որտեղ բացակայում են գծանշումները
2. Որտեղ բացակայում է արհեստական լուսավորությունը

Պատ.՝2

Նշված վայրերից ո՞րտեղ կարելի է կանգառ կատարել



1. Միայն Ա
2. Միայն Բ
3. Ոչ մի

Պատ.՝2

Նշաններից ո՞րի դեպքում կարող եք ձախ շրջադարձ կատարել



Ա



Բ



Գ

1. Միայն Բ
2. Ա և Բ
3. Բ և Գ

Պատ.՝3

Այս նշանը նախապես տեղեկացնում է



1. Հեծանվորդին զիջելու անհրաժեշտության մասին
2. Հեծանվային արահետի հետ հատման մասին
3. Հեծանվային հրապարակին մոտենալու մասին:

Պատ.՝2

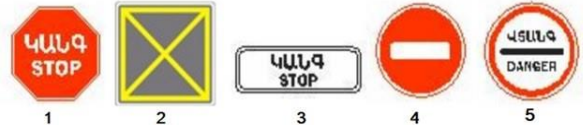
Ո՞ր տրանսպորտային միջոցների վարորդների վրա է տարածվում
նշանների ազդեցությունը



1. Թեթև մարդատարների և մոտոցիկլների
2. Բոլորի
3. Միայն թեթև մարդատարների

Պատ.Վ

Ո՞ր նշանի դեպքում կանգ առնելուց հետո առանց թույլտվության
շարժումը վերսկսել չի կարելի:



1. Միայն 2
2. 1 և 5
3. Միայն 5
4. Բոլորը

Պատ.Յ