

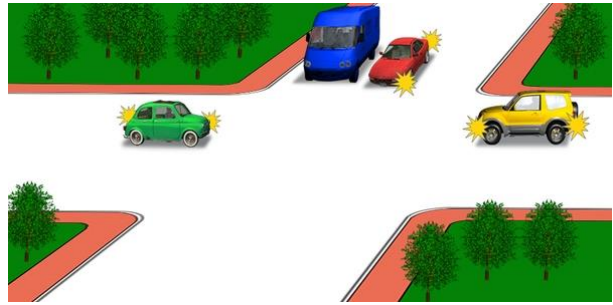
Տրանսպորտային միջոցները խաչմերուկը կանցնեն հետեւյալ հերթականությամբ՝



1. Թեթեւ մարդատար ավտոմոբիլը, ավտոբուսը, տրոլեյբուսը:
2. Տրոլեյբուսը եւ ավտոբուսը, թեթեւ մարդատար ավտոմոբիլը:
3. Տրոլեյբուսը, թեթեւ մարդատար ավտոմոբիլը, ավտոբուսը:

Պատ.՝3


Խաչմերուկն առաջինը կանցնի՝



1. Կարմիր ավտոմոբիլը:
2. Կապույտ ավտոմոբիլը:
3. Դեղին ավտոմոբիլը:
4. Կանաչ ավտոմոբիլը:

Պատ.՝4

Խաչմերուկը վերջինը կանցնի՝



1. Կապույտ ավտոմոբիլը:
2. Կանաչ ավտոմոբիլը:
3. Կարմիր ավտոմոբիլը:

Պատ.՝1


Կապույտ ավտոմոբիլը խաչմերուկը կանցնի՝



1. Առաջինը:
2. Երկրորդը:

Պատ.՝1

Ո՞ր պատասխանում է ճիշտ նշված խաչմերուկի անցման հերթականությունը:



1. Ավտոբուս, թեթեւ մարդատար ավտոմոբիլ, հեծանիվ:
2. Թեթեւ մարդատար ավտոմոբիլ, ավտոբուս, հեծանիվ:
3. Հեծանիվ, ավտոբուս, թեթեւ մարդատար ավտոմոբիլ:

Պատ.՝3

Խաչմերուկը երկրորդը կանցնի՝



1. Տրամվայը:
2. Կարմիր ավտոմոբիլը:
3. Կապույտ ավտոմոբիլը:

Պատ.՝1


Ո՞ր ուղղությամբ է արգելվում երթևեկությունը:



1. Դեպի աջ՝ առաջին անցումով:
2. Դեպի աջ՝ երկրորդ անցումով:
3. Դեպի աջ՝ առաջին եւ երկրորդ անցումներով:

Պատ.՝2


Խաչմերուկը երկրորդը կանցնի՞



1. Կանաչ ավտոմոբիլը:
2. Կարմիր ավտոմոբիլը:
3. Կապույտ ավտոմոբիլը:

Պատ.՝2


Խաչմերուկը երկրորդը կանցնի՞



1. Կապույտ ավտոմոբիլը:
2. Կանաչ ավտոմոբիլը:
3. Կարմիր ավտոմոբիլը:

Պատ.՝1

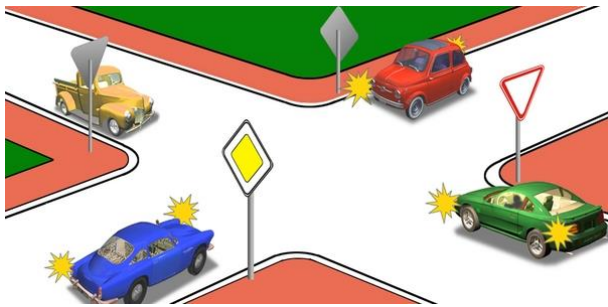
Խաչմերուկը երկրորդը կանցնի՞



1. Սպիտակ ավտոմոբիլը՝ դեղինի հետ միաժամանակ:
2. Կարմիր ավտոմոբիլը:
3. Կանաչ ավտոմոբիլը:

Պատ.՝2

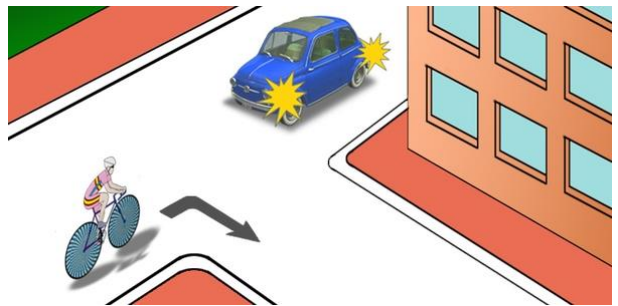
Խաչմերուկը վերջինը կանցնի՞



1. Կապույտ ավտոմոբիլը:
2. Դեղին ավտոմոբիլը:
3. Կանաչ ավտոմոբիլը:
4. Կարմիր ավտոմոբիլը:

Պատ.՝3

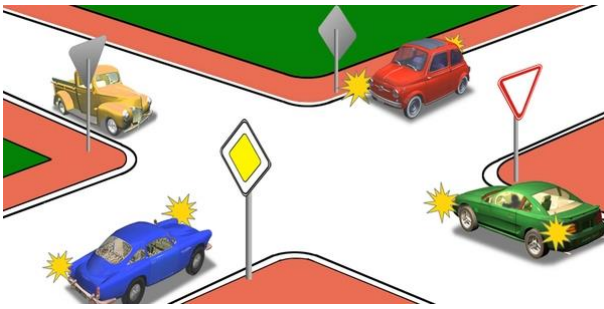
Ո՞ր տրանսպորտային միջոցի վարորդը պետք է գիշի ճանապարհը:



1. Հեծանվորդը:
2. Ավտոմոբիլի վարորդը:

Պատ.՝2


Խաչմերուկն առաջինը կանցնի՝



1. Կանաչ ավտոմոբիլը:
2. Կապույտ ավտոմոբիլը:
3. Կարմիր ավտոմոբիլը:
4. Դեղին ավտոմոբիլը:

Պատ.՝3


Տրանսպորտային միջոցները ի՞նչ հերթականությամբ խաչմերուկը կանցնեն:



1. Մոտոցիկլը, ավտոմոբիլը, տրամվայը:
2. Տրամվայը, ավտոմոբիլը, մոտոցիկլը:
3. Տրամվայը, մոտոցիկլը, ավտոմոբիլը:

Պատ.՝1

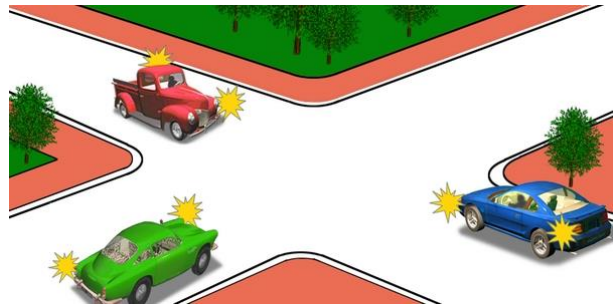
Խաչմերուկը երկրորդը կանցնի՝



1. Կարմիր ավտոմոբիլը:
2. Կապույտ ավտոմոբիլը:
3. Կանաչ ավտոմոբիլը:

Պատ.՝2

Խաչմերուկը վերջինը կանցնի՝



1. Կանաչ ավտոմոբիլը:
2. Կապույտ ավտոմոբիլը:
3. Կարմիր ավտոմոբիլը:

Պատ.՝3

Ո՞ր ավտոմոբիլը վերջինը կանցնի խաչմերուկը:



1. Կապույտը:
2. Կարմիրը:
3. Կանաչը:

Պատ.՝2

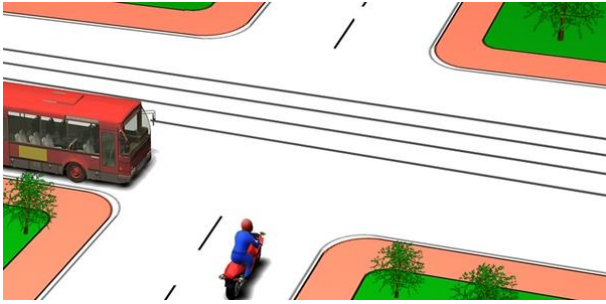
Խաչմերուկն առաջինը կանցնի՝



1. Կանաչ ավտոմոբիլը:
2. Կարմիր ավտոմոբիլը:
3. Կապույտ ավտոմոբիլը:

Պատ.՝1

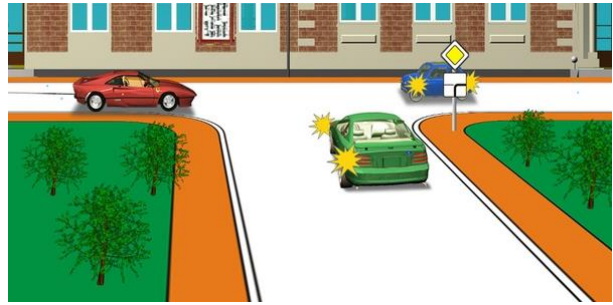
Ո՞ր տրանսպորտային միջոցի վարորդը պետք է զիջի ճանապարհը:



1. Ավտոբուսի վարորդը:
2. Մոտոցիկլի վարորդը:

Պատ.՝1

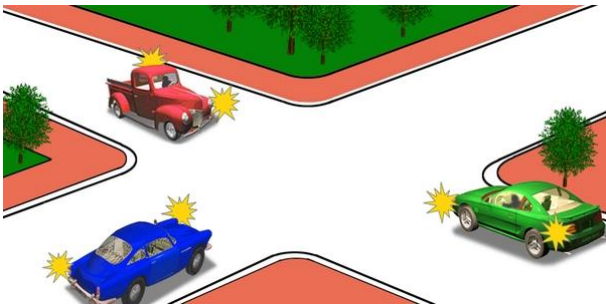
Խաչմերուկն առաջինը կանցնի՞



1. Կարմիր ավտոմոբիլը:
2. Կանաչ ավտոմոբիլը:
3. Կապույտ ավտոմոբիլը:

Պատ.՝3


Խաչմերուկը երկրորդը կանցնի՞



1. Կապույտ ավտոմոբիլը:
2. Կանաչ ավտոմոբիլը:
3. Կարմիր ավտոմոբիլը:

Պատ.՝1

Խաչմերուկը երրորդը կանցնի՞



1. Կապույտ ավտոմոբիլը:
2. Դեղին ավտոմոբիլը:
3. Կանաչ ավտոմոբիլը:
4. Կարմիր ավտոմոբիլը:

Պատ.՝2

Կարմիր ավտոմոբիլը՞



1. Ունի երթևեկության առավելություն, քանի որ շրջանաձև երթևեկությամբ խաչմերուկին մոտեցել է կապույտ ավտոմոբիլի աջ կողմից:
2. Պետք է ճանապարհը զիջի շրջանաձև երթևեկությամբ ճանապարհով երթևեկող կապույտ ավտոմոբիլին:

Պատ.՝2


Ավտոմոբիլները խաչմերուկը կանցնեն հետևյալ հերթականությամբ՞



1. Դեղինը, կանաչը, կապույտը:
2. Կապույտը՝ կանաչի հետ միաժամանակ, դեղինը:

Պատ.՝2


Խաչմերուկը երրորդը կանցնի՝



1. Դեղին ավտոմոբիլը:
2. Կարմիր ավտոմոբիլը:
3. Կապույտ ավտոմոբիլը:
4. Կանաչ ավտոմոբիլը:

Պատ.՝3

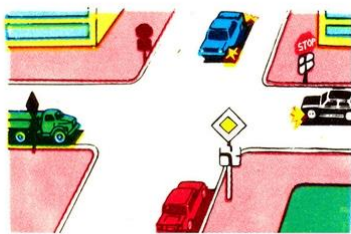
Խաչմերուկն առաջինը կանցնի՝



1. Կանաչ ավտոմոբիլը:
2. Կապույտ ավտոմոբիլը:
3. Կարմիր ավտոմոբիլը:

Պատ.՝3

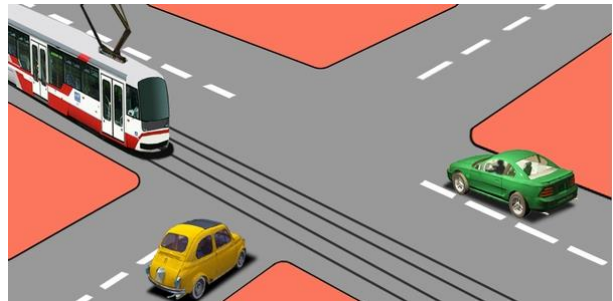
Տրանսպորտային միջոցները խաչմերուկը կանցնեն հետեւյալ հերթականությամբ՝



1. Կարմիրը, կանաչը, կապույտը, սեւը:
2. Կանաչը, կարմիրը, սեւը, կապույտը:
3. Կանաչը, կարմիրը, կապույտը, սեւը:

Պատ.՝1

Խաչմերուկը տրանսպորտային միջոցները կանցնեն հետեւյալ հերթականությամբ՝



1. Տրամվայը, դեղին ավտոմոբիլը, կանաչ ավտոմոբիլը:
2. Տրամվայը եւ կանաչ ավտոմոբիլը, դեղին ավտոմոբիլը:
3. Կանաչ ավտոմոբիլը, դեղին ավտոմոբիլը, տրամվայը:

Պատ.՝2

Վարորդներից ո՞րն ունի առաջնահերթ երթելու կայան իրավունք:



1. Մոտոցիկլի վարորդը:
2. Ավտոմոբիլի վարորդը:

Պատ.՝2

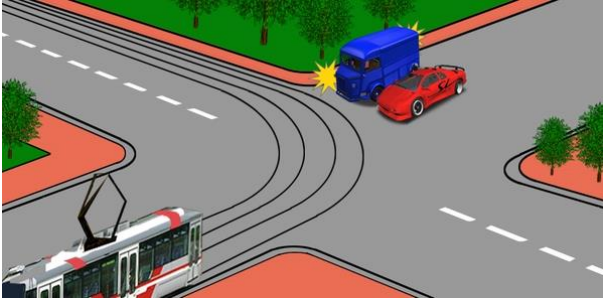
Խաչմերուկը երկրորդը կանցնի՝



1. Կարմիր ավտոմոբիլը:
2. Կապույտ ավտոմոբիլը:
3. Կանաչ ավտոմոբիլը:

Պատ.՝3


Ո՞ր տրանսպորտային միջոցի վարորդը պետք է գիշի ճանապարհը:



- 1.Տրամվայի վարորդը:
- 2.Բեռատար ավտոմոբիլի վարորդը:
- 3.Ավտոմոբիլների վարորդները:

Պատ.՝3

Կարմիր ավտոմոբիլը խաչմերուկը կանցնի՞



- 1.Առաջինը:
- 2.Երկրորդը:

Պատ.՝1

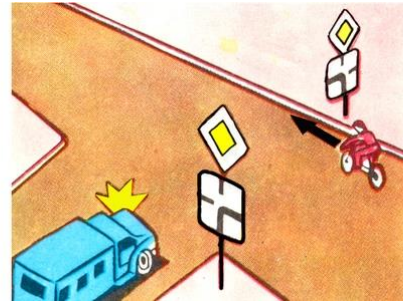
Տրանսպորտային միջոցները խաչմերուկը կանցնեն հետևյալ հերթականությամբ՝



- 1.Թեթև մարդատար ավտոմոբիլը, ավտոբուսը, հեծանիվը:
- 2.Ավտոբուսը, հեծանիվը, թեթև մարդատար ավտոմոբիլը:
- 3.Ավտոբուսը, թեթև մարդատար ավտոմոբիլը, հեծանիվը:
- 4.Հեծանիվը, ավտոբուսը, թեթև մարդատար ավտոմոբիլը:

Պատ.՝4

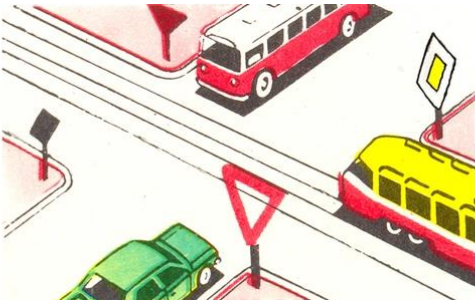
Ո՞ր տրանսպորտային միջոցի վարորդն ունի առաջնահերթ երթևեկության իրավունք:



- 1.Ավտոմոբիլի վարորդը:
- 2.Հեծանվորդը:

Պատ.՝2


Տրանսպորտային միջոցները խաչմերուկը կանցնեն հետևյալ հերթականությամբ՝



- 1.Տրամվայը, ավտոմոբիլը եւ ավտոբուսը միաժամանակ:
- 2.Տրամվայը, ավտոբուսը, ավտոմոբիլը:
- 3.Ավտոբուսը, տրամվայը, ավտոմոբիլը:

Պատ.՝1


Ո՞ր տրանսպորտային միջոցի վարորդը պետք է գիշի ճանապարհը:



- 1.Կապույտ ավտոմոբիլի վարորդը:
- 2.Կարմիր ավտոմոբիլի վարորդը:

Պատ.՝1

Ո՞ր տրանսպորտային միջոցի վարորդը պետք է զիջի ճանապարհը:



- 1. Ավտոմոբիլի վարորդը:
- 2. Ստտոցիկլի վարորդը:

Պատ.՝2

Ո՞ր տրանսպորտային միջոցի վարորդն է ճիշտ մուտք գործում շրջանաձև երթևեկությանը խաչմերուկ:



- 1. Երկու վարորդներն էլ:
- 2. Միայն ավտոբուսի վարորդը:
- 3. Միայն թեթև մարդատար ավտոմոբիլի վարորդը:

Պատ.՝1


Ո՞ր տրանսպորտային միջոցն ունի առաջնահերթ երթևեկության իրավունք:



- 1. Կարմիր ավտոմոբիլը, քանի որ մուտք է գործում շրջանաձև երթևեկությանը խաչմերուկ կապույտ ավտոմոբիլի աջ կողմից:
- 2. Կապույտ ավտոմոբիլը, քանի որ երթևեկում է շրջանաձև երթևեկությանը ճանապարհով:

Պատ.՝2

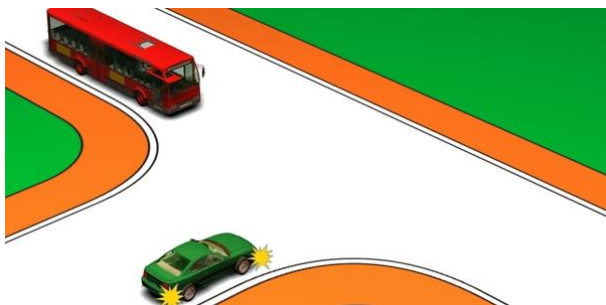
Ցույց տվեք խաչմերուկի անցման հերթականությունը՝



- 1. Կապույտը, կարմիրը՝ կանաչի հետ միաժամանակ:
- 2. Կարմիրը, կապույտը, կանաչը:
- 3. Կարմիրը՝ կանաչի հետ միաժամանակ, կապույտը:

Պատ.՝3


Կանաչ ավտոմոբիլի վարորդը՝



- 1. Ունի առաջնահերթ երթևեկության իրավունք:
- 2. Պետք է զիջի ճանապարհը:

Պատ.՝1


Խաչմերուկը վերջինը կանցնի՝



- 1. Կարմիր ավտոմոբիլը:
- 2. Կապույտ ավտոմոբիլը:
- 3. Կանաչ ավտոմոբիլը:

Պատ.՝3


Խաչմերուկը երկրորդը կանցնի՝



1. Կանաչ ավտոմոբիլը:
2. Կարմիր ավտոմոբիլը՝ կապույտի հետ միաժամանակ:
3. Դեղին ավտոմոբիլը:

Պատ.՝2


Ավտոմոբիլները խաչմերուկը կանցնեն հետեյալ հերթականությամբ՝



1. Կապույտը, կանաչը, կարմիրը:
2. Կարմիրը, կապույտը, կանաչը:
3. Կանաչը, կարմիրը, կապույտը:

Պատ.՝2


Խաչմերուկը երկրորդը կանցնի՝



1. Կանաչ ավտոմոբիլը:
2. Կապույտ ավտոմոբիլը:
3. Կարմիր ավտոմոբիլը:

Պատ.՝1


Կարմիր ավտոմոբիլը խաչմերուկը կանցնի՝



1. Երկրորդը՝ կապույտի հետ միաժամանակ:
2. Երկրորդը՝ դեղինից հետո:
3. Երրորդը՝ կանաչից եւ դեղինից հետո:

Պատ.՝1

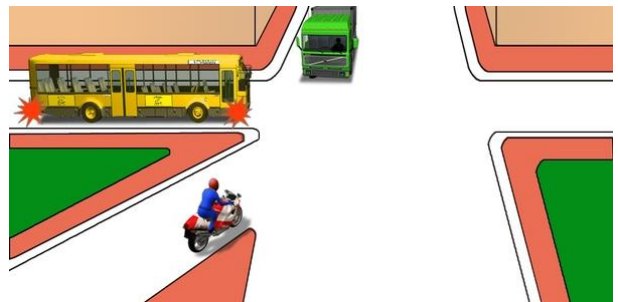
Դեղին ավտոմոբիլը խաչմերուկը կանցնի՝



1. Առաջինը:
2. Երկրորդը:
3. Երրորդը
4. Վերջինը:

Պատ.՝4

Ո՞ր պատասխանում է ճիշտ նշված անցման հերթականությունը:

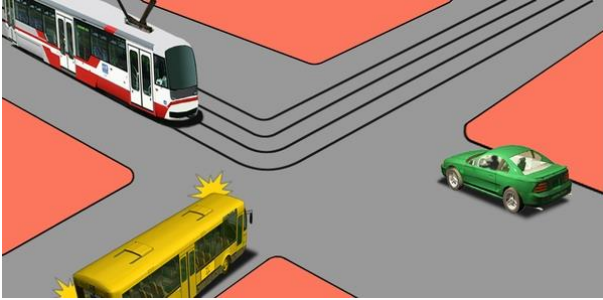


1. Մոտոցիկլը, ավտոբուսը, բեռնատար ավտոմոբիլը:
2. Ավտոբուսը, մոտոցիկլը, բեռնատար ավտոմոբիլը:
3. Ավտոբուսը, բեռնատար ավտոմոբիլը, մոտոցիկլը:

Պատ.՝1




Տրանսպորտային միջոցները խաչմերուկը կանցնեն հետեյալ հերթականությամբ՝



1. Թեթև մարդատար ավտոմոբիլը, ավտոբուսը, տրամվայը:
2. Տրամվայը, ավտոբուսը, թեթև մարդատար ավտոմոբիլը:
3. Տրամվայը, թեթև մարդատար ավտոմոբիլը, ավտոբուսը:

Պատ.՝3

Ո՞ր տրանսպորտային միջոցի վարորդը պետք է զիջի ճանապարհը:



1. Թեթև մարդատար ավտոմոբիլի վարորդը:
2. Ավտոբուսի վարորդը:

Պատ.՝2

Ո՞ր տրանսպորտային միջոցը պետք է զիջի ճանապարհը:



1. Կապույտ ավտոմոբիլը:
2. Կարմիր ավտոմոբիլը:

Պատ.՝2


Տրանսպորտային միջոցները խաչմերուկը կանցնեն հետեյալ հերթականությամբ՝



1. Դեղին ավտոբուսը, բեռնատար ավտոմոբիլը, կանաչ ավտոբուսը:
2. Բեռնատար ավտոմոբիլը, դեղին ավտոբուսը, կանաչ ավտոբուսը:
3. Դեղին ավտոբուսը, կանաչ ավտոբուսը, բեռնատար ավտոմոբիլը:

Պատ.՝2

Տրանսպորտային միջոցները խաչմերուկը կանցնեն հետեյալ հերթականությամբ՝



1. Ավտոբուսը, թեթև մարդատար ավտոմոբիլը եւ բեռնատար ավտոմոբիլը միաժամանակ:
2. Թեթև մարդատար ավտոմոբիլը եւ բեռնատար ավտոմոբիլը միաժամանակ, ավտոբուսը:

Պատ.՝1

Ի՞նչ հերթականությամբ կանցնեն խաչմերուկը տրանսպորտային միջոցները, եթե լուսացույցերը չեն աշխատում



1. Տրոլեյբուսը եւ մոտոցիկլը, ավտոբուսը եւ թեթև մարդատար ավտոմոբիլը:
2. Մոտոցիկլը, ավտոբուսը եւ թեթև մարդատար ավտոմոբիլը, տրոլեյբուսը:
3. Ավտոբուսը եւ թեթև մարդատար ավտոմոբիլը, տրոլեյբուսը եւ մոտոցիկլը:

Պատ.՝2


Տրանսպորտային միջոցները խաչմերուկը կանցնեն հետեւյալ հերթականությամբ՝



1. Բեռնատար ավտոմոբիլը, տրամվայը եւ ավտոբուսը, մոտոցիկլը եւ թեթեւ մարդատար ավտոմոբիլը:
2. Տրամվայը եւ ավտոբուսը, մոտոցիկլը եւ թեթեւ մարդատար ավտոմոբիլը, բեռնատար ավտոմոբիլը:

Պատ.՝1

Տրանսպորտային միջոցները խաչմերուկը կանցնեն հետեւյալ հերթականությամբ՝



1. «Շտապ օգնության» ավտոմոբիլը, տրամվայը, մոտոցիկլը, ավտոբուսը, թեթեւ մարդատար ավտոմոբիլը:
2. Մոտոցիկլը, ավտոբուսը, տրամվայը եւ «Շտապ օգնության» ավտոմոբիլը, թեթեւ մարդատար ավտոմոբիլը:

Պատ.՝2

Տրանսպորտային միջոցները խաչմերուկը կանցնեն հետեւյալ հերթականությամբ՝



1. Բեռնատար ավտոմոբիլը եւ մոտոցիկլը, ավտոբուսը, տրոլեյբուսը:
2. Բեռնատար ավտոմոբիլը եւ ավտոբուսը, մոտոցիկլը, տրոլեյբուսը:

Պատ.՝1


Տրանսպորտային միջոցները խաչմերուկը կանցնեն հետեւյալ հերթականությամբ՝



1. Բեռնատար ավտոմոբիլը, թեթեւ մարդատար ավտոմոբիլը, ավտոբուսը, ավտոցիստեռները:
2. Բեռնատար ավտոմոբիլը, ավտոբուսը, թեթեւ մարդատար ավտոմոբիլը, ավտոցիստեռները:

Պատ.՝1

Թեթեւ մարդատար ավտոմոբիլը խաչմերուկը կանցնի՝



1. Առաջինը:
2. Երկրորդը՝ ավտոբուսից հետո:
3. Երրորդը:

Պատ.՝2


Տրանսպորտային միջոցները խաչմերուկը կանցնեն հետեւյալ հերթականությամբ՝



1. Թեթեւ մարդատար ավտոմոբիլը, ավտոբուսը, բեռնատար ավտոմոբիլը:
2. Ավտոբուսը, բեռնատար ավտոմոբիլը, թեթեւ մարդատար ավտոմոբիլը:
3. Ավտոբուսը, թեթեւ մարդատար ավտոմոբիլը, բեռնատար ավտոմոբիլը:

Պատ.՝2

Տրանսպորտային միջոցները խաչմերուկը կանցնեն հետեւյալ հերթականությամբ՝



1. Բեռնատար ավտոմոբիլը, թեթև մարդատար ավտոմոբիլը, ավտոբուսը:
2. Ավտոբուսը, բեռնատար ավտոմոբիլը, թեթև մարդատար ավտոմոբիլը:
3. Ավտոբուսը, թեթև մարդատար ավտոմոբիլը, բեռնատար ավտոմոբիլը:

Պատ.՝1

Կարող են արդյո՞ք միաժամանակ կատարել ձախ շրջադարձն այս խաչմերուկում



1. Այո
2. Ոչ: Պետք է զիջի թեթև մարդատարի վարորդը
3. Ոչ: Պետք է զիջի բեռնատարի վարորդը

Պատ.՝1

Ո՞ւմ եք պարտավոր զիջել ճանապարհը տվյալ իրավիճակում



1. Միայն ավտոբուսին
2. Թեթև մարդատարին
3. Ոչ մեկին

Պատ.՝3

Այս իրավիճակում ձախ շրջադարձ կատարելիս



1. Կանցնեք խաչմերուկն առաջինը
2. Կզիջեք ճանապարհը բեռնատարի վարորդին

Պատ.՝1

Այս իրավիճակում աջ շրջադարձ կատարելիս



1. Կանցնեք խաչմերուկն առաջինը
2. Կզիջեք ճանապարհը թեթև մարդատարի վարորդին

Պատ.՝1

Ձախ շրջադարձ կատարելիս պարտավոր եք զիջել ճանապարհը



1. Թեթև մարդատարի և Ա տրամվայի վարորդներին
2. Միայն Ա տրամվայի վարորդին
3. Տրամվայների վարորդներին
4. Ոչ ոքի

Պատ.՝2

Երթևեկությունն ուղիղ շարունակելու դեպքում



1. Խաչմերուկն առաջինը կանցնեք
2. Կանցնեք թեթև մարդատարի անցնելուց հետո

Պատ.՝2

Այս իրավիճակում հետադարձ կատարելիս անհրաժեշտ է ճանապարհը զիջել



1. Թեթև մարդատարին
2. Երկու վարորդներին

Պատ.՝1

Այս իրավիճակում խաչմերուկն անցնելիս հետիոտներին խոչընդոտ չստեղծել



1. Պարտավոր ենք
2. Պարտավոր չենք

Պատ.՝1

Խաչմերուկից անմիջապես հետո գոյացած խցանման պայմաններում մուտք գործելը խաչմերուկ թույլատրելի է միայն



1. Եթե երթևեկությունն ուղիղ ենք շարունակելու
2. Եթե շրջադարձ կամ հետադարձ ենք կատարելու
3. Թվարկված բոլոր դեպքերում:

Պատ.՝2

Չիջել ճանապարհը պարտավոր ենք



1. Մտոնցիկի վարորդին
2. Թեթև մարդատարին
3. Ոչ ոքի

Պատ.՝3

Խաչմերուկն անցնելիս վարորդը պարտավոր է զիջել ճանապարհը



1. Միայն տրամվայների վարորդներին
2. Թեթև մարդատարի և տրամվայ Բ-ի վարորդին
3. Ոչ ոքի
4. Բոլորին

Պատ.՝2

Այս իրավիճակում ձախ շրջադարձ կատարելիս պարտավոր ենք զիջել ճանապարհը



1. Թեթև մարդատարի վարորդին
2. Ավտոբուսի վարորդին
3. Ոչ ոքի

Պատ.՝3

Պարտավոր ենք զիջել ճանապարհը



1. Միայն տրամվայի վարորդին
2. Բեռնատարի վարորդին
3. Երկու վարորդներին

Պատ.՝3

Ճանապարհը պետք է զիջեք



1. Ավտոբուսի վարորդին
2. Երկու վարորդներին
3. Ոչ ոքի

Պատ.՝3

Այս իրավիճակում խաչմերուկն անցնելիս զիջել ճանապարհը



1. Պարտավոր եք
2. Պարտավոր չեք

Պատ.՝2

Խաչմերուկն անցնելիս այս իրավիճակում



1. Առաջինն անցնելու իրավունք ունենք
2. Պետք է զիջենք տրամվայի վարորդին
3. Պետք է զիջենք բեռնատարի վարորդին
4. Պետք է զիջենք բոլոր վարորդներին

Պատ.՝1

«Շրջանաձև երթևեկություն» նշանով կահավորված շրջանաձև երթևեկությամբ խաչմերուկ մուտք գործելիս տրանսպորտային միջոցի վարորդը

1. պարտավոր է ճանապարհը զիջել այդ խաչմերուկում երթևեկող տրանսպորտային միջոցներին
2. ունի երթևեկության առավելություն արդեն իսկ այդ խաչմերուկում երթևեկողների նկատմամբ:

Պատ.՝1

Այս իրադրությունում ձախ շրջադարձի ժամանակ պարտավոր ենք զիջել ճանապարհը



1. Բոլոր վարորդներին
2. Միայն թեթև մարդատարի վարորդին
3. Ավտոբուսի և թեթև մարդատարի վարորդներին

Պատ.՝3

Ո՞ր վարորդն է պարտավոր չխոչընդոտել հետիոտներին



1. Թեթև մարդատարի վարորդը
2. Բեռնատարի վարորդը
3. Երկու վարորդները

Պատ.՝3

Այս իրավիճակում վարորդը կարող է՝ կատարել ձախ շրջադարձը



1. Այո
2. Այո, եթե չի խոչընդոտի բեռնատարի վարորդին
3. Ոչ

Պատ.՝2

Այս իրադրությունում ձախ շրջադարձ կատարելիս վարորդը



1. Պետք է զիջի ճանապարհը
2. Կանցնի խաչմերուկն առաջինը

Պատ.՝1

Նշանները հայտնում են, որ



1. 200 մետրից ճանապարհը հատվողին զիջելու անհրաժեշտություն է լինելու:
2. 200 մետր հատվածում պետք է զիջենք բոլորին:

Պատ.՝1

Երկրորդ անցում ձախ շրջադարձ կատարելու դեպքում վարորդն



1. Ունի առավելություն
2. Պետք է զիջի մյուս վարորդներին
3. Պետք է զիջի ավտոբուսի վարորդին

Պատ.՝3

Խաչմերուկն ուղիղ անցնելիս վարորդը



1. Կարող է առաջինն անցնել
2. Պետք է զիջի տրամվային
3. Պետք է զիջի երկու վարորդներին

Պատ.՝2

Ձախ շրջադարձ կատարելիս վարորդն ո՞ւմ է պարտավոր զիջել



1. Ավտոբուսի վարորդին
2. Թեթև մարդատարի վարորդին
3. Ոչ ոքի

Պատ.՝1

Այս խաչմերուկ մուտք գործելիս վարորդը



1. Ունի առաջնահերթ երթևեկության իրավունք
2. Պետք է զիջի բեռնատարին
3. Երկու վարորդներին պետք է զիջի

Պատ.՝3

Ձախ շրջադարձ կատարելիս վարորդն ո՞ւմ է պարտավոր զիջել



1. Երկու վարորդներին
2. Թեթև մարդատարի վարորդին
3. Ավտոբուսի վարորդին

Պատ.՝1

Այս իրադրությունում զիջել պարտավոր ենք



1. Երկու վարորդներին
2. Միայն հանդիպակացից մուտեցող բեռնատարին

Պատ.՝1

Ձախ շրջադարձ կատարելիս



1. Խաչմերուկն առաջինը կանցնեք
2. Կզիջեք ճանապարհը

Պատ.՝1

Աջ շրջադարձն այս իրադրությանը կատարում ենք



1. Խաչմերուկն առաջինն անցնելով
2. Չիջում ենք ճանապարհը թեթև մարդատարի վարորդին
3. Չիջում ենք ճանապարհը երկու վարորդներին

Պատ.՝1

Աջ շրջադարձ կատարելիս



1. Պետք է զիջեք ճանապարհը
2. Կարող եք անցնել առաջինը

Պատ.՝2

Ձախ շրջադարձ կատարելիս պետք է ճանապարհը զիջեք



1. Ավտոբուսի և մոտոցիկլի վարորդներին
2. Ավտոբուսի վարորդին
3. Բոլորին

Պատ.՝3

Ձախ շրջադարձ կատարելիս



1. Կանցնեք առաջինը թեթև մարդատարի հետ միաժամանակ
2. Կանցնեք մոտոցիկլից հետո

Պատ.՝2

Ուղիղ երթևեկելիս պարտավոր եք զիջել



1. Երկու վարորդներին
2. Միայն թեթև մարդատարին
3. Ոչ ոքի

Պատ.՝1

Տրամվային զիջել



1. Պարտավոր ենք
2. Պարտավոր չենք

Պատ.՝1



Այս իրավիճակում ե՛րբ է թույլատրվում աջ շրջադարձը կատարել



1. Անմիջապես
2. Բեռնատարին չխոչընդոտելու դեպքում՝ նրա անցման հետ միաժամանակ
3. Բեռնատարի անցումից հետո

Պատ.՝2

Խաչմերուկն ուղիղ անցնելիս պարտավոր եք զիջել ճանապարհը



1. Միայն Ա տրամվայի վարորդին
2. Միայն Բ տրամվայի վարորդին
3. Երկու վարորդներին
4. Ոչ ոքի

Պատ.՝3

Ձախ շրջադարձ կատարելիս պարտավոր եք զիջել ճանապարհը



1. Միայն ավտոբուսի վարորդին
2. Երկու վարորդներին
3. Ոչ ոքի

Պատ.՝1

Ո՛վ առաջինը կանցնի խաչմերուկը



1. Բեռնատարի վարորդը
2. Տրոլեյբուսի վարորդը
3. Կանոններն այս դեպքը չեն կանոնակարգում: Վարորդները կանցնեն փոխադարձ հարգանք ցուցաբերելով:

Պատ.՝3

Հետիոտներին չխոչընդոտել վարորդը պարտավոր է



1. Միայն ձախ շրջադարձ կատարելիս
2. Միայն աջ շրջադարձ կատարելիս
3. Երկու դեպքերում նմանապես

Պատ.՝3

Աջ շրջադարձի ժամանակ պարտավոր եք ճանապարհը զիջել



1. Հետիոտներին և հեծանվորդներին
2. Միայն հետիոտներին

Պատ.՝1

Ձախ շրջադարձ կատարելիս պարտավոր եք ճանապարհը զիջել



1. Միայն թեթև մարդատարի վարորդին
2. Թեթև մարդատարի և ավտոբուսի վարորդին
3. Ոչ ոքի

Պատ.՝1

Երբ վարորդը չի կարող որոշել ճանապարհի ծածկույթի անկայությունը (օրվա մուժ ժամանակ, ցեխ, ձյուն և այլն), և բացակայում են առավելության նշանները, ապա

1. Նա պետք է համարի, որ գտնվում է երկրորդական ճանապարհի վրա
2. Նա պետք է առաջնորդվի հավասարազոր խաչմերուկի անցման կանոններով:

Պատ.՝1

Այս իրավիճակում զիջել ճանապարհը պարտավոր ենք



1. Բոլոր վարորդներին
2. Միայն բեռնատարի վարորդին
3. Միայն թեթև մարդատարի վարորդին

Պատ.՝1

Չիջել ճանապարհը պարտավոր ենք



1. Թեթև մարդատարի վարորդին
2. Ավտոբուսի և թեթև մարդատարի վարորդներին
3. Բոլոր վարորդներին

Պատ.՝2

Այս խաչմերուկում հետադարձ կատարելիս



1. Առաջինը կկատարեն մանևրը
2. Պետք է զիջել ճանապարհը մյուս վարորդին

Պատ.՝2

Լուսացույցի դեղին թարթող ազդանշանի պայմաններում խաչմերուկն ուղիղ անցնելիս պարտավոր ենք



1. Կանգնել և սպասել կանաչ թույլատրող ազդանշանի միանալուն
2. Չիջել թեթև մարդատարի վարորդին
3. Չիջել տրամվայի վարորդին

Պատ.՝2

Ուղիղ երթևեկելու դեպքում



- 1. Կարող եք խաչմերուկն առաջինն անցնել
- 2. Պետք է զիջել ճանապարհը

Պատ.՝2

Հետադարձ կատարելիս ո՛ւմ պետք է զիջեք ճանապարհը



- 1. Բեռնատարի վարորդին
- 2. Թեթև մարդատարի վարորդին
- 3. Երկու վարորդներին

Պատ.՝1

Ձախ շրջադարձ կատարելիս տրամվային զիջել



- 1. Պարտավոր եք
- 2. Պարտավոր չեք

Պատ.՝1

Այս խաչմերուկում ծածկույթ չունեցող ճանապարհից մուտեցող բեռնատարին զիջել



- 1. Պարտավոր եք, քանի որ մուտեցել է մեզ աջ կողմից
- 2. Պարտավոր չեք, քանի որ կոշտ ծածկույթով ճանապարհը գլխավոր է հանդիսանում ծածկույթ չունեցողի նկատմամբ

Պատ.՝2

Լուսացույցի դեղին թարթող ազդանշանի պարագայում



- 1. Պետք է սպասենք կանաչ ազդանշանի միանալուն
- 2. Կանցնենք խաչմերուկը զիջելով լծասայլի վարորդին
- 3. Թեթև մարդատարի հետ միաժամանակ կանցնեք խաչմերուկը

Պատ.՝2

Ձախ շրջվելիս պարտավոր եք զիջել ճանապարհը



- 1. Թեթև մարդատարի վարորդին
- 2. Ավտոբուսի վարորդին
- 3. Մոտոցիկլի վարորդին
- 4. Ոչ ոքի

Պատ.՝4

Այս իրավիճակում



- 1. Չիջել ճանապարհը բեռնատարի վարորդին պարտավոր ենք
- 2. Կարող ենք տրամվայի հետ միաժամանակ անցնել խաչմերուկը:

Պատ.՝1

Խաչմերուկն անցնելիս զիջել պարտավոր ենք



- 1. Մոտոցիկլի վարորդին
- 2. Մոտոցիկլի և ավտաբուսի վարորդներին
- 3. Ավտոբուսի և թեթև մարդատարի վարորդներին
- 4. Բոլոր վարորդներին

Պատ.՝4

Այս իրադրությունում ճանապարհը պետք է զիջեք



- 1. Միայն տրամվայի վարորդին
- 2. Թեթև մարդատարի վարորդին
- 3. Թեթև մարդատարի և տրամվայի վարորդներին
- 4. Բոլոր վարորդներին

Պատ.՝3

Այս իրավիճակում ձախ շրջադարձ կատարելիս



- 1. Խաչմերուկը կանցնեք առաջինը
- 2. Մուտք գործելով խաչմերուկ կզիջեք ճանապարհը մոտոցիկլի վարորդին և հետո կավարտեք մանևրը

Պատ.՝2

Խաչմերուկն ուղիղ անցնելիս անհրաժեշտ է ճանապարհը զիջել



- 1. Բեռնատարի վարորդին
- 2. Թեթև մարդատարի վարորդին
- 3. Երկու վարորդներին

Պատ.՝3

Այս իրադրությունում



- 1. Խաչմերուկը կանցնեք առաջինը
- 2. Կզիջեք ճանապարհը թեթև մարդատարի վարորդին
- 3. Կզիջեք ճանապարհը երկու վարորդներին

Պատ.՝2

Չիջել պարտավոր ենք



1. Երկու վարորդներին
2. Թեթև մարդատարի վարորդին
3. Ավտոբուսի վարորդին

Պատ.՝1

Այստեղ խաչմերուկը



1. Առաջինը կանցնեք
2. Կզիջեք ճանապարհը բեռնատարին

Պատ.՝2

Չիջել ճանապարհը տրամվայի վարորդին



1. Պարտավոր ենք
2. Պարտավոր չենք

Պատ.՝1

Ձախ շրջադարձ կատարելիս պետք է զիջել



1. Բեռնատարի վարորդին
2. Երկու վարորդներին
3. Ոչ ոքի

Պատ.՝1

Այս խաչմերուկում



1. Կզիջեք ճանապարհը
2. Կանցնեք առաջինը

Պատ.՝2

Տրամվային զիջել



1. Պարտավոր ենք
2. Պարտավոր չենք

Պատ.՝1

Այս իրավիճակում աջ շրջադարձը թույլատրվում է



1. Միայն բեռնատարից հետո
2. Բեռնատարի հետ միաժամանակ, եթե դա չի խոչընդոտի բեռնատարի վարորդին

Պատ.՝2

Ո՞ր տրամվայի վարորդին եւք պարտավոր զիջել ճանապարհը



1. Միայն Ա
2. Միայն Բ
3. Երկու տրամվայների

Պատ.՝3

Ուղիղ երթուղեկա պետք է զիջել



1. Թեթև մարդատարի վարորդին
2. Բոլորին
3. Ոչ մեկին

Պատ.՝1

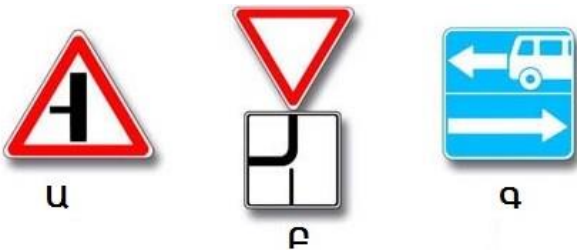
Այս իրադրությունում զիջել անհրաժեշտ է



1. Ավտոբուսի վարորդին
2. Բեռնատարի վարորդին
3. Երկու վարորդներին

Պատ.՝3

Ո՞ր նշանի դեպքում խաչմերուկում պետք է զիջեք ձախից մտնեցող վարորդներին



1. Միայն Ա
2. Միայն Բ
3. Ա և Բ
4. Բոլոր

Պատ.՝2


Ո՞ր նկարում է պատկերված գլխավոր ճանապարհ



1. Միայն ձախ
2. Նեքևի և ձախ
3. Բոլոր

Պատ.՝2

Ո՞ր նկարում է պատկերված գլխավոր ճանապարհ



1. Միայն աջ
2. Աջ և ներքևի
3. Բոլոր

Պատ.՝2

Ո՞ր նկարում է պատկերված գլխավոր ճանապարհ



1. Վերին ձախ
2. Վերին աջ
3. Վերևի նկարներում
4. Բոլոր

Պատ.՝3

Խաչմերուկում ո՞ր ճանապարհին է համարվում գլխավոր

1. Կոշտ ծածկույթով (ասֆալտբետոն, ցեմենտբետոն, քարե կյուբեր և այլն) ճանապարհիը հողային ծածկույթ ունեցողի նկատմամբ
2. Եռագոտի ճանապարհիը ամեն ուղղությամբ մեկ գոտի ունեցողի նկատմամբ
3. Ասֆալտբետոնե ճանապարհիը սալիկապատ ճանապարհի նկատմամբ

Պատ.՝1